



$$(17 + 19) : 4$$


$$3 \times 8 : 4$$


$$54 - (91 - 63)$$


№1

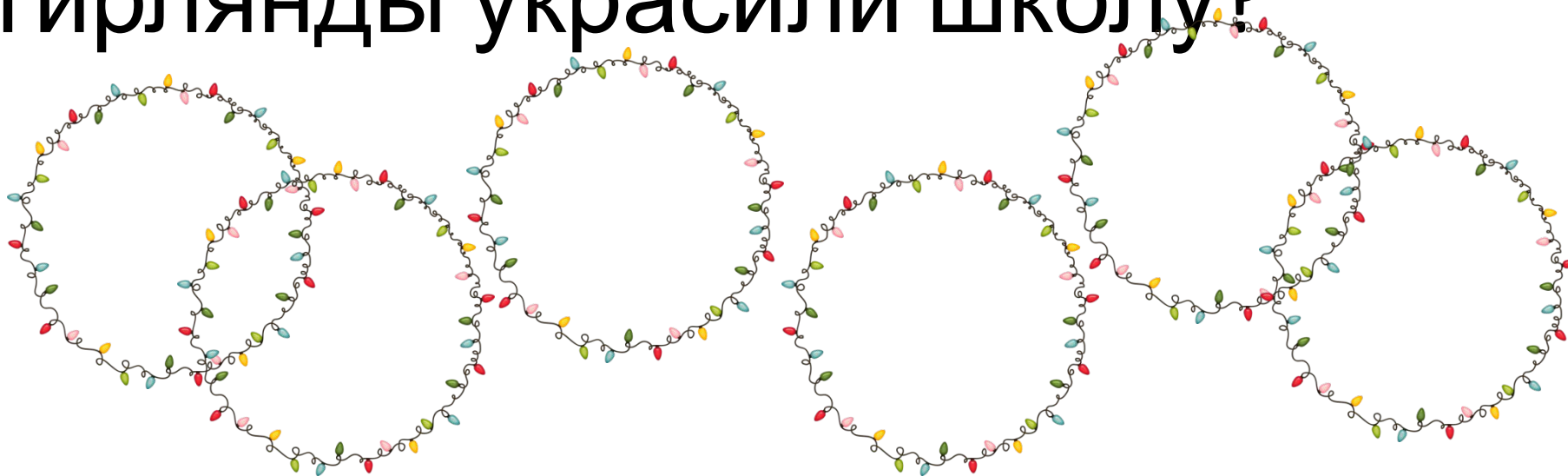
К спектаклю сшили костюм Снегурочки, на него ушло 3м ткани, и 4 костюма Снежинок, по 2м на каждый. Сколько всего метров ткани понадобилось?





№2

Для украшения школы купили одну гирлянду длиной 12м и 6 гирлянд по 4м. Сколько метров гирлянды украсили школу?



№3

Найдите периметр хоккейной коробки, если её длина 24м, а ширина 13м.

