


# Какие геометрические фигуры нарисовал карандаш?



Геометрия- это  
таинственная страна, где  
живут точки, прямые  
линии, прямоугольники,  
квадраты, треугольники и  
еще много-много других  
фигур

Олег Кургузов  
«Полезный  
прямоугольник»



9 апреля

«Решение задач с  
геометрическим  
содержанием»

# РАЗМИНКА



**Р 1 на**

Родина

ПО 2 Л

Подвал

С з ж

Стриж



40 А

Сорока










*Сколько  
треугольников  
изображено на  
рисунке?*



Сколько всего  
треугольников?

10



Сколько всего  
прямоугольников?

9



СКОЛЬКО ВСЕГО

КЕ

1  
4






**ФИЗКУЛЬТМИНУТКА**



30



Какую форму имеет беговая дорожка?  
 Кто сколько пробежал?  
 Узнайте длину беговой дорожки?



25




12



18


7

# Танграм



Соберите картинку. Хитрая плутовка,  
рыжая головка,  
Хвост пушистый -  
краса!


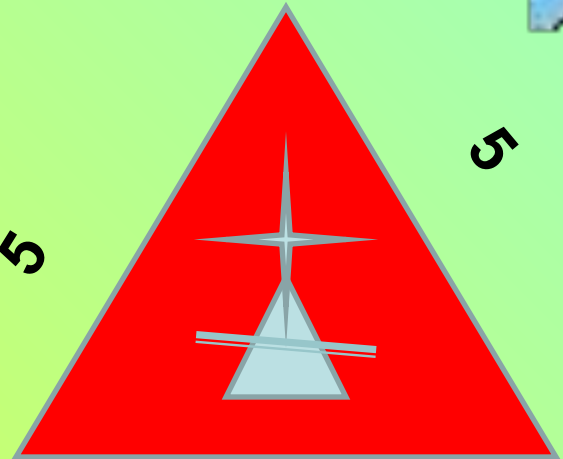

А зовут ее... (Лиса)



# «Страна

У какого королевства самая длинная граница?

## Геометрия»





# Практическое

## задание

Начерти друг за другом *треугольник*, *прямоугольник* и *квадрат* так, чтобы *зелёный треугольник* был между *синим прямоугольником* и *красным квадратом*, а квадрат был на первом месте.

**Проверь себя:**



Какие из данных фигур являются  
ломанными линиями?

V

O

N

S

Z

C

M

# ПОМОГИТЕ УЗНАТЬ ПЕРИМЕТР

## КЕРАМЫ



13

М

10

М

М

10



13 М





**УГЛ**



**Ы**

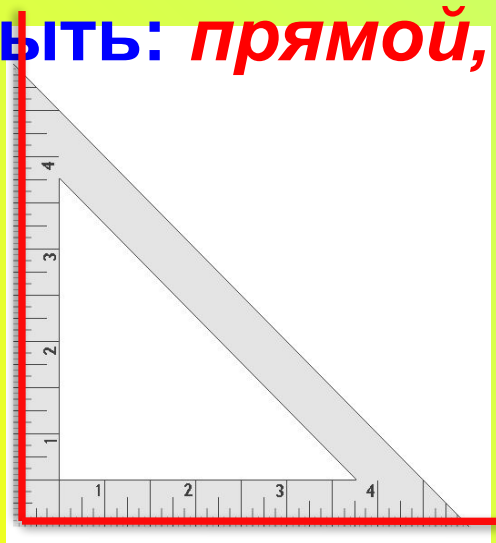
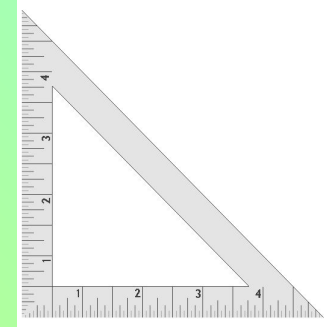
*Я с детства не любил  
овал.*

*Я с детства угол  
рисовал...*

*П. Коган*



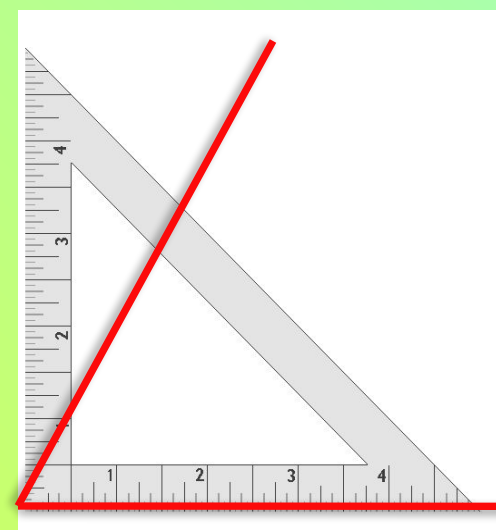
Отгадайте загадку:  
И понимает каждый  
школьник, *Угольники*  
Что очень нужен мне..к  
Угол может  
быть: *прямой, тупой, острый.*



*прямой  
угол*



*тупой  
угол*



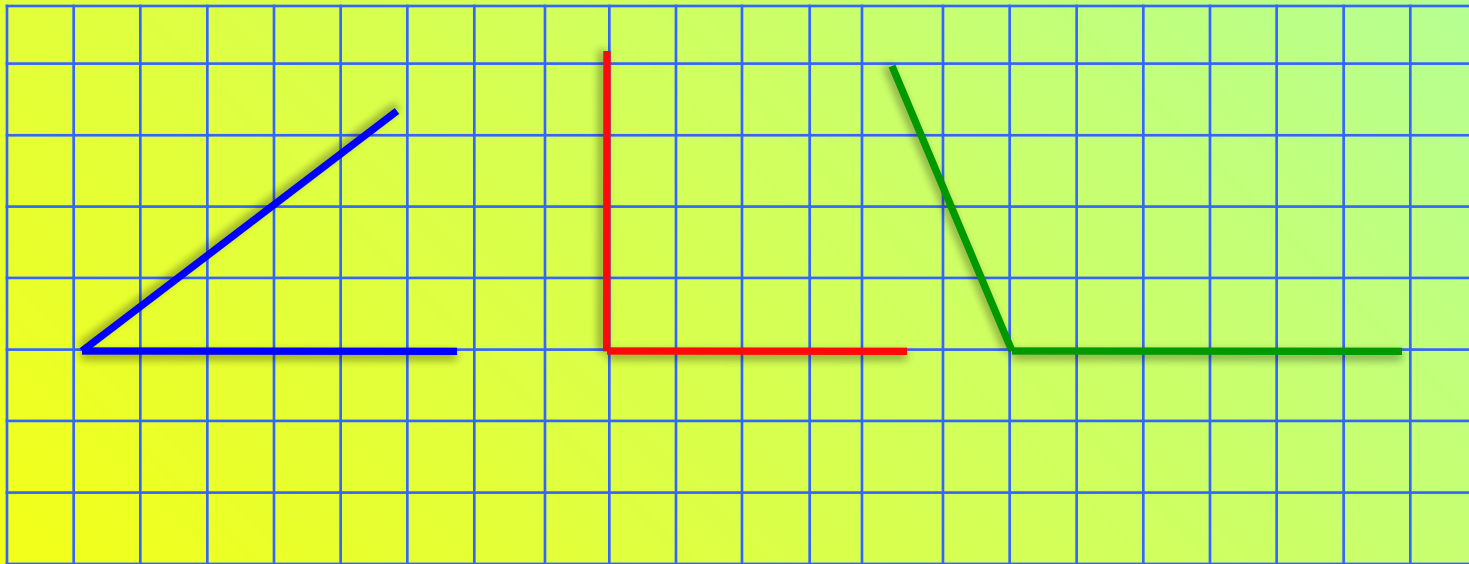
*остры  
й угол*

Отгадайте загадку:

Он и острый, да не нос,  
И прямой, да не вопрос,  
И тупой он, да не ножик,  
-Что еще таким быть может?




*Угол*

Задание. *Начертите все виды углов.*



*Назовите  
углы?*

Дорисуй каждую из этих фигур так, чтобы превратить её в тот или иной предмет?



**А что  
нарисовали  
вы?**

