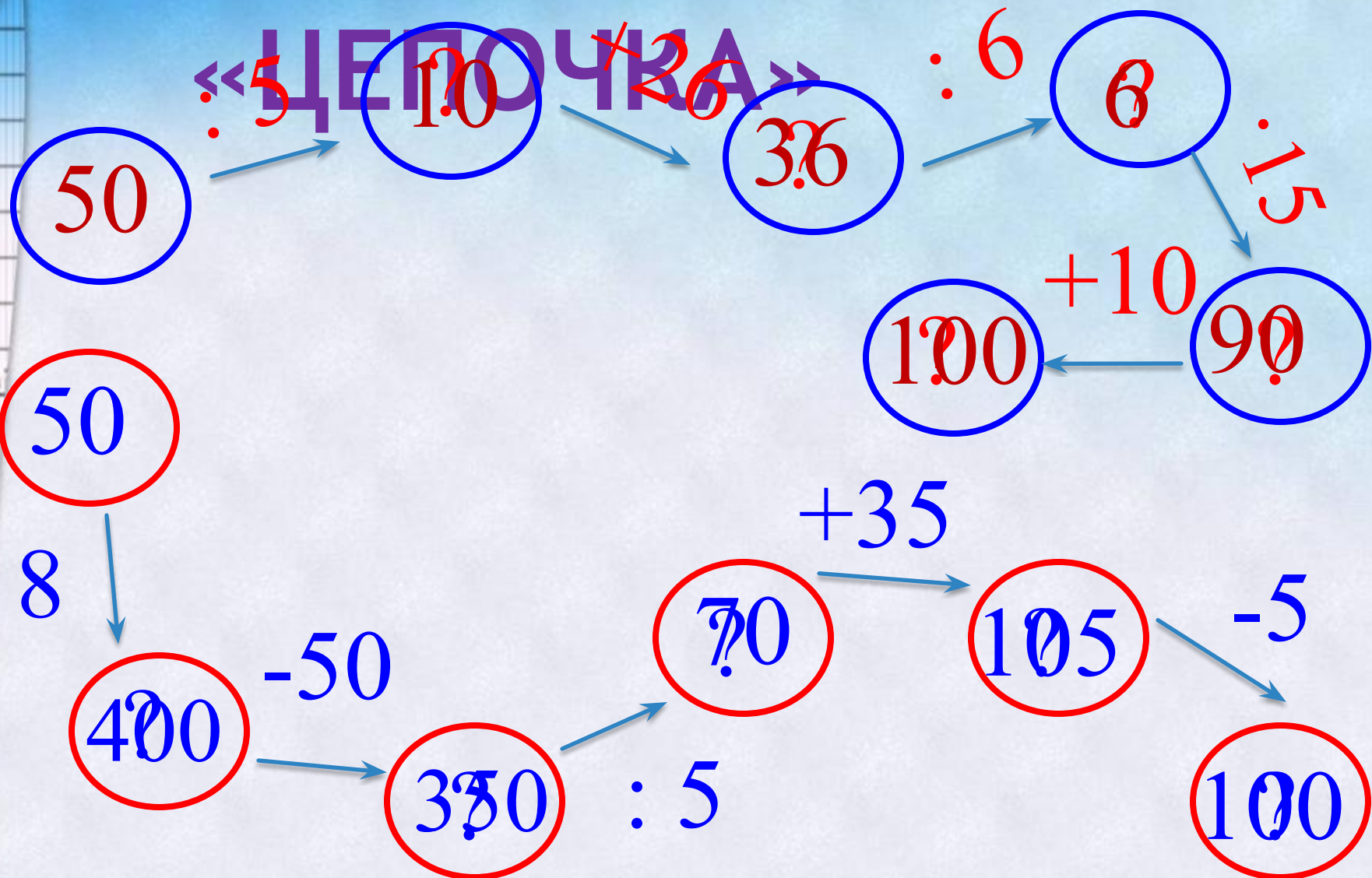


**МАТЕМАТИКА ПОВСЮДУ,
ГЛАЗОМ ТОЛЬКО ПОВЕРНЕШЬ
И ПРИМЕРОВ СРАЗУ УЙМУ
ТЫ ВОКРУГ СЕБЯ НАЙДЕШЬ.**

ИГРА

«ЦЕПОЧКА»



ВЫЧИСЛИ УДОБНЫМ СПОСОБОМ:

$$(6+18):4$$

$$(6+20) \times 7$$

$$(32+16)+8$$

$$(51+5):7$$

$$(2 \times 18) \times 5$$

$$(64+32):8$$

ВЫЧИСЛИ УДОБНЫМ СПОСОБОМ:

$$(6+18):4=6$$

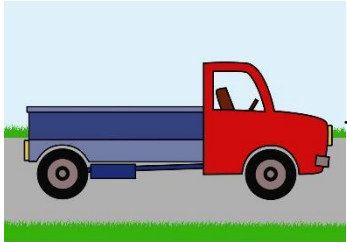
$$(51+5):7=8$$

$$(6+20) \times 7 = 182$$

$$(2 \times 18) \times 5 = 180$$

$$(32+16)+8=56$$

$$(64+32):8=12$$




50км/ч

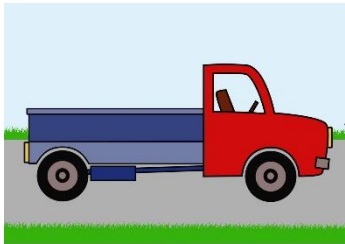
3 часа

?

км




$50 \times 3 = 150$ (км) - проехал грузовик



50 км/ч

3 часа



150 км



10

10 ¥

21

SMILE
キャンペーン

共選
鍋子野菜連合会
JAちばみどり JA全農ちば

元
3L 2L L M BL
美杯詰
鍋子 野菜連合会

元
3L 2L L M BL
美杯詰
鍋子 野菜連合会

元
3L 2L L M BL
美杯詰
鍋子 野菜連合会

共選
利根沼田産協同組合

謙信のゆたけ
SHINNO NO YUTAKE

謙信のゆたけ
SHINNO NO YUTAKE

謙信のゆたけ
SHINNO NO YUTAKE

謙信のゆたけ
SHINNO NO YUTAKE

謙信のゆたけ
SHINNO NO YUTAKE



7



3




8



Количество - это множество товара.

Стоимость - это количество денег, которые заплатили за товар.

Цена - это стоимость одного предмета.




УРОК
МАТЕМАТИКИ
В 3 КЛАССЕ
Цена.

Количество.
Стоимость.

Решаем задачи

1. Коля заплатил за блокнот, книгу и диск 385 рублей. Блокнот стоит 135 рублей, диск — 40 рублей. Сколько стоит книга?



Стоимость
блокнота

+



Стоимость
книги

+



Стоимость
диска

=

ИТОГО:

385 руб

Общая
стоимость

Если в схему подставить известные числа,

то получим равенство с неизвестным:

$$135 + \square + 40 = 385$$

Применим перестановку слагаемых:

$$135 + 40 + \square = 385$$

И выполним сложение известных чисел:

$$175 + \square = 385$$

- Найди неизвестное слагаемое и ответь на вопрос задачи.

2. Подставь в схему к заданию 1 данные. Составь ра-

Цена блокнота	Цена книги	Цена диска	Общая стоимость
? руб.	150 руб.	60 руб.	265 руб.
35 руб.	? руб.	87 руб.	197 руб.
52 руб.	200 руб.	? руб.	289 руб.

а) У мамы было 496 рублей. Она купила на 254 рубля продуктов и ещё билет на ёлку. У неё осталось 102 рубля. Сколько стоит билет на ёлку?



Сумма
денег

—



Стоимость
продуктов

—



Стоимость
билета

=



Остаток

Подставь в схему числа и составь равенство.

Подумай, как упростить выражение слева от знака равенства.
Какое действие можно выполнить? Найди неизвестное.


б) Составь задачу, в которой было бы неизвестно, сколько стоят продукты.

физминутка



Тихо все, ребята, встали,
Руки дружно все подняли,
Развели их в стороны,
Посмотрели, ровно ли,
Опустили разом вниз,
Тихо, тихо все садись.





У мамы
осталось...

40

13

8

?

26

8

?

7

54

?

17


25

?


40

50


30



Вы столкнулись на уроке с трудностями, но преодолели их сами и теперь можете помочь другим.



Вы считаете, что знакомы с новыми понятиями, но вам ещё нужна помощь.



Вы считаете, что справлялись легко со всеми заданиями на уроке, ничего нового для себя не открыли.

ДОМАШНЕЕ ЗАДАНИЕ



Страница 15 №4, №6

