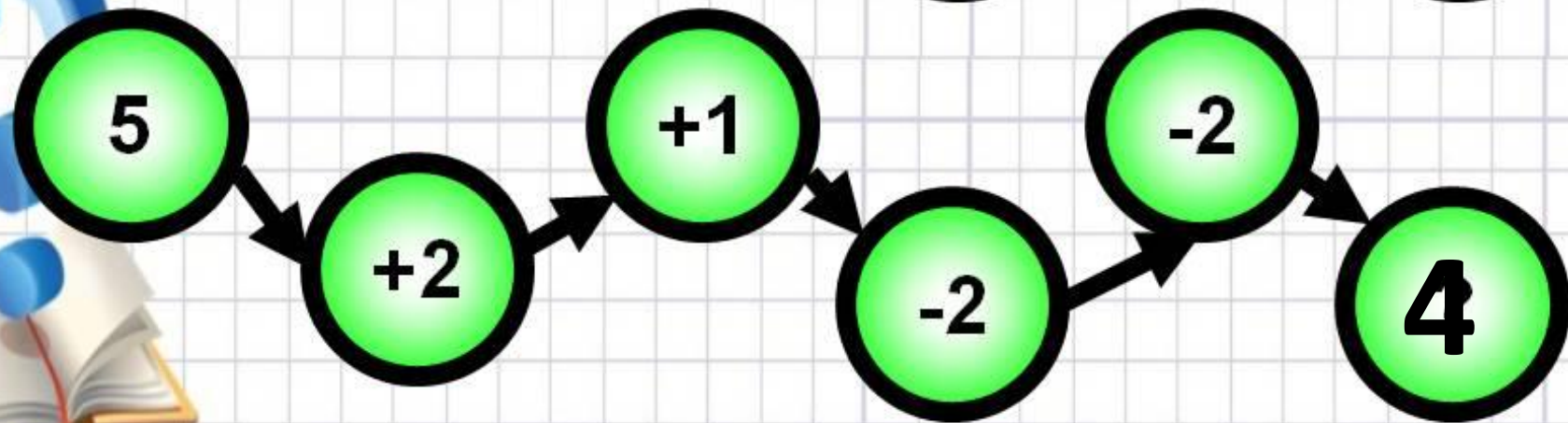
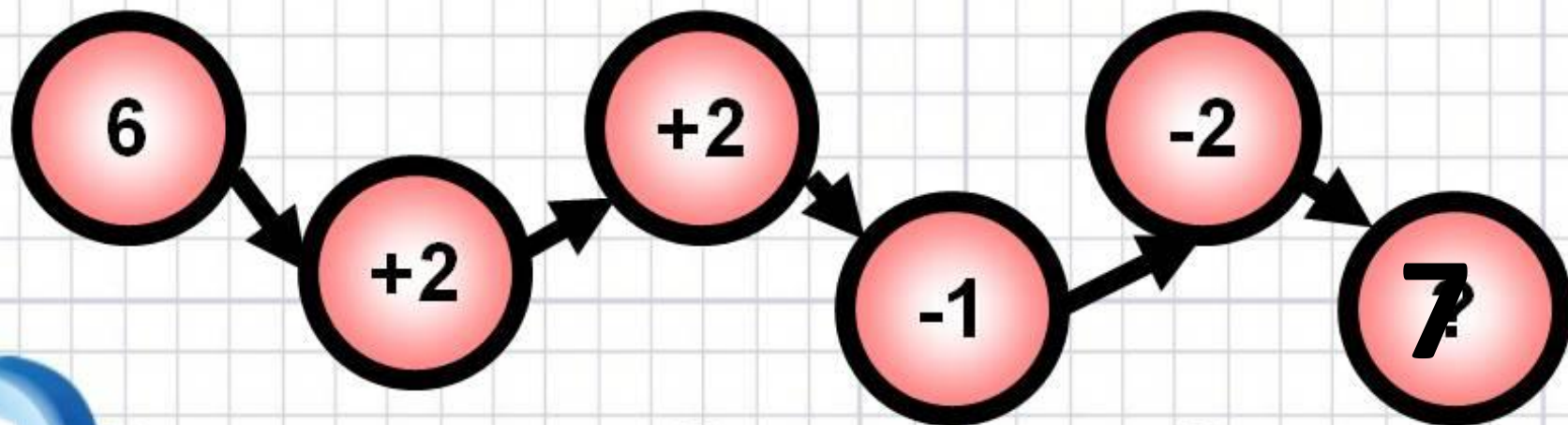



Найди ответ в конце цепочки







$$5 + 5$$

$$6 + 4$$

$$7 + 3$$

$$8 + 2$$

$$9 + 1$$

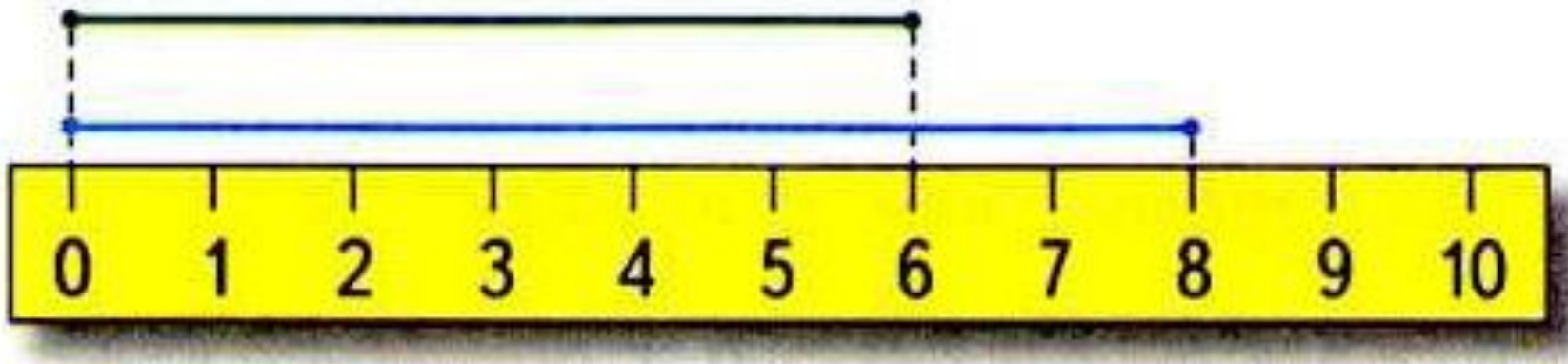
Уменьшаемое	8	9	9	9	10	10	10
Вычитаемое	3	4	5	6	7	8	9
Разность	5	5	4	3	3	2	1

Задача2

В нашем доме 5 этажей, а в соседнем — на 3 этажа больше.

Узнай, сколько этажей в соседнем доме.

**ОТВЕТ: 8 ЭТАЖЕЙ В СОСЕДНЕМ
ДОМЕ.**



$$8-6=2(\text{см})$$

Ответ: На 2 см зелёный отрезок короче.

Задача 4

В деревне на одной улице деревянные и каменные дома, всего 10 домов. Каменных домов 3. Сколько деревянных домов на этой улице?

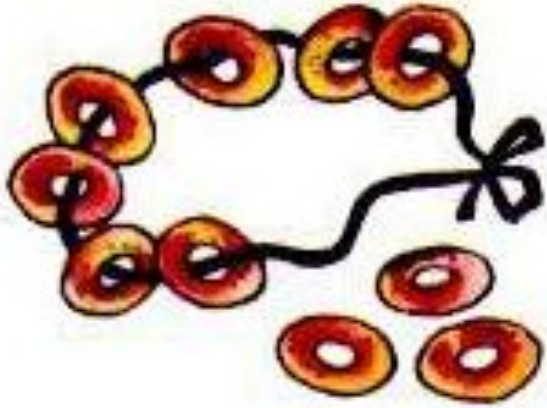
$$10-3=7(\text{д.})$$

Ответ: 7 деревянных домов на улице.

$$10 - 5 + 4 = 9$$

$$2 + 8 - 6 = 4$$

$$3 + 7 - 8 = 2$$



$$7+3=10(\text{б.})$$

Ответ: 10 баранок купили.



$$7-5=2(\text{п.})$$

Ответ: 2 пироженых осталось в пакете.

Задача 2

Папа подтянулся на турнике 10 раз, а сын — 6. На сколько раз больше подтянулся папа, чем сын?

Задача 3

Коле 9 лет, а его сестра на 2 года моложе. Сколько лет Колиной сестре?

Задача6

В двух корзинах грибов было поровну. На суп взяли из одной корзины 7 грибов, а из другой — 5 грибов. В какой корзине грибов осталось больше и на сколько? Объясни почему.

$$7-5=2(\text{г.})$$

**Ответ: На 2 гриба больше
осталось во II корзине.**

$$10 - 2 = 8$$

$$8 - 3 = 5$$

$$8 - 6 = 2$$

$$3 + 7 - 8 = 2$$

$$2 + 6 - 7 = 1$$

$$4 + 5 - 7 = 2$$

$$2 + 6 = 8$$

$$1 + 9 = 10$$

$$3 + 5 = 8$$

$$10 - 6 = 4$$

$$9 - 8 = 1$$

$$10 - 7 = 3$$

5.

