

Вас приветствуют учащиеся кружка «Математический калейдоскоп»



Математический турнир

2 класс

Разминка







Найди лишнее число



21, 24, 30, 16, 18, 9

Какая фигура лишняя?



Отгадай ребусы

100 ЛИЦА

100 ЛБ

ПО 2 Л


40 А

7 Я


Будь внимательным



Сколько на чертеже
различных треугольников?

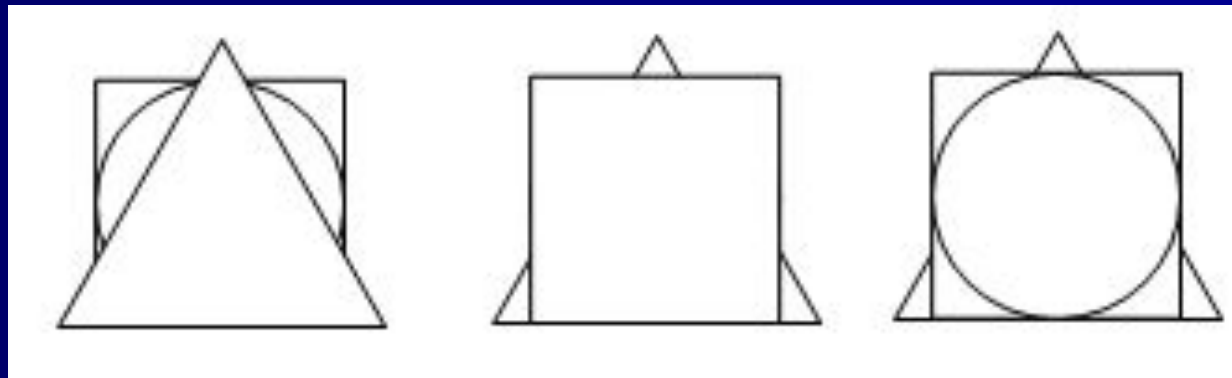


Проверь: 7 

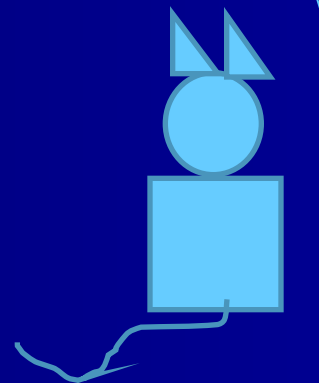

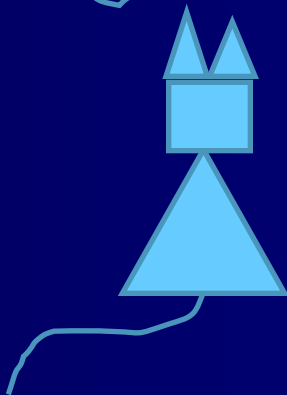

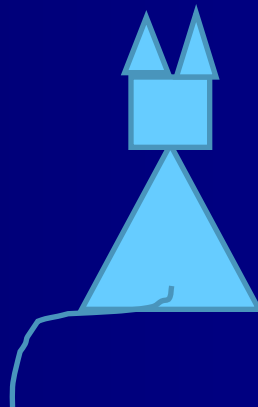

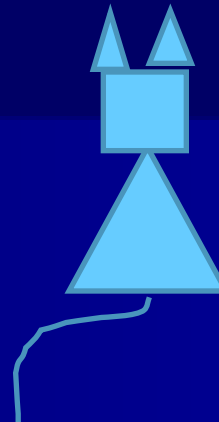
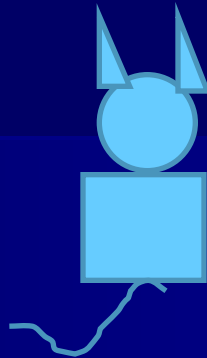



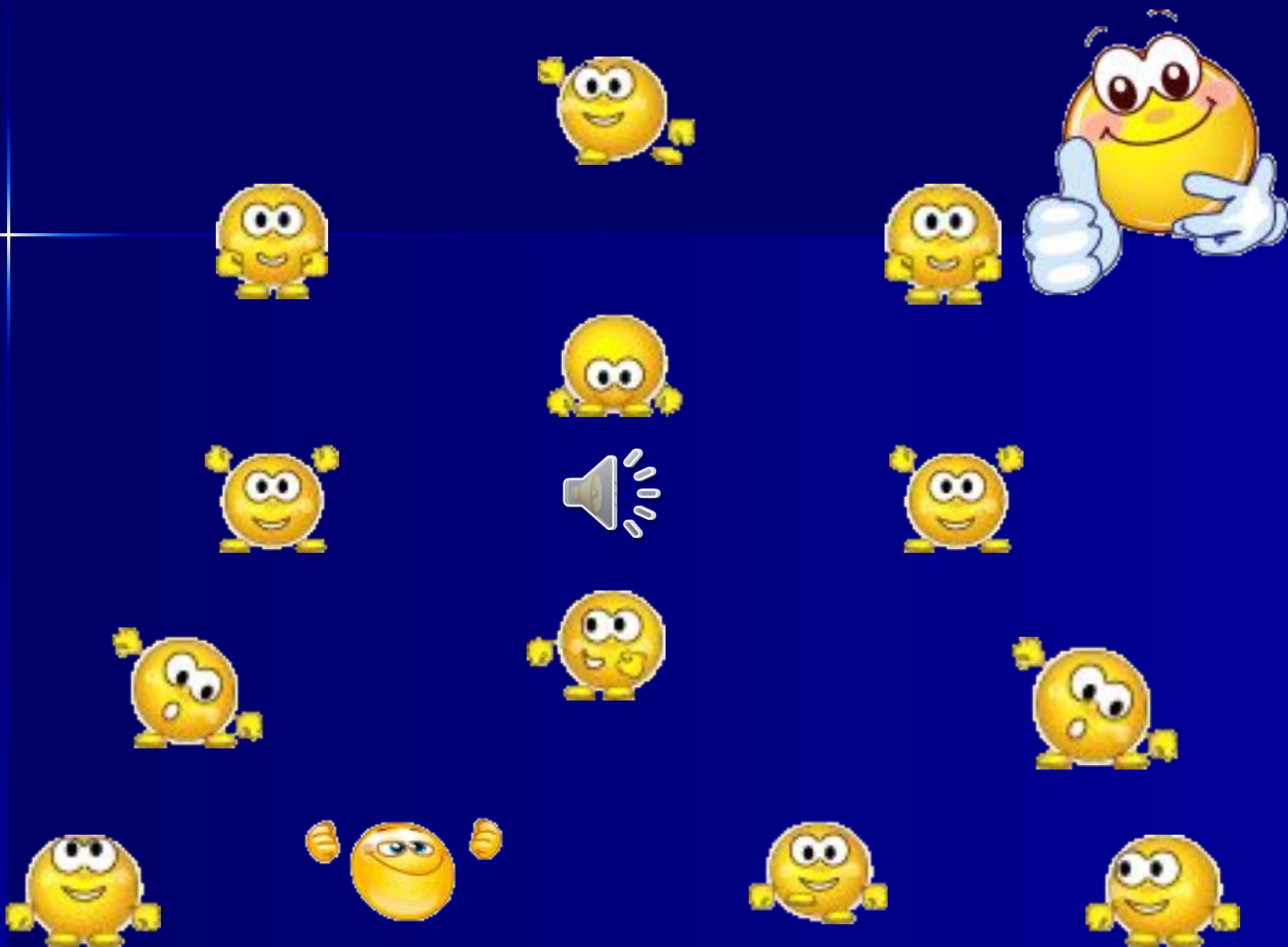
У Винни-Пуха, Пятачка и Кролика есть три одинаковых квадрата, три одинаковых треугольника и три одинаковых круга. Винни-Пух положил на пол треугольник, на него – квадрат, а сверху – круг. Пятачок положил сначала квадрат, на него положил круг, сверху – треугольник. Кролик положил треугольник, на него круг, а сверху квадрат.

У кого что получилось?



Нарисуй недостающего котёнка






Олимпиадные задачки



Глеб, Сергей и Андрей везут подарки. Глеб везёт сразу 2 корзинки. Сергей и Андрей везут по 1 корзинке. Корзинку с яблоками везёт Сергей. Кто везёт груши? Апельсины? Черешню? Подпиши имена мальчиков.



Андрей

Сергей

Глеб



Лена



Даша



Таня

Жили-были три девочки: Таня, Лена и Даша.
Таня выше Лены, Лена выше Даши.
Кого из них как зовут?

Посадил дед вдоль одной тропинки три берёзы.
Бабка между каждыми соседними берёзами
посадила липы. А внучка между каждыми
соседними деревьями посадила по кусту роз.
Сколько кустиков роз посадила внучка?



Рефлексия



Мне было интересно на занятии,
у меня все получилось.



Мне было интересно на занятии,
хотя я затруднялся.



Мне было не интересно на занятии,
я не справился с заданиями

До новых встреч!

