

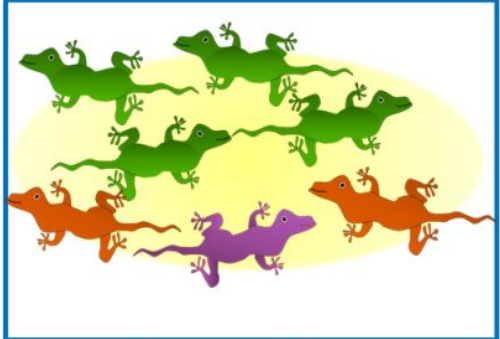

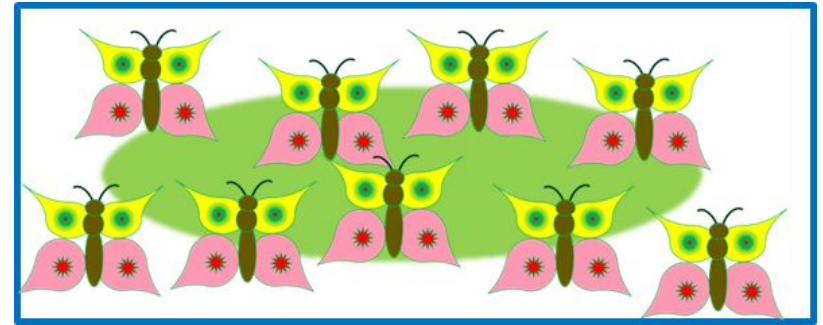
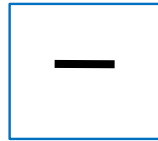



# Тема урока: «Числа и цифры. Римские цифры»

1	2	3	4	5	6	7	8	9	10
									
5		V	10		X	7		VII	
I	II	III	IV	V	VI	VII	VIII	IX	X

# Урок 54. Числа и цифры. Римские цифры.

1. В одной книжке Петя увидел рисунки.


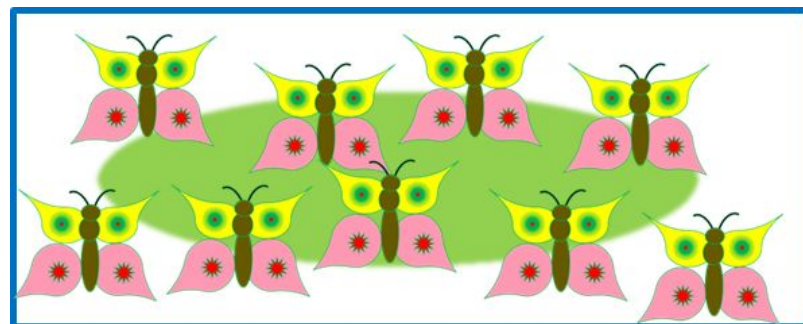





? Что могут обозначать записи под рисунками?

! Знаки  и  - цифры древнего народа майя. Этими знаками записано число предметов на каждом рисунке.

# Урок 54. Числа и цифры. Римские цифры.

1. В одной книжке Петя увидел рисунки.


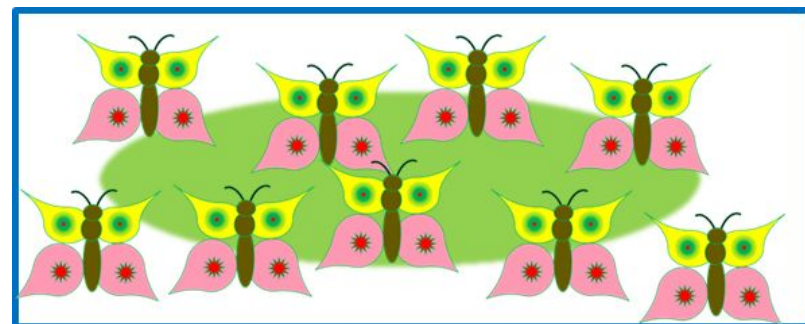





2. Помоги Пете сосчитать предметы на рисунке и назвать эти числа?.

1 2 3 4 5 6 7 8 9 10

# Урок 54. Числа и цифры. Римские цифры.

1. В одной книжке Петя увидел рисунки.



2. Помоги Пете сосчитать предметы на рисунке и назвать эти числа?.

**ПРОВЕРЬ!**

1 2 3 4 5 6 7 8 9 10

**2. !** Цифры, с которыми ты познакомился на уроках математики, называются **арабскими**. Их всего десять.

0 1 2 3 4 5 6 7 8 9

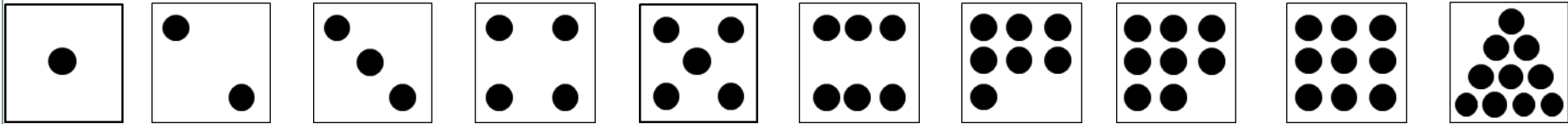
I V X

Это римские цифры.

# Урок 54. Числа и цифры. Римские цифры.

4. Назовите числа, которые здесь записаны.

I II III IV V VI VII VIII IX X



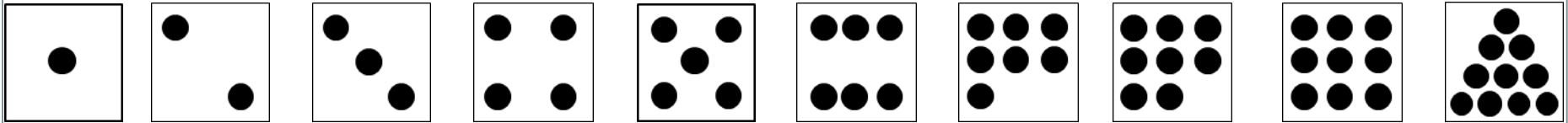
---

1 2 3 4 5 6 7 8 9 10

# Урок 54. Числа и цифры. Римские цифры.

4. Назовите числа, которые здесь записаны.

I II III IV V VI VII VIII IX X

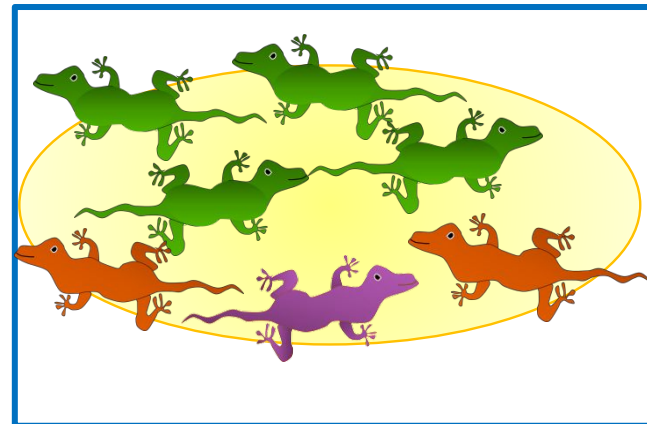
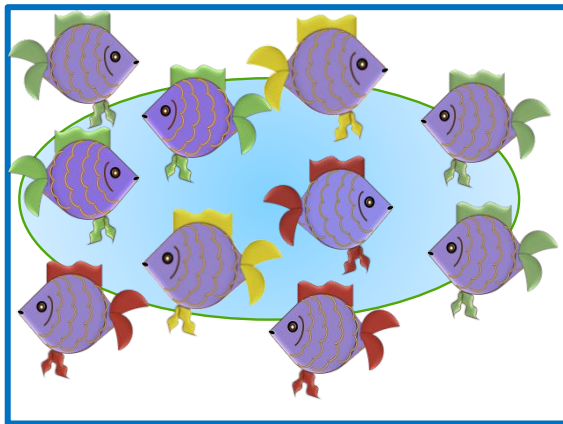



**ПРОВЕРЬ!**

1 2 3 4 5 6 7 8 9 10

# Урок 54. Числа и цифры. Римские цифры.

6. Помоги Кате записать число предметов на рисунках арабскими и римскими цифрами.



I

V

X

0

1

2

3

4

5

6

7

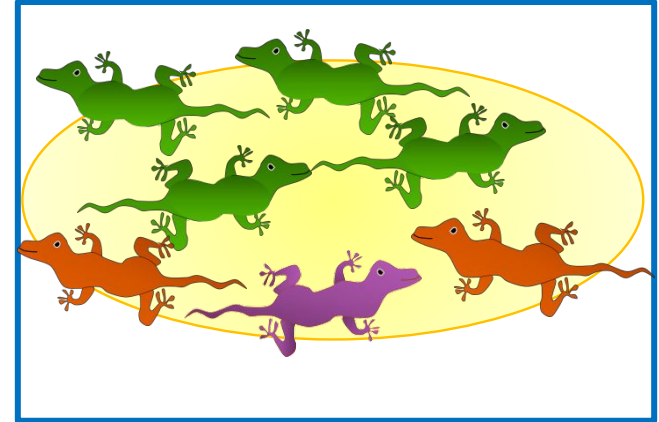
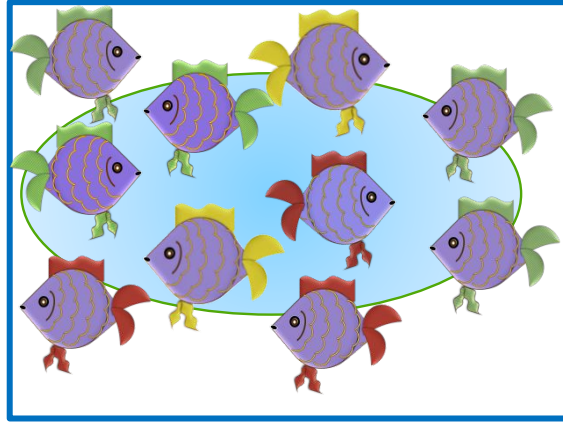

8

9



# Урок 54. Числа и цифры. Римские цифры.

6. Помоги Кате записать число предметов на рисунках арабскими и римскими цифрами.



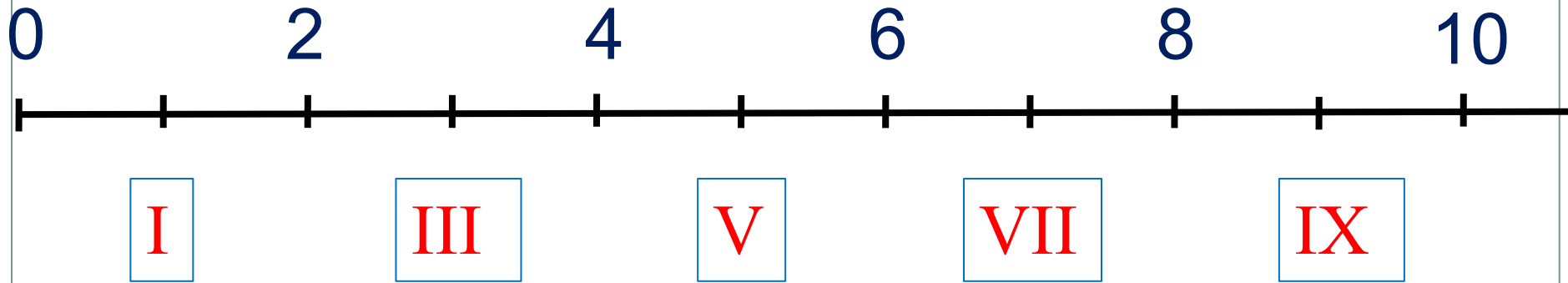
I V X

**ПРОВЕРЬ!**

0 1 2 3 4 5 6 7 8 9

7. Какие числа не записал Вова? Помоги ему записать пропущенные числа от наименьшего к наибольшему.

0 1 2 3 4 5 6 7 8 9 10

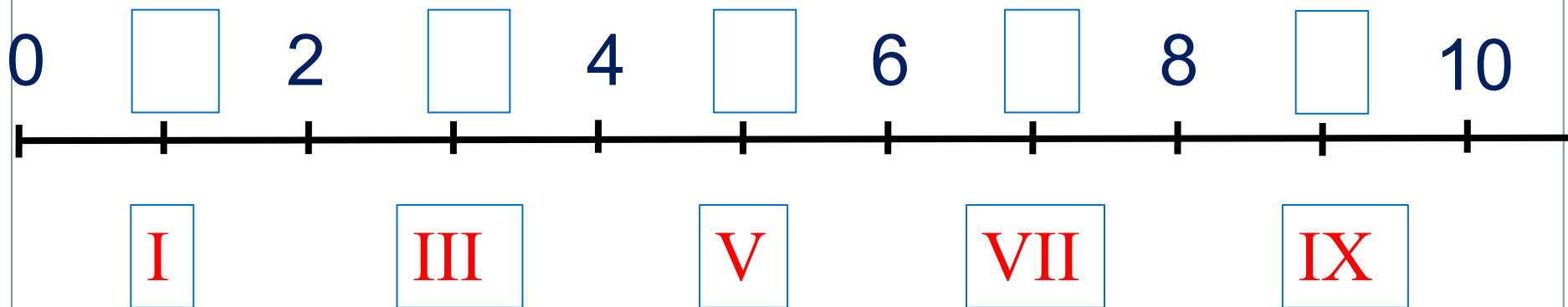


I II III IV V VI VII VIII IX X

# Урок 54. Числа и цифры. Римские цифры.

МАТЕМАТИКА

7. Какие числа не записал Вова? Помоги ему записать пропущенные числа от наименьшего к наибольшему.



**ПРОВЕРЬ!**

I II III IV V VI VII VIII IX X