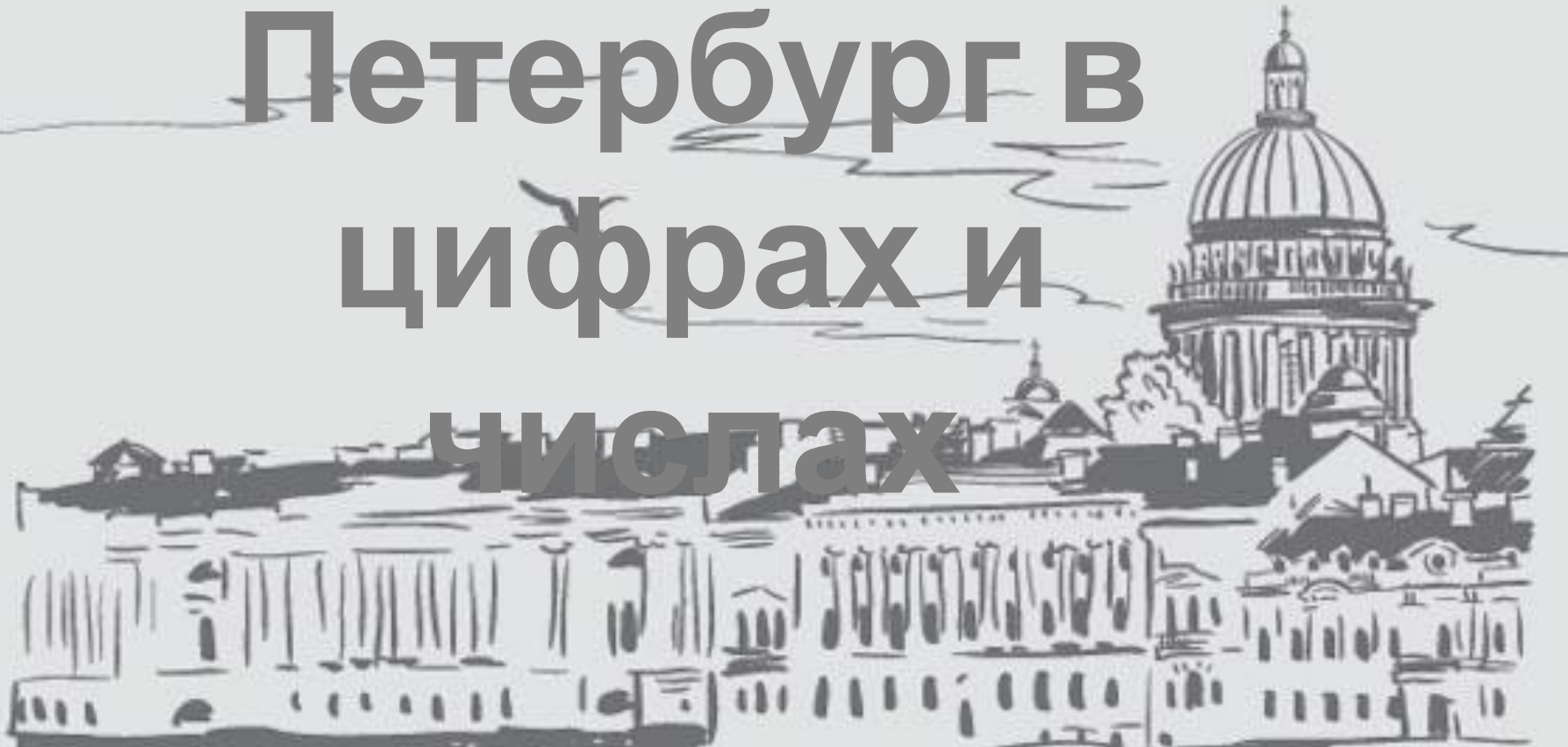


Санкт- Петербург в цифрах и числах



Автор проекта: Анисимова Наталья Александровна

Соавторы: Алексеева В., Весельский А., Мауткин М., Мосякова Е.,
Нестеркина Е., Паюсов И., Петрова З., Тесленко В., Цыбульская А.,
Шабаев Н., Шибитов В.

16 ноября 2019 года

**Расставьте числа в порядке
возрастания**

**Как эти числа связаны с
историей Санкт-Петербурга**

•1914

•1924

•1703

•1991

- **1703- основание Санкт-Петербурга**
- **1914 – Петроград**
- **1924 – Ленинград**
- **1991- Санкт-Петербург**

**5 383 968 человек
проживает в Санкт-Петербурге**

Задача

**День рождения Санкт-Петербурга
27 мая 1703 года. Сколько лет городу
исполнится в мае 2020 года. ?**

Сравни возраст города со своим.

Расшифруйте слова

Русский алфавит

А а [а]	Б б [бэ]	В в [вэ]	Г г [гэ]	Д д [дэ]	Е е [е]	Ё ё [ё]
Ж ж [жэ]	З з [зэ]	И и [и]	Й й [и краткое]	К к [ка]	Л л [эл или эль]	М м [эм]
Н н [эн]	О о [о]	П п [пэ]	Р р [эр]	С с [эс]	Т т [тэ]	У у [у]
Ф ф [эф]	Х х [ха]	Ц ц [це]	Ч ч [че]	Ш ш [ша]	Щ щ [ща]	Ъ ъ [твёрдый знак]
Ы ы [ы]	Ь ь [мягкий знак]	Э э [э обратное]	Ю ю [ю]	Я я [я]		

14, 16, 19, 20

15, 6, 3, 1

16, 19, 20, 16, 3

Задачи

- В конце XIX века дельта Невы состояла из 48 рек и каналов, образующих 101 остров. С течением времени по мере строительства города многие водоёмы теряли своё первоначальное значение, загрязнялись и засыпались. В XX веке в результате засыпки каналов, проток и рукавов число островов сократилось до 42. На сколько сократилось число островов?

Александра Невского

2:20

5:10

Биржевой

2:00

4:45

Благовещенский

1:25

2:45-3:10

5:00

Большеохтинский

2:00

5:00

Володарский

2:00

3:45-4:15

5:45

Дворцовый

1:25

2:50-3:10

4:55

Литейный

1:40

4:45

Троицкий

1:35

4:50

Тучков

2:00

2:55-3:35

4:55

Задача

Белые ночи длятся в Санкт-Петербурге с 11 июня по 2 июля.

Сколько всего белых ночей?



Зашифруйте слова и сосчитайте сумму чисел каждого слова



- МУЗЕЙ
- ТЕАТР



Русский алфавит


А а [а]	Б б [бэ]	В в [вэ]	Г г [гэ]	Д д [дэ]	Е е [е]	Ё ё [ё]
Ж ж [жэ]	З з [зэ]	И и [и]	Й й [и краткое]	К к [ка]	Л л [эл или зль]	М м [эм]
Н н [эн]	О о [о]	П п [пэ]	Р р [эр]	С с [эс]	Т т [тэ]	У у [у]
Ф ф [эф]	Х х [ха]	Ц ц [це]	Ч ч [че]	Ш ш [ша]	Щ щ [ща]	Ъ ъ [твёрдый знак]
Ы ы [ы]	Ь ь [мягкий знак]	Э э [э обратное]	Ю ю [ю]	Я я [я]		



Задача

В Эрмитаже живут коты. На первом этаже – 10 котов, это на 3 кота меньше, чем на втором. Сколько котов обитает на третьем этаже, если всего в Эрмитаже живёт 32 кота?

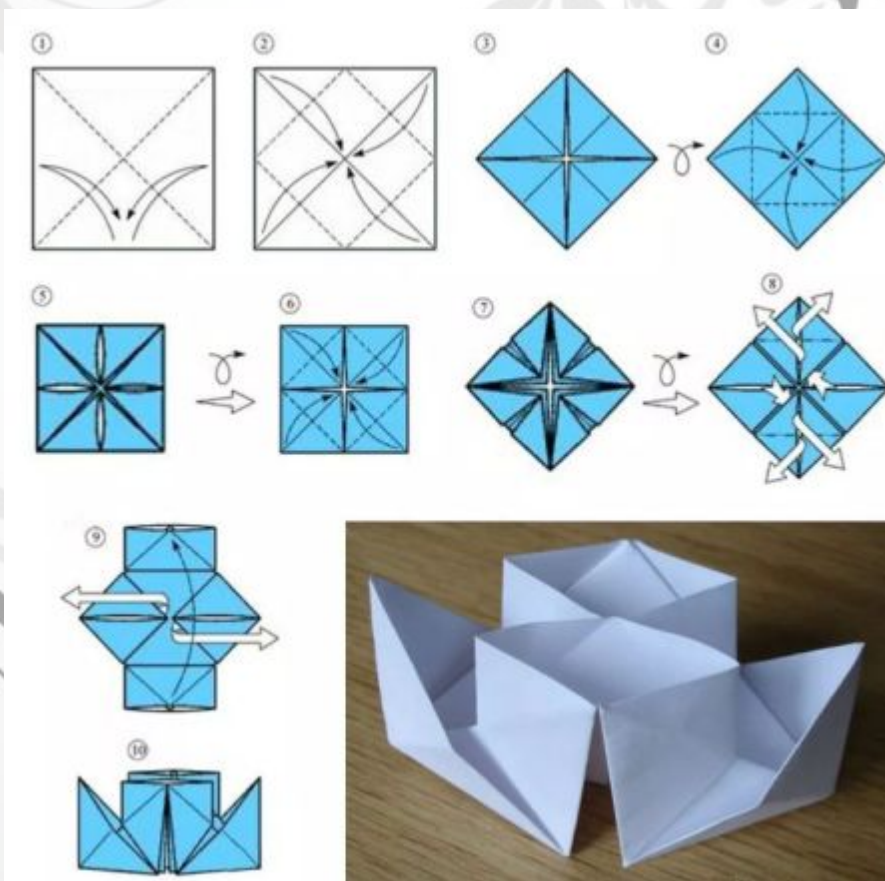
Сосчитайте прямоугольники



Какие исторические символы города вы знаете?



Сложите кораблик из бумаги



Спасибо за внимание

