


**BU HEYVANLARDAN HANSI FAYDALI
MƏHSULLAR ALINIR?**

ƏT




SÜD



DƏRİ



ƏT



SÜD



YUN



DƏRİ



ƏT



SÜD



DƏRİ



TÜKÜ



ƏT



SÜD

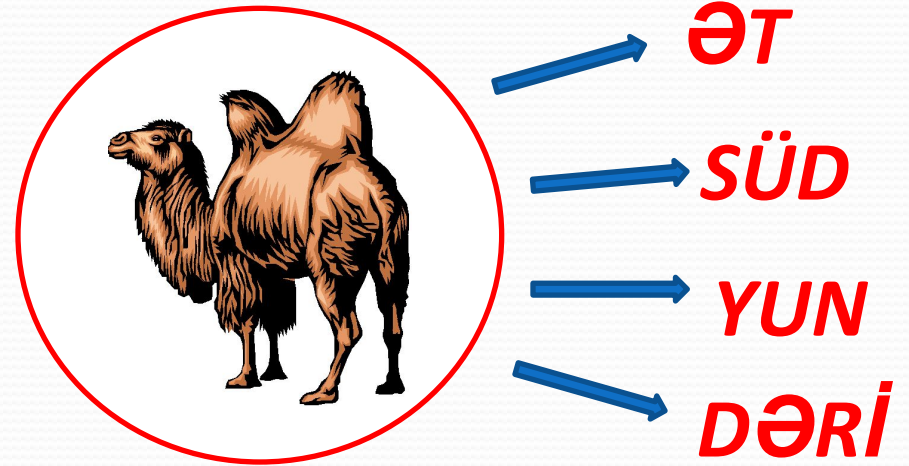
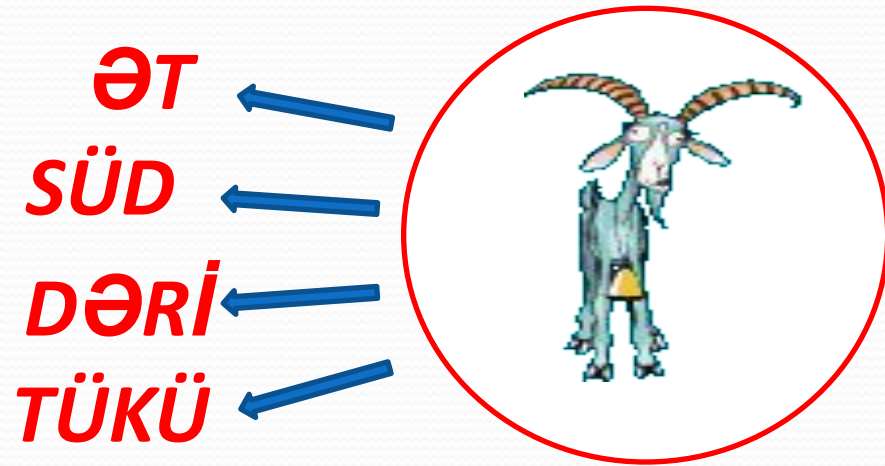

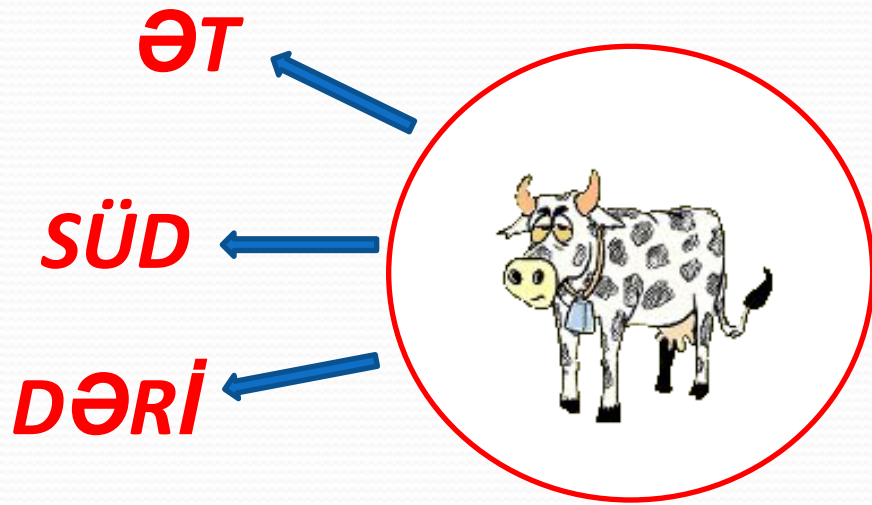


YUN

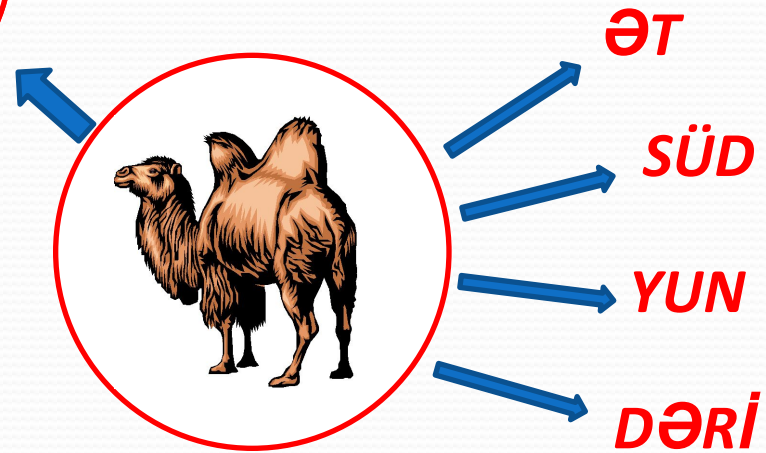
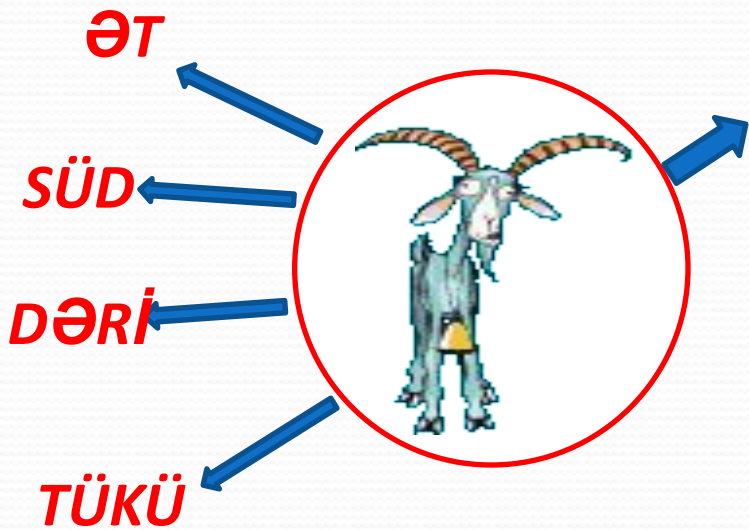


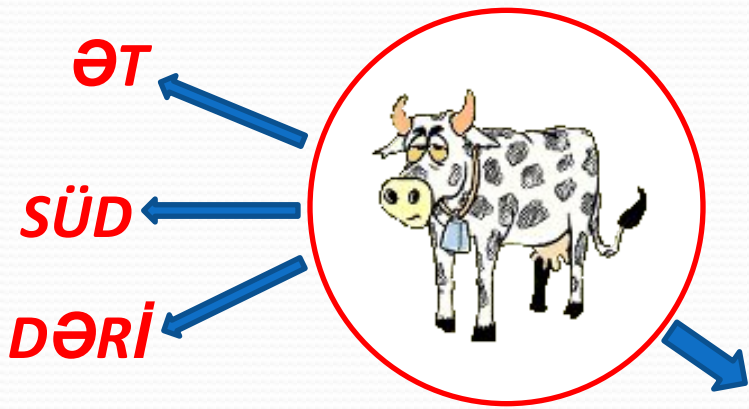


DƏRİ






**BU MƏHSULLARDAN HANSINI HEYVANLARA
ZƏRƏR VERMƏDƏN HƏR GÜN ALA BİLİRİK?**



*SÜDÜ BİZ HANSI
QABLARDA ALA
BİLƏRİK?*



Biz bu qablardakı südün miqdarını öyrənmək istəsək əslində nəyi dəqiqləşdirmiş olarıq?

TUTUMUN ÖLÇÜLMƏSİ

*QABLARDA OLAN SÜDÜ
ÖLÇMƏK ÜÇÜN HANSI
ÖLÇÜ VAHİDLƏRİNDƏN
İSTİFADƏ EDƏ BİLƏRİK?*

● **Millilitr** → **ml**

● **Litr** → **l**

1 litr - 1000 ml

yarım litr – 500 ml

1 çay qaşığının tutumu təxminən– 5ml

1 stəkan su təxminən 200 ml-dir

● *Millilitrlə, litirlə daha hansı mayeləri ölçə bilərik?*

Suyu



Şirələri



Dərmanları

Nefti



Yağı



*Gəlin düşünək:
Biz mayeləri düzgün ölçə
bilməsək nə olar?*

ŞƏFA QRUPU



Xəstəyə iynə vurmaq zərurətdir. Bu iynəni məhz siz vurmaq məcburiyyətindəsiniz. Bunun üçün sizə 3-cür dərman verilib. Verilmiş N-1 və N-2 dərmanların hərəsindən 2 ml, N-3 dən isə 1 ml şprisə çəkin. Bu hesabla 3 gün ərzində xəstəyə neçə ml dərman vurulacaq? Hesablayın.

BADAMLI QRUPU



- Bir qabdakı suyu ölçərək digər qaba tökün. Bunun üçün sizə 3 ədəd ölçü qabı verilib. Ölçməni dəqiq aparmaqla hesablayın.

SÜD QRUPU



● *Satıcı süd satır: Süd almaq istəyən oğlan satıcıya yaxınlaşıb deyir:*

- *Oğlan: Zəhmət olmasa balonumu doldurun.*
- *Satıcı soruşur : balonunuz neçə litr süd tutur?*
- *Oğlan cavab verir: Bilmirəm.*
- *Satıcı əvvəlcə oğlanın balonuna 1L banka ilə süd tökür, sonra isə yenə bir banka əlavə edir. Oğlanın balonu dolur. O nə qədər süd aldı? Əgər südün 1L-nin qiyməti 1 manatdırsa, oğlan satıcıya nəqədər pul verməlidir. Səhnələşdirin və*

DADLILAR QRUPU



Evinizə qonaqlar gəlib. Onların necə şirə xoşladığını bilmədiyimiz üçün meyxosş şirə hazırlamağa qərar verdik. Evdə isə 500 ml turş və 500 ml şirin şirə var.

- Bunun üçün təxminən 200 ml-lik stakanlara hər şirədən bərabər miqdarda tökməyə çalışın. Bu hesabla neçə stəkan şirə alınar?
- Hesablayın.

ŞƏFA QRUPU



Doğru cavab:

1) $2ml+2ml+1ml= 5ml$

$3.5ml= 15 ml$

2) $3 \cdot (2ml+2ml+1ml)=15ml$

BADAMLI QRUPU



● ***Doğru cavab:***

● ***$250\text{ml}+250\text{ml}+250\text{ml}+250\text{ml}=1000\text{L}$***

SÜD QRUPU



- *Doğru cavab:*
- *1l süd=1manat*
- *2l süd=2manat*

DADLILAR QRUPU



● ***Dođru cavab:***

● ***5 stakan řirə alınır***

EV TAPŞIRIĞI

- Evdə çay içdiyiniz fincanınızın təxmini tutumunu hesablayın.