

# СЧИТАЕМ УСТНО!



НАЙДИ ЗАКОНОМЕРНОСТЬ,  
НАЗОВИ СЛЕДУЮЩЕЕ ЧИСЛО.





НАЙДИ ЗАКОНОМЕРНОСТЬ,  
НАЗОВИ ПРЕДШЕСТВУЮЩЕЕ ЧИСЛО.





# РЕШИ ПРИМЕРЫ!





$46+23=$  


$90-47=$  


$29+17=$  

$36-18=$  

$41-16=$  

$47-28=$  

$25+35=$  

$63-19=$  



Впиши нужный знак  $>$ ,  $<$  или  $=$ .



$40 < 46$

$49 = 60 - 11$

$60 > 25$

$0 = 19 - 19$

$28 < 82$

$68 + 1 > 68$

$96 > 69$

$8 + 6 < 15$

$40 - 1 > 36$

$50 > 100 - 80$

$69 + 1 < 84$

$49 > 49 - 49$

# Шомоги пчёлке!



Закрась одним цветом те числа, разность которых  
равна 6.

54

79

44

38

100

45

51

73


94

60

83

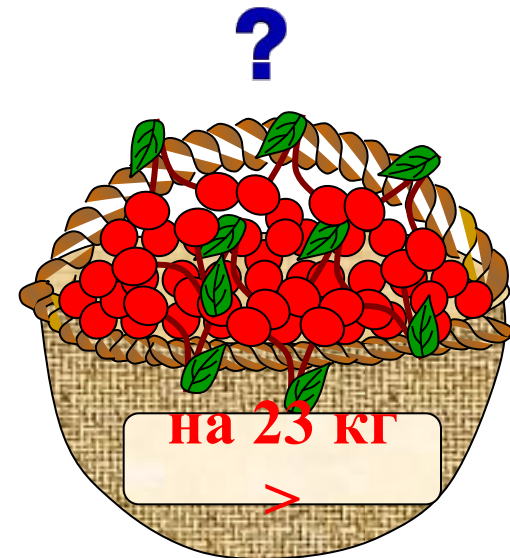
89

# Составь и реши задачу.





# Составь и реши задачу.



?

Составь и реши задачу.





?



?

Составь и реши задачу.



?



# Который час?



МОЛОДЦЫ!

