

Тема урока : **СОТНЯ**

Вопросы от мудреца

- Из чего состоит сотня ?
- Как считать сотнями ?
- Как правильно называть сотни?





10 = 1
ДЕСЯТО

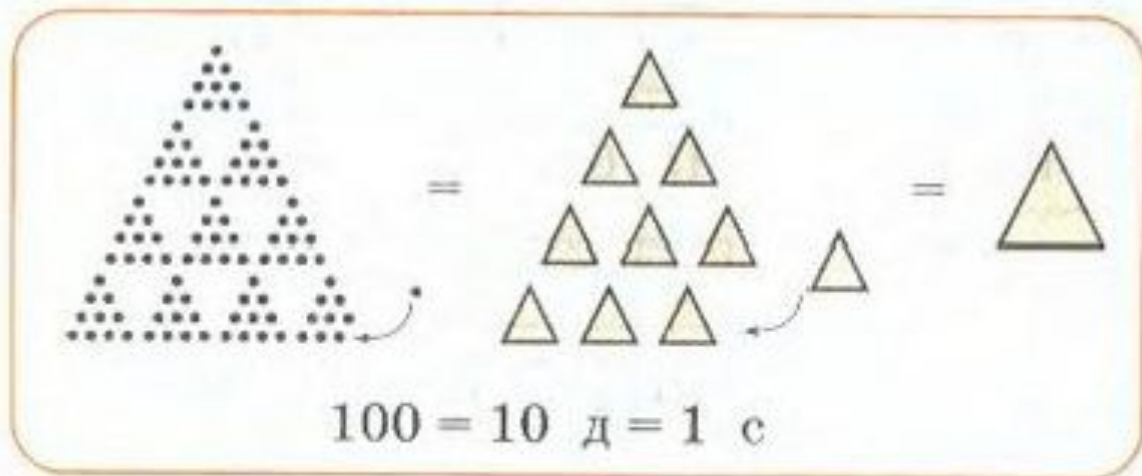
1 ДЕСЯТОК = 10^k
ЕДИНИЦ



10
ДЕСЯТКОВ

= 100
СОТН

1 Как можно составить сотню?



$100 = 99 + 1 = 98 + \square = 97 + \square = 96 + \square = \dots$?

$100 = 90 + 10 = 80 + \square = 70 + \square = 60 + \square = \dots$?

2 $\triangle + \triangle + \triangle - \triangle - \triangle = \triangle$

$3 \text{ с} - 2 \text{ с} = 1 \text{ с}$

$\triangle + \triangle + \triangle + \triangle = \triangle + \triangle + \triangle + \triangle$

$1 \text{ с} + 3 \text{ с} = 4 \text{ с}$

$5 \text{ с} + 3 \text{ с} = \square \text{ с}$

$8 \text{ с} - 7 \text{ с} = \square \text{ с}$

$3 \text{ с} + 6 \text{ с} = \square \text{ с}$

$9 \text{ с} - 4 \text{ с} = \square \text{ с}$

$6 \text{ с} + 2 \text{ с} = \square \text{ с}$


$7 \text{ с} - 4 \text{ с} = \square \text{ с}$

3

В одной пачке 2 сотни листов бумаги, а в другой – на 3 сотни листов больше. Сколько сотен листов в двух пачках?



2
СОТНИ
? НА 3
СОТНИ
БОЛЬШЕ



4

1 с = 10 д = 100	сто	100 = 10 д = 1 с
2 с = 20 д = 200	двести	200 = 20 д =
3 с = 30 д = 300	триста	300 = = 3 с
4 с = 40 д =	четыреста	400 = =
5 с = =	пятьсот	500 = =
6 с = =		600 = =
7 с = =		700 = =
8 с = =		800 = =
9 с = =		900 = =

$100+200=$

$200+300=$


$600+100=$

$300+300=$

$800+100=$


$400+500=$

7 В одном летнем лагере отдыхают 600 детей, а в другом – 300 детей. Поставь вопросы к этому условию и ответь на них.



9

В трёх автобусах ехали 68 детей. В первом автобусе ехали 25 детей, а во втором автобусе — на 3 человека больше, чем в первом. Сколько человек ехали в третьем автобусе?

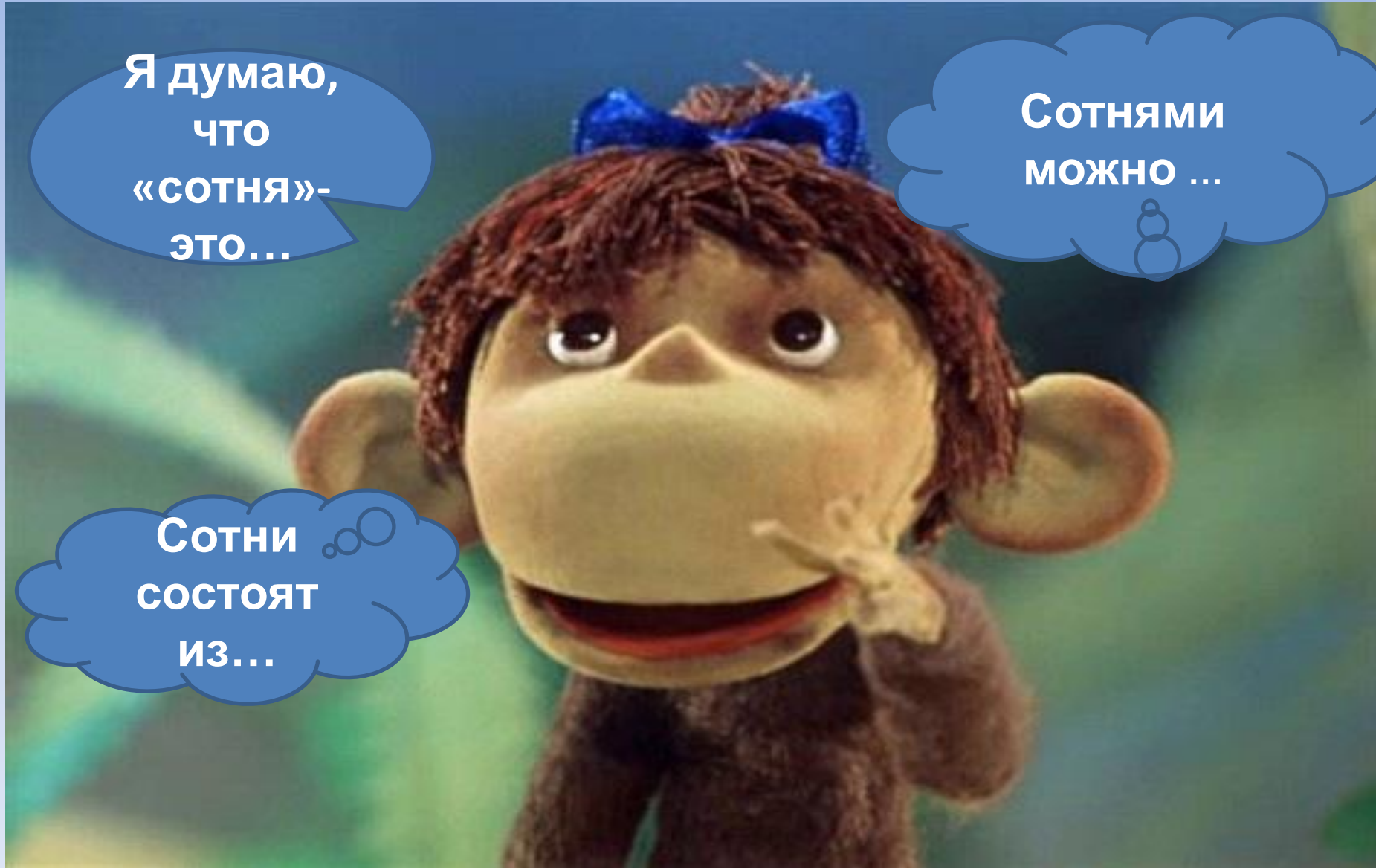


Итог урока

Я думаю,
что
«СОТНЯ»-
это...

СОТНЯМИ
МОЖНО ...

СОТНИ
СОСТОЯТ
ИЗ...



Домашнее задание

Р.т.с 35 №5, 8 (т),
10