



Урок по математике на тему «Таблица умножения. Закрепление.»









Таблица умножения. Закрепление.



ТАБЛИЦА УМНОЖЕНИЯ






2 x 1 = 2
2 x 2 = 4
2 x 3 = 6
2 x 4 = 8
2 x 5 = 10
2 x 6 = 12
2 x 7 = 14
2 x 8 = 16
2 x 9 = 18
2 x 10 = 20




3 x 1 = 3
3 x 2 = 6
3 x 3 = 9
3 x 4 = 12
3 x 5 = 15
3 x 6 = 18
3 x 7 = 21
3 x 8 = 24
3 x 9 = 27
3 x 10 = 30



4 x 1 = 4
4 x 2 = 8
4 x 3 = 12
4 x 4 = 16
4 x 5 = 20
4 x 6 = 24
4 x 7 = 28
4 x 8 = 32
4 x 9 = 36
4 x 10 = 40





5 x 1 = 5
5 x 2 = 10
5 x 3 = 15
5 x 4 = 20
5 x 5 = 25
5 x 6 = 30
5 x 7 = 35
5 x 8 = 40
5 x 9 = 45
5 x 10 = 50



6 x 1 = 6
6 x 2 = 12
6 x 3 = 18
6 x 4 = 24
6 x 5 = 30
6 x 6 = 36
6 x 7 = 42
6 x 8 = 48
6 x 9 = 54
6 x 10 = 60



7 x 1 = 7
7 x 2 = 14
7 x 3 = 21
7 x 4 = 28
7 x 5 = 35
7 x 6 = 42
7 x 7 = 49
7 x 8 = 56
7 x 9 = 63
7 x 10 = 70



8 x 1 = 8
8 x 2 = 16
8 x 3 = 24
8 x 4 = 32
8 x 5 = 40
8 x 6 = 48
8 x 7 = 56
8 x 8 = 64
8 x 9 = 72
8 x 10 = 80



9 x 1 = 9
9 x 2 = 18
9 x 3 = 27
9 x 4 = 36
9 x 5 = 45
9 x 6 = 54
9 x 7 = 63
9 x 8 = 72
9 x 9 = 81
9 x 10 = 90



hearts club



Задание 1.

Устно реши задачу.

- Мышка зёрна собирала,
По **два** зёрнышка таскала.
Принесла **девятый** раз.
Каков у мышки стал запас?

$$2 \times 9 = 18 \text{ (зёрен)}$$





Три бельчонка маму-белку
Ждали около дупла
Им на завтрак мама-белка
Девять шишек принесла,
Разделила на троих.
Сколько каждому из них?

$$9 : 3 = 3 \text{ (шишки)}$$





В поле бабочки летали
Лепестки цветов считали
На одном цветке их **ПЯТЬ**.
Сможете вы сосчитать?
Сколько будет лепестков?
Если **шесть** всего цветков.

$$5 \times 6 = 30 \text{ (лепестков)}$$





1 группа

2 группа

Е -2x7	У -6:3
Н -3x8	Н -12:3
И -36:6	О -7x4
Е -56:7	М -5x4
Ж -9x9	

Е -4x0	Л -72:8
Н -6x8	Е -4x6
Д -2x5	И -63:9
Е -15:3	





2	20	4	28	81	8	24	6	14
У	М	Н	О	Ж	Е	Н	И	Е





10	24	9	5	48	7	0
Д	Е	Л	Е	Н	И	Е





Пальчиковая гимнастика «МОРОЗ»





5





В шкафу 15 кукол, а машинок
в 3 раза меньше. Сколько
всего игрушек в шкафу?






ЗАДАЧА

Кукол –

15

и.



Машинок - ?

3

раза меньше и.

?





Физминутка

2x2





12:6





12:3





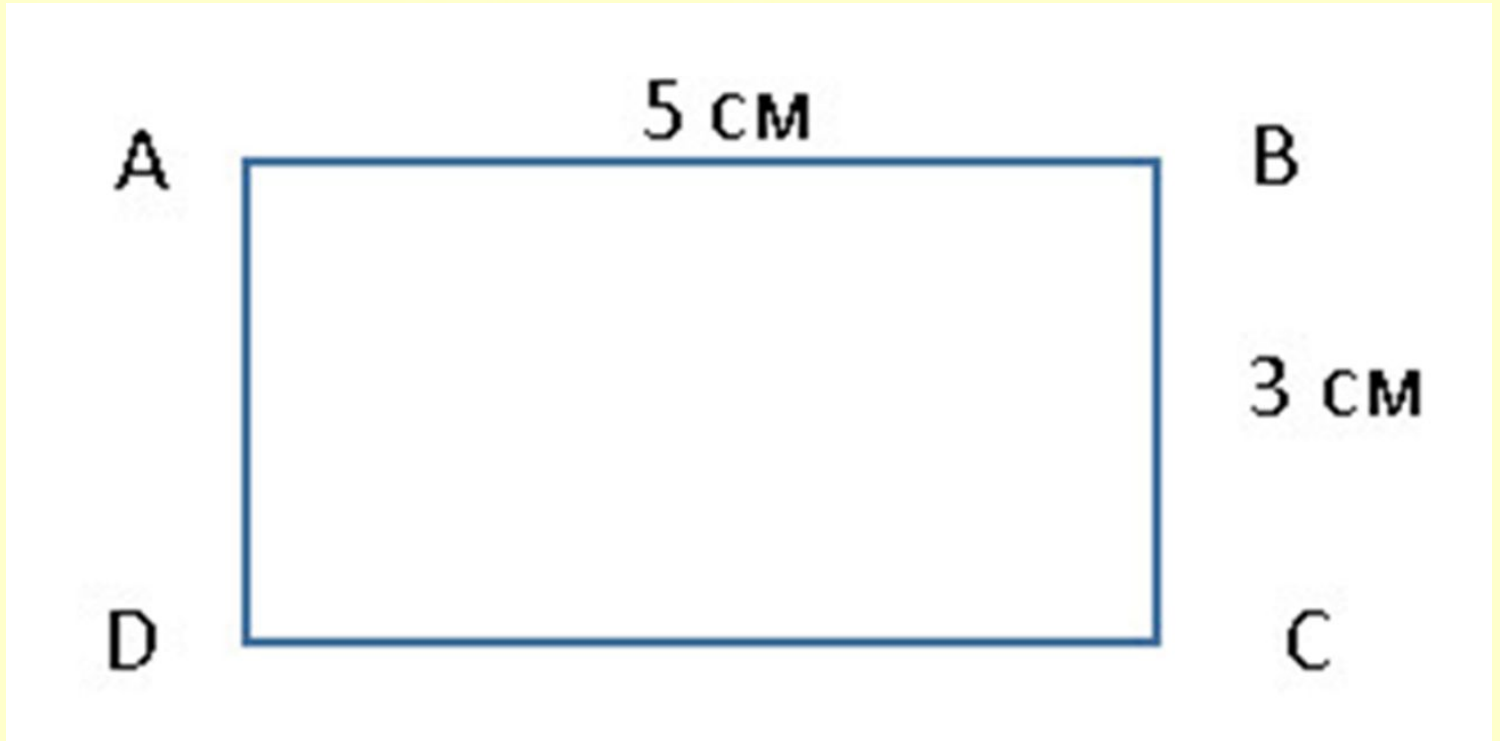
15:5





40:8







Дано: ABCD

$AB=5$ см

$BC=3$ см

Найти:

$S - ?$ см²

$S =$ _____





-На уроке я повторил...

-На уроке мне было...

-Я понял, что...

-Я радовался...

-Я всегда буду...





Домашняя работа

- Стр. 6, №3.
- Стр. 7, №2.





Спасибо за внимание!

