

Математика

«Школа 2100». 4 класс.

ХОЧУ ВСЁ ЗНАТЬ!



Устный счет

Сосчитай удобным способом:

$$19+107+54+93+46+81=400$$

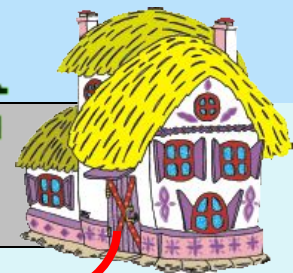
$$25+134+32+75+66+68=400$$

$$209+66+91+28+34+72=500$$

БЛИЦ – ТУРНИР:



Из двух деревень, расстояние между которыми 120 км, одновременно навстречу друг другу выехали два велосипедиста. Скорость одного из них 15 км/ч, а скорость другого 17 км/ч. Какое расстояние будет между ними через 3 часа?



S

В аквариум налили 6 литров воды,
заполнив
 $\frac{2}{5}$ его объема. Сколько литров воды
нужно еще налить, чтобы заполнить
аквариум?




Для варенья из черной смородины на 2 кг ягод кладут 3 кг сахара. Сколько килограммов сахара нужно взять, чтобы сварить 24 кг смородины?



Мама получила зарплату 8500 рублей. 40% всей суммы она израсходовала на коммунальные платежи. Сколько рублей у нее осталось?



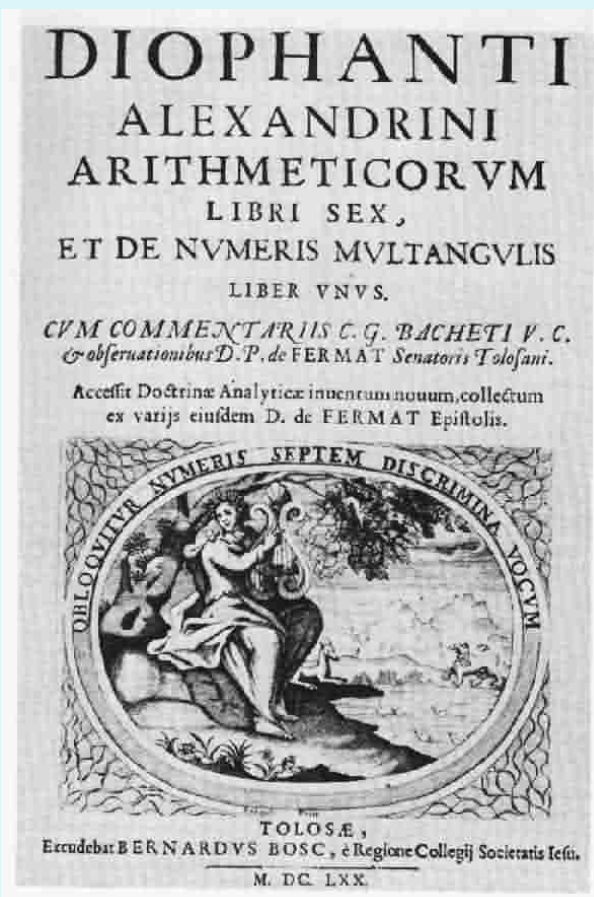
Найди:



$\frac{2}{3}$ прямого угла.	О
$\frac{3}{4}$ часа.	Д
$\frac{1}{9}$ развернутого угла.	И
$\frac{2}{5}$ метра.	Ф
45% числа 200.	Н
Число, $\frac{2}{4}$ которого равны 40.	А
Чему равна сумма углов треугольника.	Т

Расположи ответы в порядке возрастания и расшифруй имя греческого математика.

Диофант Александрийский (III век)







ФИЗМИНУТ

КА












Ребята, берегите зрение!
Не забывайте делать дома
зарядку для глаз!



Тема: График движения.

**Цели: ввести понятие «график движения»,
учить строить графики движения объекта.**


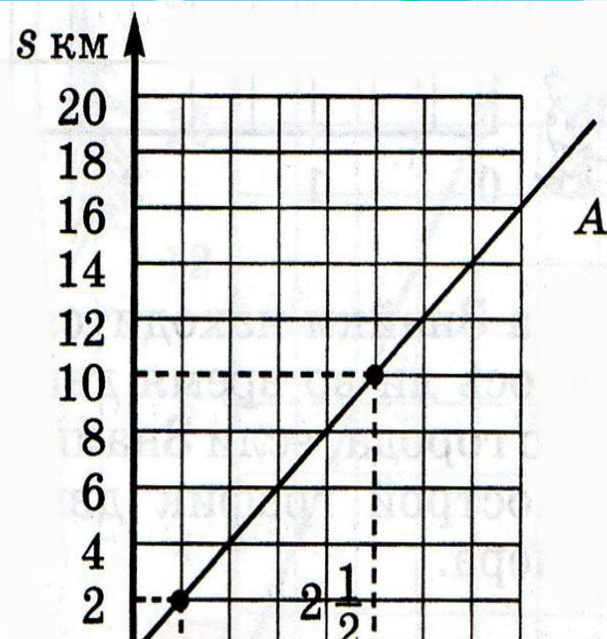
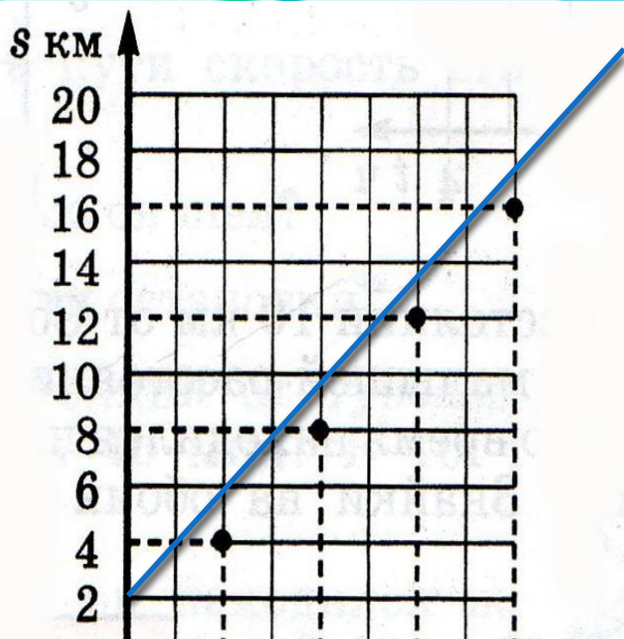
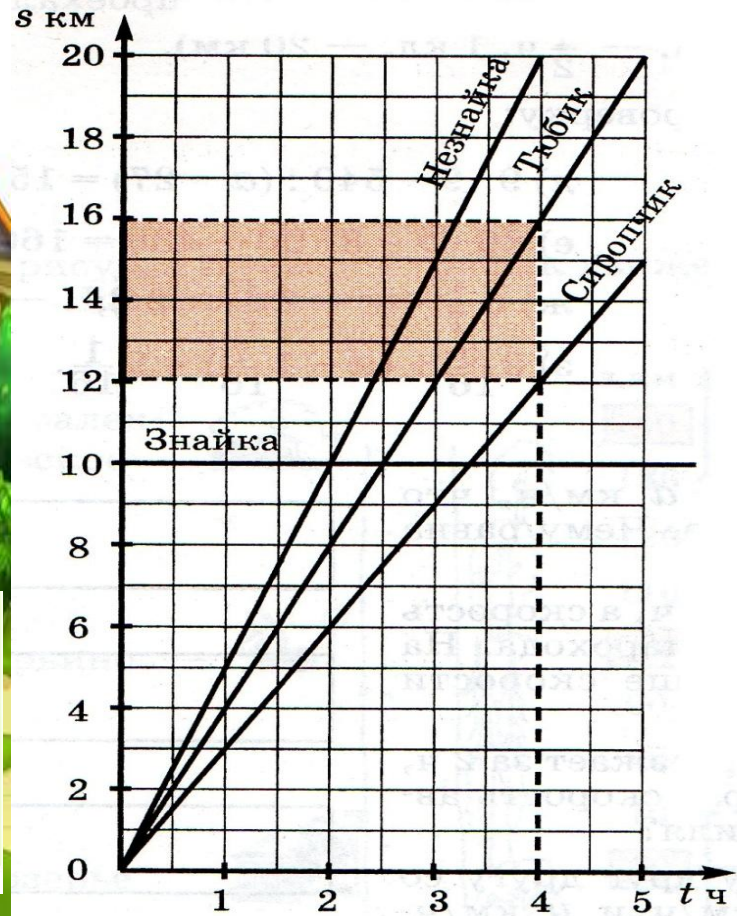


График движения Тюбика.





Подведем итог:

- Исследовать одновременное движение нескольких объектов удобнее с помощью ...
- Чем больше скорость движения...
- Чем меньше скорость движения...
- Горизонтальный график означает...

Домашнее задание.

1. № 6. Построить график движения автомобиля, который, двигаясь равномерно проехал 240 км.
№7. Решить уравнения (а, б).

2. № 6, №7 (д, ж)