

Математика

1 *клас*

Школа **2100**

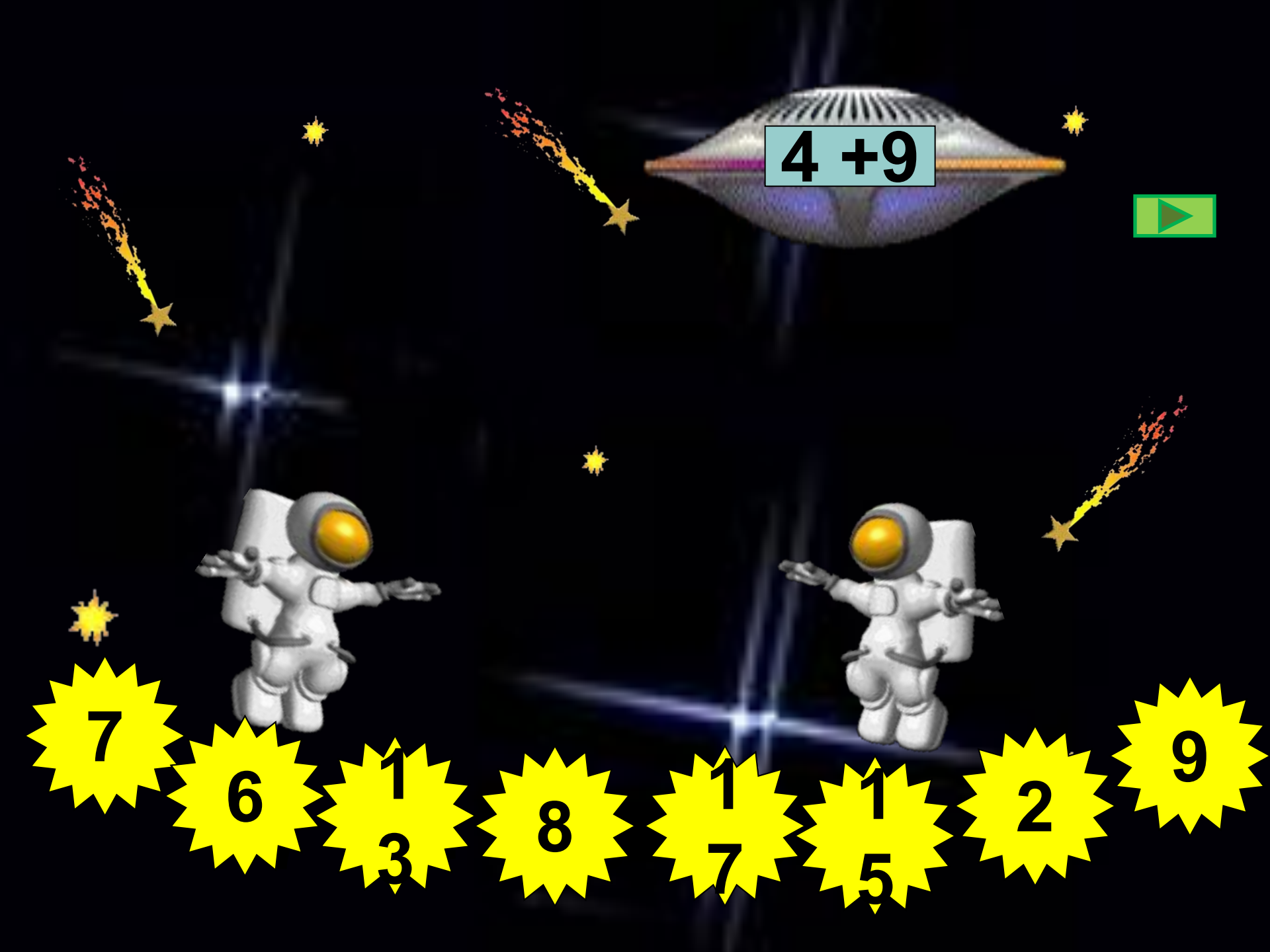
Тема: Сложение и
вычитание чисел в
пределах 20.

Устный счёт.

«КОСМОС»

17-9



A futuristic space scene with a spaceship at the top, two astronauts floating in the middle, and a number line at the bottom. The background is dark with stars and shooting stars. The spaceship is a sleek, metallic, bullet-shaped vessel with a glowing orange stripe. The astronauts are in white suits with orange visors. The number line consists of yellow starburst shapes containing numbers. The equation $4 + 9$ is displayed in a light blue box on the spaceship.
$$4 + 9$$



7

6

1
3

8

1
7

1
5

2

9


12-5



7 6 1 8 1 1 2 9

3 7 5





$6+7$



7

6

1

3

8

1

7

1

5

2

9

16-7



7

6

1
3

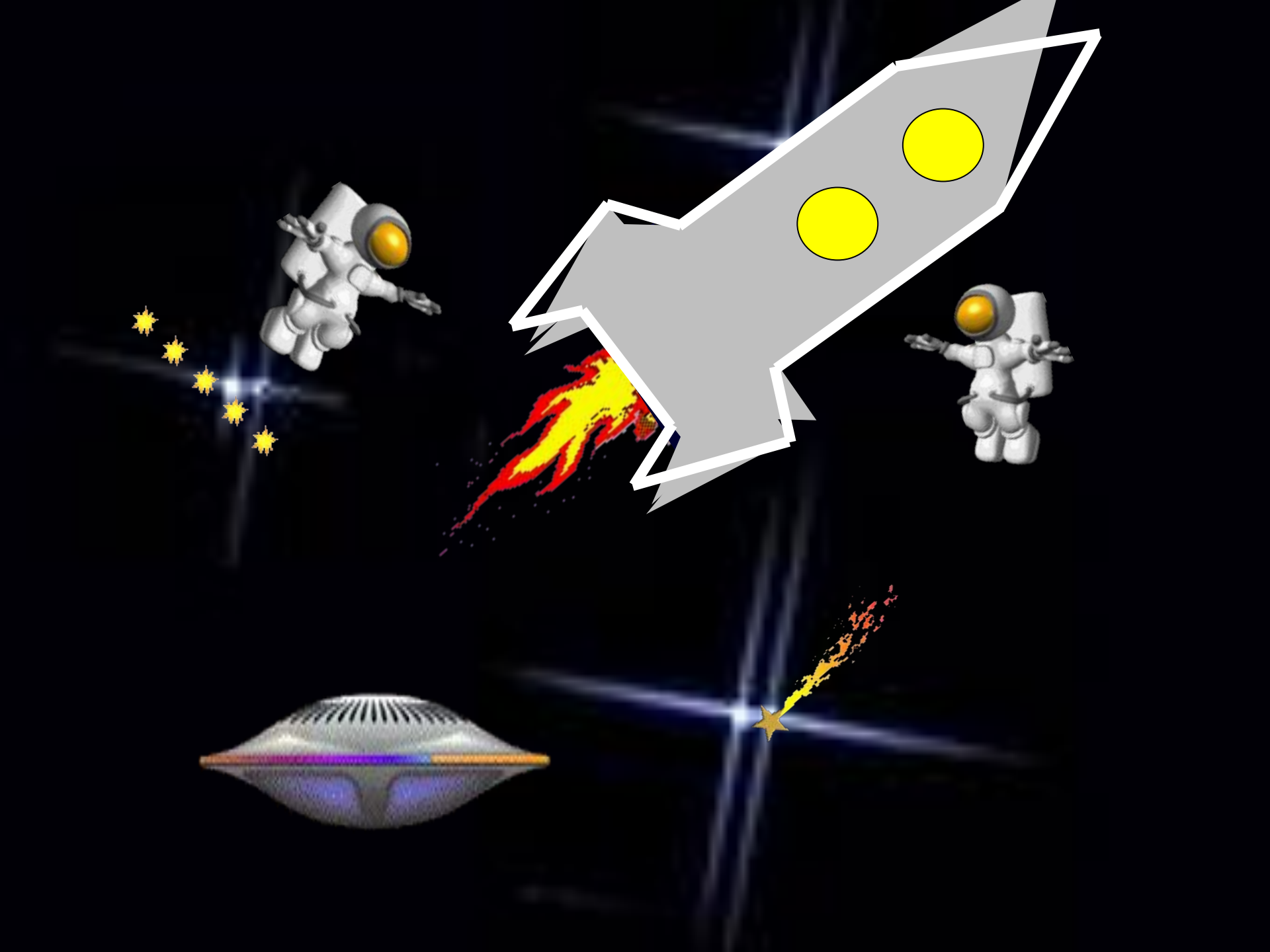
8

1
7

1
5

2

9



Домашняя заготовка:
«Ты – мне, я – тебе»
Работа в парах.



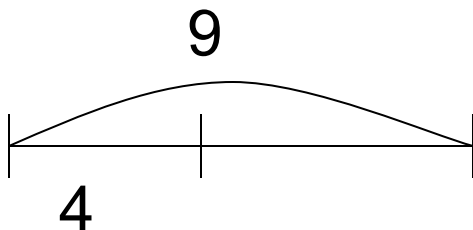
4 и 9



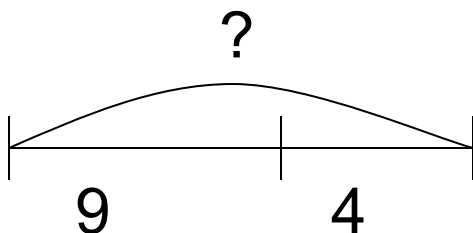
4 и 9

Составляем задачи.

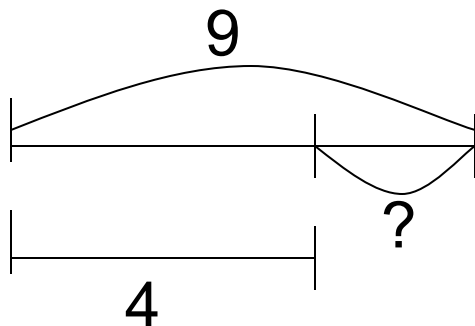
А.



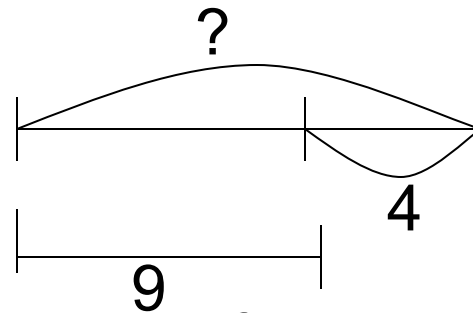
Б.



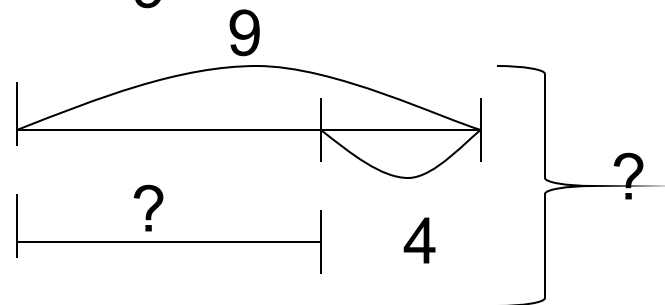
В.



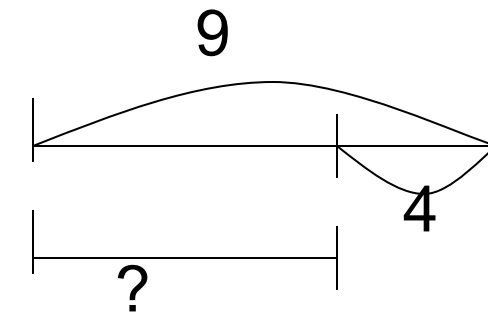
Г.



Д.



Е.



Физминутка.

- Столько раз ногою топнем **4-2**
- Столько раз в ладоши хлопнем **5+1**
- Мы присядем столько раз **9-6**
- Мы наклонимся сейчас **4+3**
- Мы подпрыгнем ровно столько **10-6**
- Ай да счёт! Игра и только!

Блиц-турнир.

- Учебник страница 51 № 6.

Блиц-турнир.

- а) $2+2=4$
- б) $10-4=6$
- в) $13-8=5$
- г) $15-7 =8$
- д) $9+4=13$
- е) 1) $9-7=2$
2) $9+2 =11$

Самостоятельная работа.

Самостоятельная работа.

- 1. $16-8=$ $9+5=$
- $12-7=$ $8+7=$
- 2. 11 14
- 19 16
- $6+7$ $9+4$
- 3. В букете 7 ромашек и 5 васильков. Сколько всего цветов в букете?
-

Самостоятельная работа.

- 1. $11-6+8=$ $9-5+7=$
- $7+8-9=$
- 2. 1 дм 10 см
- 1 дм 2 см 2 дм
- 5 см 5 дм
- 3. На поляне росло 5 незабудок и 6 васильков. 3 цветка сорвали. Сколько цветов осталось на полянке?

Самостоятельная работа.

1. $16-8=8$ $9+5=14$

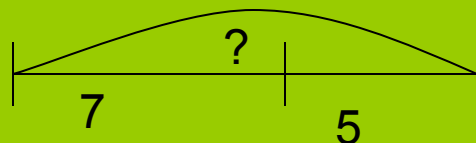
$12-7=5$ $8+7=15$

• 2. $11 < 14$

• $19 > 16$

• $6+7 = 9+4$

• 3.



$7+5=12$ (ц.)

Ответ: 12 ц.

• 1. $11-6+8=13$

• $9-5+7=11$

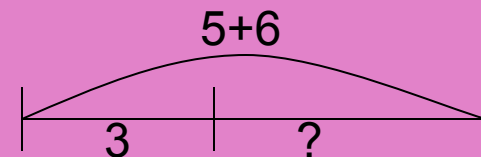
• $7+8-9=6$

• 2. $1 \text{ дм} = 10 \text{ см}$

• $1 \text{ дм } 2 \text{ см} < 2 \text{ дм}$

• $5 \text{ см} < 5 \text{ дм}$

• 3.



1) $5+6=11$ (ц.) всего

2) $11-3=8$ (ц.) осталось

Ответ: 8 ц.



Групповая работа.



Рефлексивная минутка.

Тема: Сложение и
вычитание чисел в
пределах 20.