

Mame Mamuka

Сегодня на уроке:



**«Сложение и вычитание
5».**

Закрепление.

Какой сегодня день
недели?

Четверг

Месяц?

Март



Число?

19

Скажите, сколько?



Сравните числа:



**Назовите другие пары чисел,
чтобы первое было меньше
второго.**

Как получить число **5**

,

если есть число **4**

$$4 + 1 = 5$$

Какое число называют
при счете

перед числом 8 ??



Назовите числа, которые
стоят между




2 и 5

3, 4, 5, 6, 7, 8

Поставьте в примере
пропущенное число:

$$4 + 2 = 6$$

Поставьте в примере
пропущенное число:



Назовите предыдущее и
последующее число:



Угадайте знак и
пропущенное число:

$$3 * \boxed{2} = 5$$

Не решая примеров,
скажите, где ответ больше
или меньше? Почему?

$$3 + 1$$

$$3 - 1$$

Назовите самое маленькое
число, самое большое.

2, 1, 4, 3, 7, 6.

Расположите их в порядке
увеличения.



1, 2, 3, 4, 6, 7.

А теперь задача шутка,
только на одну минутку!



По траве бежал котенок,
А за ним бежал щенок.
Кто, ребята, сосчитает,
Сколько там бежало ног?

8



Давайте отдохнем!



Скажите, что вы
знаете о числе:




5

Состав числа 5



Игра «Назови соседа»



Найдём дом

№ 5

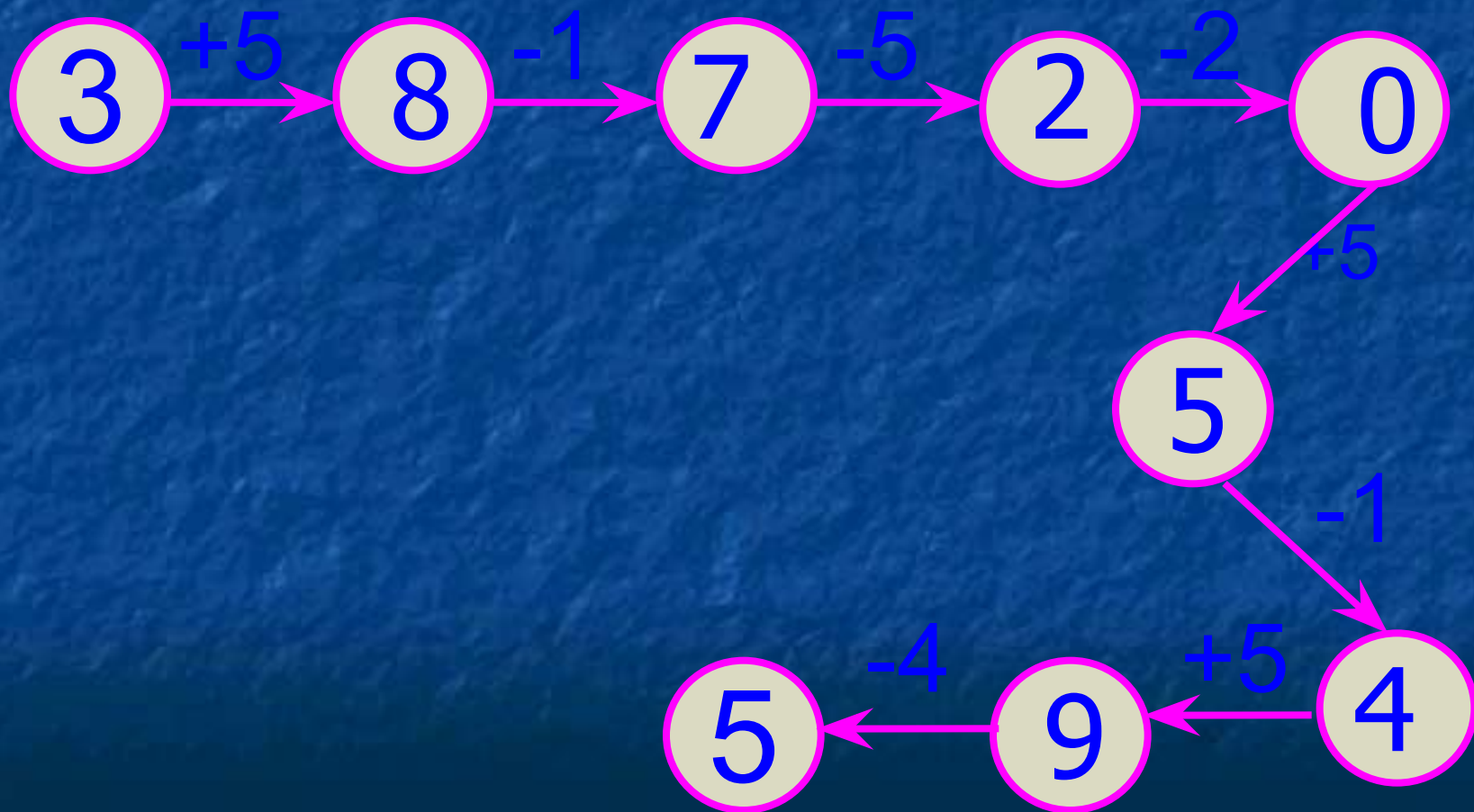
и назовём
жителей

этого дома

А теперь поиграем!

Игра «Цепочка»

Помогите слоненку. Он добрый и смешной, хочет с вами подружиться.



Помогаем «Незнайке» (исправь ошибку)



$$5 + 2 = 6$$

$$5 + 0 = 5$$

$$9 - 5 = 4$$

Самопроверка.
(Записать только ответы)



$$\begin{array}{r} 3 + 5 = 8 \\ 7 - 5 = 2 \\ 5 - 5 = 0 \\ 10 - 5 = 5 \\ 5 + 0 = 5 \end{array}$$

Давайте отдохнем!





РАБОТАЕМ

С УЧЕБНИКОМ СТР.60 №7

И ТЕТРАДЬЮ СТР. 50 № 11

Игра

«Кто самый внимательный?»

Определить, сколько
здесь квадратов.



Молодцы !

