

# Математика



Сегодня на уроке:



**«Сложение и вычитание  
5».**

**Закрепление.**

Какой сегодня день  
недели?

Четверг



Месяц?

Март

Число?

19

# Скажите, сколько?



**Сравните числа:**

3 < 4

**Назовите другие пары чисел,  
чтобы первое было меньше  
второго.**

Как получить число **5**

,

если есть число **4**

$$4 + 1 = 5$$

Какое число называют  
при счете

перед числом 8 ??



Назовите числа, которые  
стоят между



2 и 5


3, 4, 5, 6, 7, 8



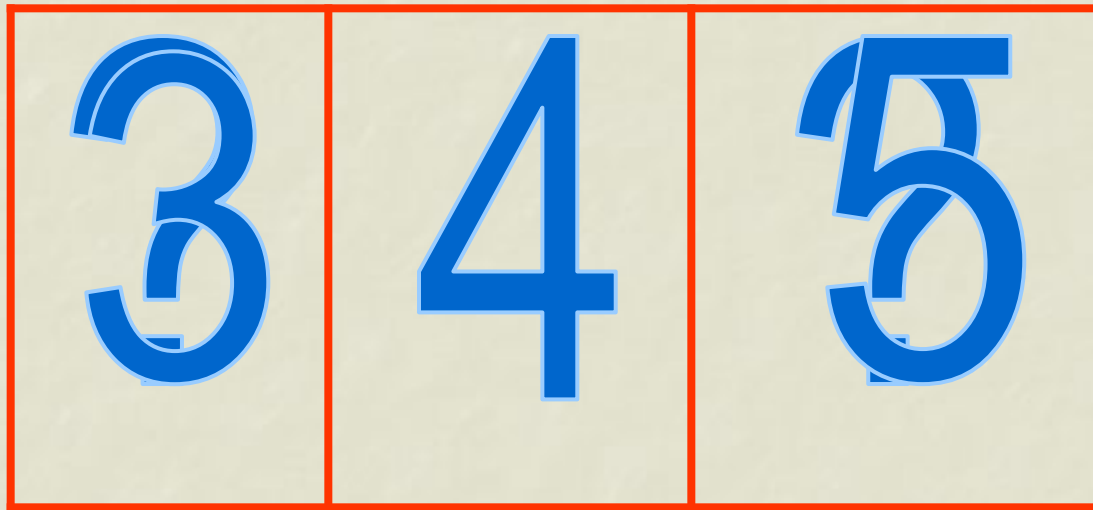
Поставьте в примере  
пропущенное число:

$$4 + 2 = 6$$

Поставьте в примере  
пропущенное число:



Назовите предыдущее и  
последующее число:



Угадайте знак и  
пропущенное число:

$$9 * \boxed{2} = 5$$

Не решая примеров,  
скажите, где ответ больше  
или меньше? Почему?

$$3 + 1$$

$$3 - 1$$

Назовите самое маленькое  
число, самое большое.

2, 1, 4, 3, 7, 6.

Расположите их в порядке  
увеличения.



1, 2, 3, 4, 6, 7.

А теперь задача шутка,  
только на одну минутку!



- По траве бежал котенок,  
А за ним бежал щенок.  
Кто, ребята, сосчитает,  
Сколько там бежало ног?

8



# Давайте отдохнем!





Скажите, что вы  
знаете о числе:

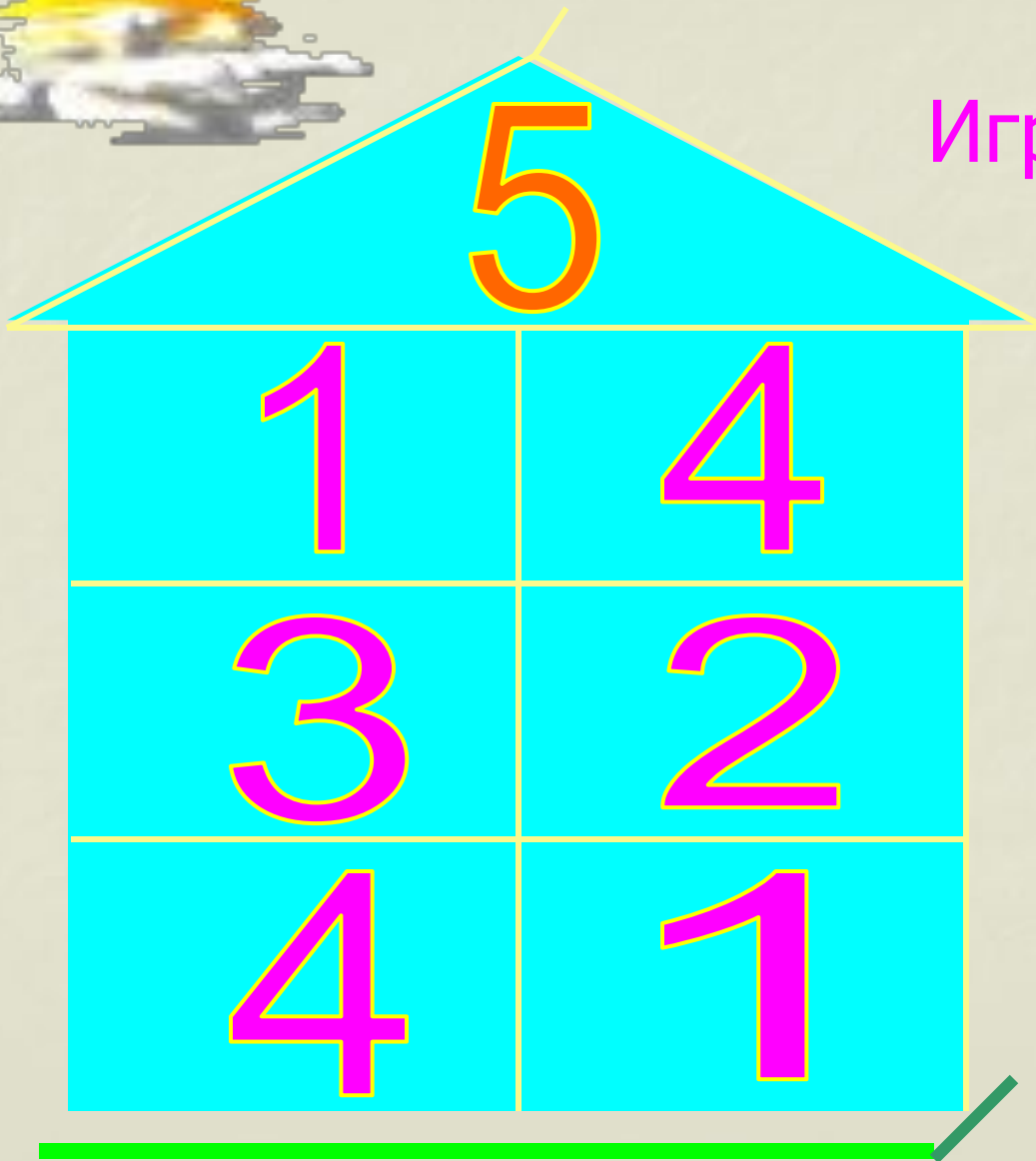


5

# Состав числа 5



Игра «Назови соседа»



Найдём дом

№ 5


и назовём  
жителей

этого дома

# А теперь поиграем!

## Игра «Цепочка»

Помогите слоненку. Он добрый и смешной, хочет с вами подружиться.



# Помогаем «Незнайке» (исправь ошибку)



$$5 + 2 = 6$$

$$5 + 0 = 5$$

$$9 - 5 = 4$$

Самопроверка.  
(Записать только ответы)



$$\begin{array}{r} 3 + 5 = 8 \\ 7 - 5 = 2 \\ 5 - 5 = 0 \\ 10 - 5 = 5 \\ 5 + 0 = 5 \end{array}$$

Давайте отдохнем!



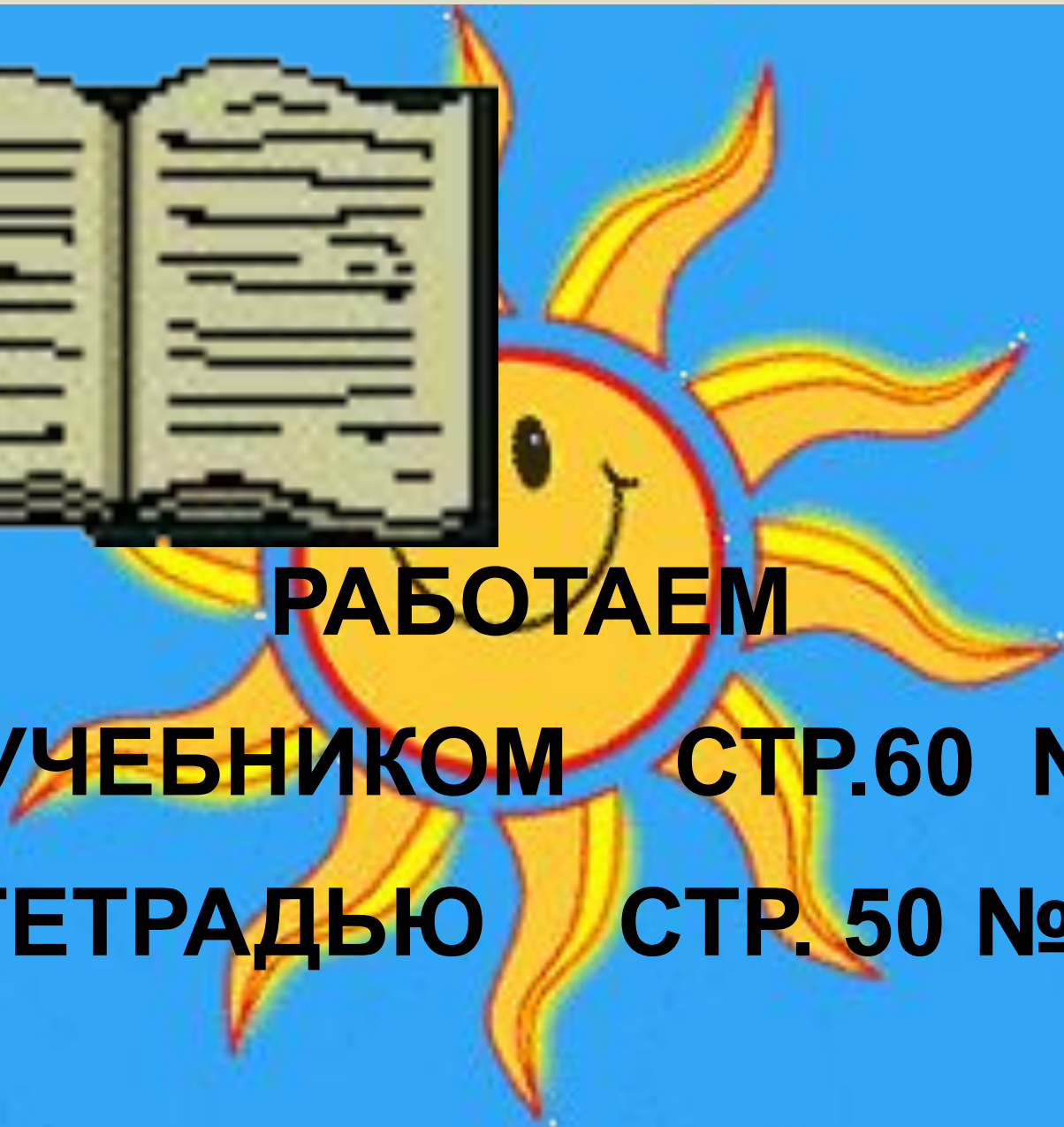




**РАБОТАЕМ**

**С УЧЕБНИКОМ      СТР.60 №7**

**И ТЕТРАДЬЮ      СТР. 50 № 11**



# Игра

## «Кто самый внимательный?»

Определить, сколько  
здесь квадратов.





Молодцы !

