

Тема. Сложение и вычитание в пределах 20.



20 марта.

Классная работа



14	16	20
15	11	17
18	12	10

$$3 + 4 = 7$$

$$7 - 3 = 4$$

$$4 + 3 = 7$$

$$7 - 4 = 3$$




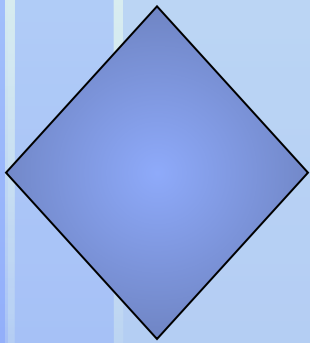


1 сл. 2 сл. сумма

$$3 + 4 = 7$$

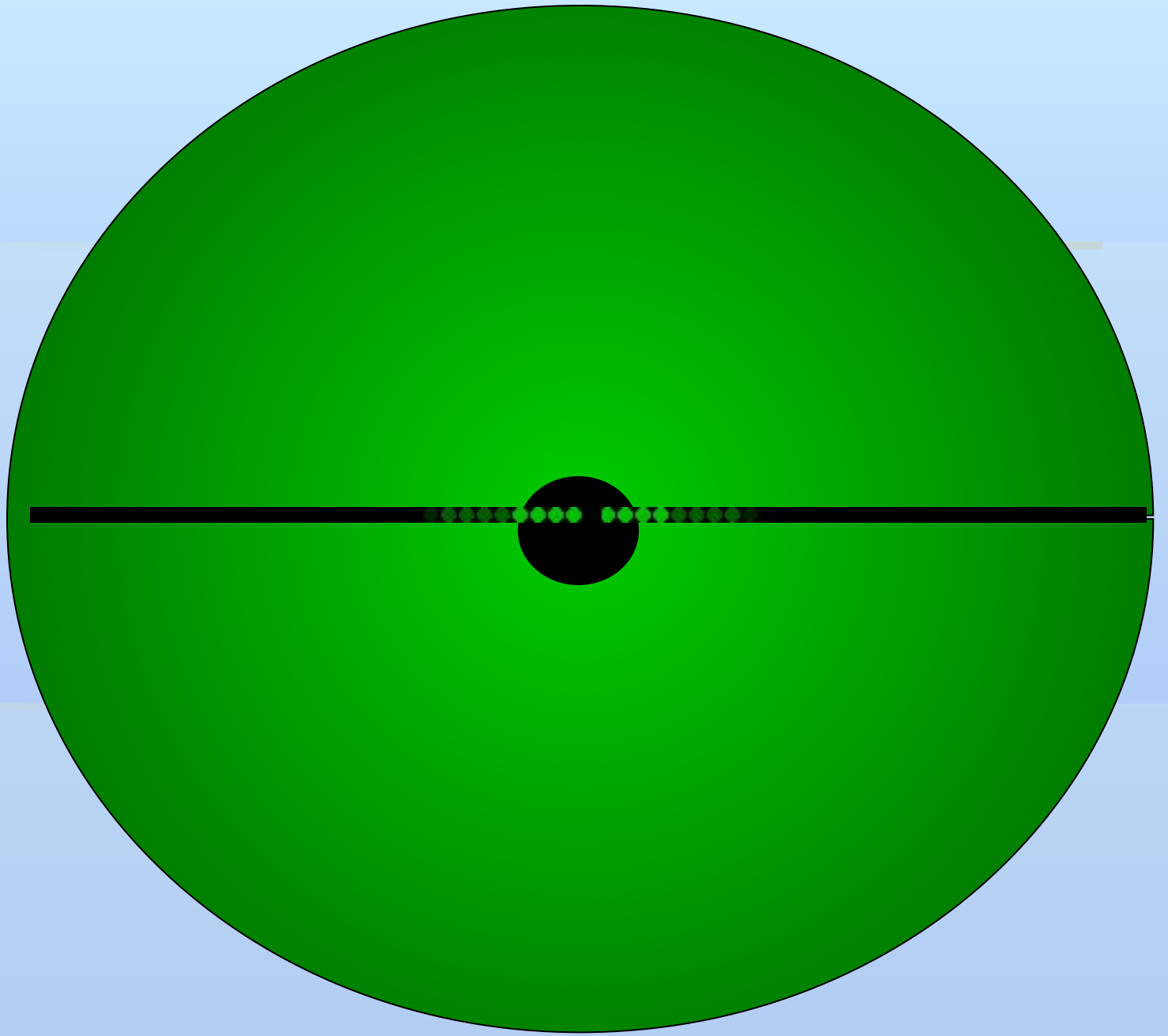
$$7 - 3 = 4$$


$$4 + 3 = 7$$


$$7 - 4 = 3$$













М.И. Моро С.И. Волкова С.В. Степанова

Математика



Часть
2

1

ПРОСВЕЩЕНИЕ
МОСКОВСКИЙ УЧЕБНИК

стр. 52

У Кощея Бессмертного есть **14 л.** литровых ловушек для Ивана-царевича, а у Бабы-яги – **10 л.** литровых ловушек.

Сколько ловушек у Кощея Бессмертного?

На сколько ловушек у Кощея больше, чем у

Бабы-яги?

Сколько ловушек у Бабы-яги?

Сколько ловушек у Кикиморы?



У Кощея Бессмертного есть 14 хитрых ловушек для Ивана-царевича, а у Бабы-яги – 10 хитрых ловушек.

На сколько ловушек у Кощея больше, чем у

Бабы-яги?

$$14 - 10 = 4$$

Ответ: на 4 ловушки больше.



На зарядку становись!



Самостоятельная работа



В какой башне Кощей заточил Василису Премудрую, если Марья-царевна не сидит в башне 18 и 16, а Василиса Прекрасная не сидит в башне 18?





Итог урока

- Сегодня на уроке я учился ...
- Сегодня на уроке я научился ...
- Сегодня на уроке мне понравилось...

