

**Тема. Сложение и вычитание в пределах 20.**



*20 марта.*

*Классная работа*



14	16	20
15	11	17
18	12	10

$$3 + 4 = 7$$

$$7 - 3 = 4$$

$$4 + 3 = 7$$

$$7 - 4 = 3$$



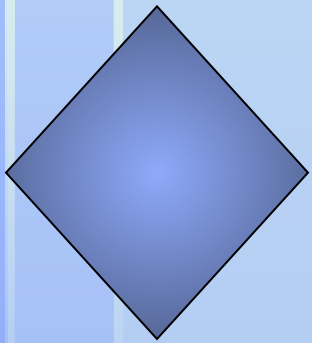


1 сл.    2 сл.    сумма


$$3 + 4 = 7$$

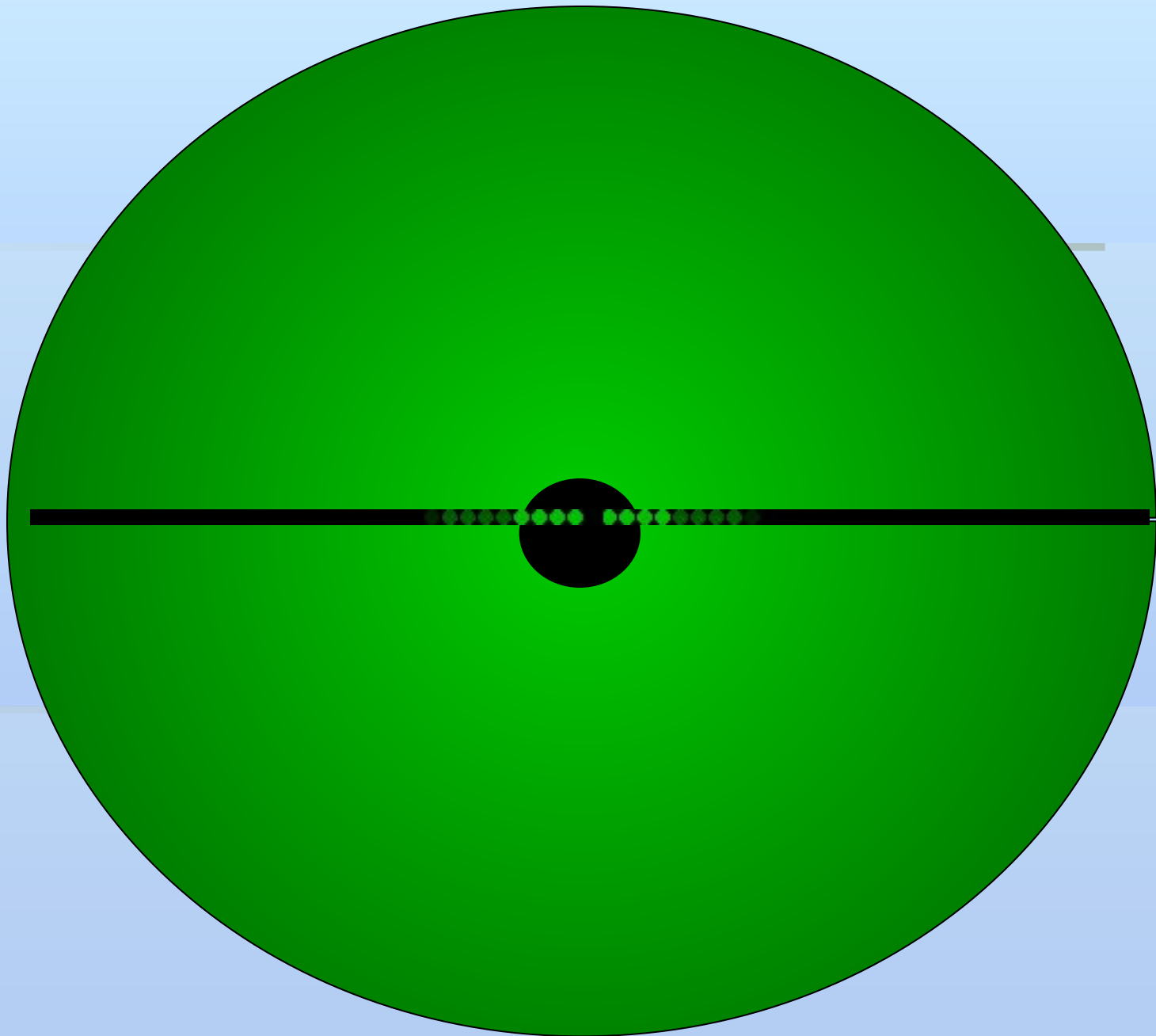
$$7 - 3 = 4$$

$$4 + 3 = 7$$


$$7 - 4 = 3$$
















М.И. Моро С.И. Волкова С.В. Степанова

# Математика



Часть  
2

# 1

ПРОСВЕЩЕНИЕ  
МОСКОВСКИЙ УЧЕБНИК

стр. 52

У Кощея Бессмертного есть **14 л.** литровых ловушек для Ивана-царевича, а у Бабы-яги – **10 л.** литровых ловушек.

Сколько ловушек у Кощея Бессмертного?

На сколько ловушек у Кощея больше, чем у

Бабы-яги?

Сколько ловушек у Бабы-яги?

Сколько ловушек у Кикиморы?



У Кощея Бессмертного есть 14 хитрых ловушек для Ивана-царевича, а у Бабы-яги – 10 хитрых ловушек.

На сколько ловушек у Кощея больше, чем у

Бабы-яги?

$$14 - 10 = 4$$

Ответ: на 4 ловушки больше.



*На зарядку становись!*



# Самостоятельная работа



**В какой башне Кощей заточил Василису Премудрую, если Марья-царевна не сидит в башне 18 и 16, а Василиса Прекрасная не сидит в башне 18?**







# *Итог урока*

- **Сегодня на уроке я учился ...**
- **Сегодня на уроке я научился ...**
- **Сегодня на уроке мне понравилось...**

