

Сложение и вычитание десятичных дробей.
Умножение десятичной дроби на натуральное число



Укажите число, которое надо вставить, чтобы
получилось верное равенство.

$3,4 + \boxed{} = 10,0$

7,6

7,4

6,6

Разминка

Укажите число, которое надо вставить, чтобы
получилось верное равенство.

$$7,2 + \boxed{} = 10,0$$

2,2

2,8

3,8



Укажите число, которое надо вставить, чтобы
получилось верное равенство.

$$\square + 6,8 = 10,0$$

2,8

3,2

4,2



Укажите число, которое надо вставить, чтобы
получилось верное равенство.

$$\boxed{} + 4,7 = 10,0$$

6,3

6,7

5,3




Укажите число, которое надо вставить, чтобы
получилось верное равенство.

$$1,7 + \square = 5,0$$

3,3

4,3

6,7




Укажите число, которое надо вставить, чтобы
получилось верное равенство.

$$3,9 + \square = 7,5$$

3,4

4,4

3,6



Укажите число, которое надо вставить, чтобы
получилось верное равенство.

$$4,6 + \square = 8,1$$

4,5

3,5

2,5




Укажите число, которое надо вставить, чтобы
получилось верное равенство.

$$+ 3,9 = 6,7$$

2,8

3,8

1,8




Укажите число, которое надо вставить, чтобы
получилось верное равенство.

$$\square + 8,2 = 10,0$$

2,8

3,2

1,8



Укажите число, которое надо вставить, чтобы
получилось верное равенство.

$$\square + 8,2 = 1,00$$

2,8

3,2

1,8



Молодцы!

Молодцы!

Вспомни !

Правило умножения десятичной дроби на натуральное число

$$3,56 \cdot 34 = 121,04$$

$$\begin{array}{r} \times 3,56 \\ \quad 34 \\ \hline 1424 \\ 1068 \\ \hline 121,04 \end{array}$$

$$103,48 \cdot 10 = 1034,8$$

→

Работа в парах



Физкультминутка

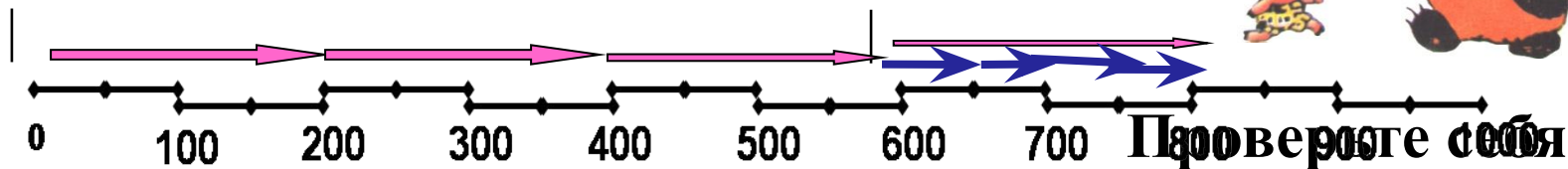




Ему удалось догнать Винни-Пуха довольно быстро, поскольку тот шел не торопясь, со скоростью 50 м/мин, а Пятачок бежал быстро – со скоростью 200 м/мин.

П

В-П



1) какое расстояние Винни-Пух прошел за 0,2 часа

$$0,2 \text{ ч} = 2/10 \text{ ч} = 60 : 10 \cdot 2 = 12 \text{ мин} \quad 50 \\ \cdot 12 = 600 \text{ (м)}$$

2) на какое расстояние Пятачок приближался к Винни-Пуху за одну минуту;

$$200 - 50 = 150 \text{ (м)}$$

3) сколько времени понадобилось Пятачку, чтобы догнать Винни-Пуха.

$$600 : 150 = 4 \text{ (мин)}$$



Домашнее задание: 1334, 1336



ДО СВИДАНИЯ

Ошибкa!

