

Сложение и вычитание в пределах 20.  
Повторение.

2 класс

Не говори - не умею, говори - научусь.



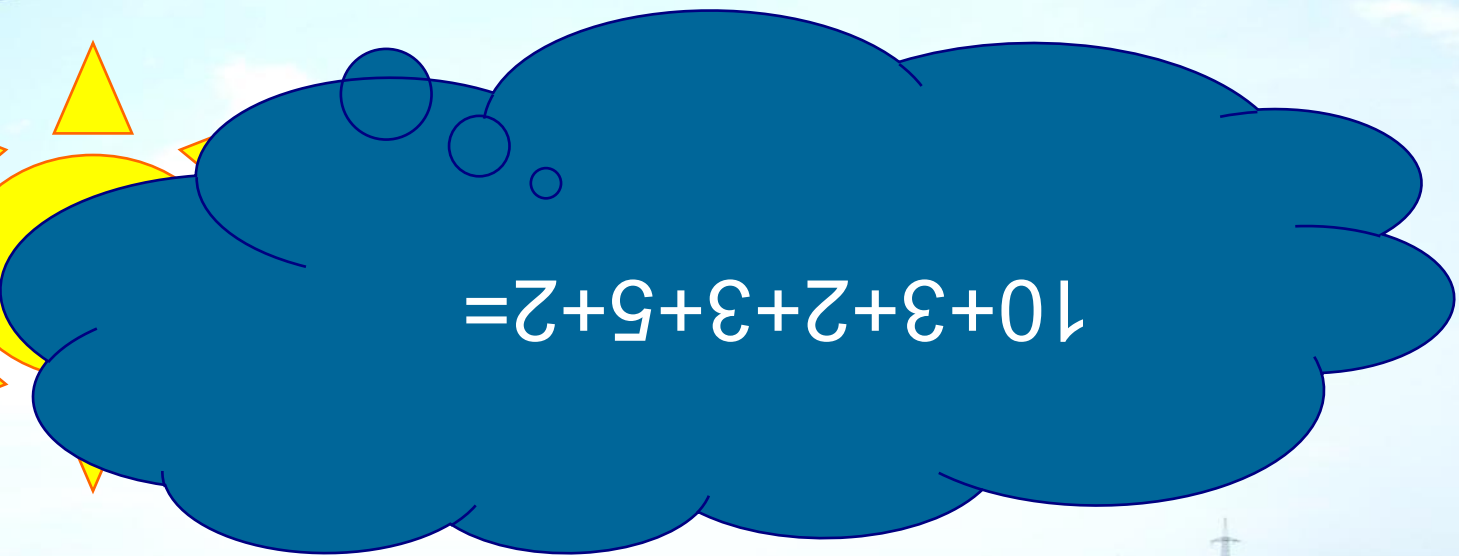
# Тема урока



**Закрепление знаний,  
умений и навыков  
табличного сложения и  
вычитания в пределах  
20.**

# Цели урока

- Продолжить работу по запоминанию таблицы сложения и вычитания в пределах *20*.
- Закрепить умение решать простые задачи
- Совершенствовать вычислительные навыки в пределах *100*.



$$10+3+2+3+5+2=$$



Т 20 градусов тепла ла.

термометра?












$$3 + 7$$

$$10 + 5$$

$$13 + 10$$

$$2 + 10$$

$$14 + 4$$





# «МЕТКИЕ СТРЕЛКИ»

70 – 60

45 (видов елей в мире)

40 + 10

10 (видов елей в нашей стране)

91 – 90

50 (метров максимальная высота ели)

18 – 9

1 (метр толщина ствола)

15 + 30

9 (лет держится хвоя на дереве)

**1 8 35 70 100 2 40 9 99**

**1 2 8 9 35 40 70 99 100**

100 – Ы

40 – Ц

1 – Ф

2 – И

99 – Д

70 – И

9 – О

8 – Т

35 – Н

1	2	8	9	35	40	70	99	100
<i>Ф</i>	<i>И</i>	<i>Т</i>	<i>О</i>	<i>Н</i>	<i>Ц</i>	<i>И</i>	<i>Д</i>	<i>Ы</i>

> < =


$$15 - 5 \square 10$$

$$10 + 7 \square 18$$

$$14 - 4 \square 9$$

$$9 + 10 \square 13$$





# Задача





# Работа по справочнику


**С.11 № 58**








 $+ 2 = 11$


$20 -$  $= 10$

$8 +$  $= 16$

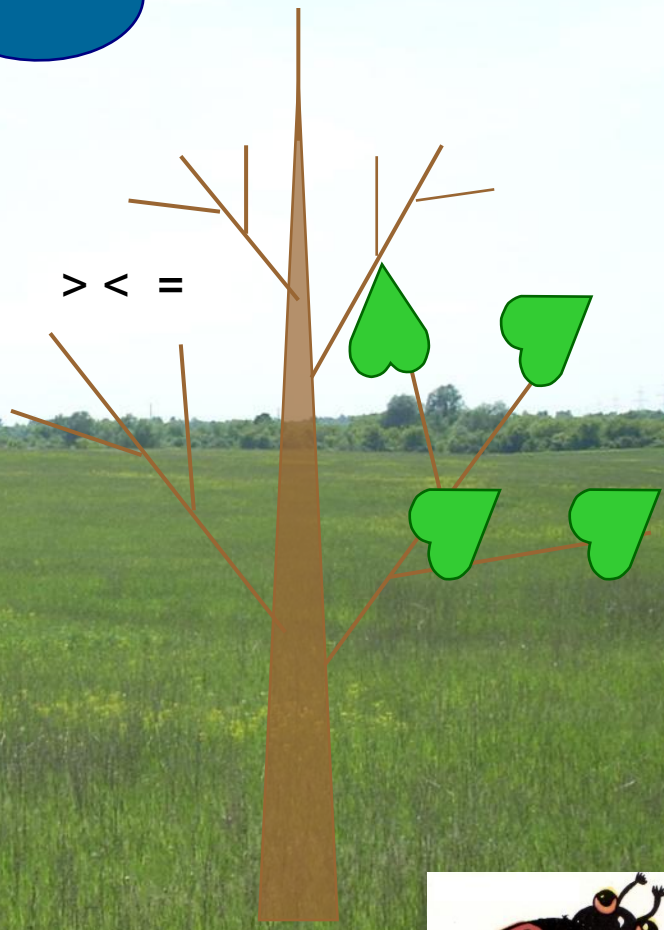
$15 - 8 =$ 

 $+ 8 = 17$

$18 -$  $= 9$



$$10 \\ + 5$$



# *Домашнее задание*

