


Сложение и вычитание двузначных чисел в пределах 100

- Урок закрепления
- Математика 2 класс
- МОУ Анненская СОШ
- Учитель: Анискина И.С.



Цели урока



- Закрепить навыки сложения и вычитания двузначных чисел в пределах 100 и умение решать задачи
- Пробудить интерес к предмету через дидактическую игру и логические задания



Кто похитил Василису?



Устный счёт

1. Найдите лишнее число.

2. Расположи числа в порядке убывания.

35	73	33	40	13	23
о	к	щ	л	й	е







Около избушки на курьих ножках стоят две бочки с водой.
В одной бочке 20 ведер с водой, а в другой-15 вёдер.
Из одной бочки баба-Яга взяла 5 вёдер воды.
Сколько вёдер воды осталось в бочке?

- $38+2$ $92-90$
- $46-4$ $49-30$
- $87+10$ $82+6$

- $40 + \quad =60$
- $87 - \quad =80$
- $50 - \quad =20$
- $49 + \quad =50$

**12—(18-9), (9+5)-7,
11-(7+3)**

Верная дорога та,
где ответ не самый
большой и не
самый маленький



а физкультминутка

- По дорожке, по дорожке
- Скачем мы на правой ножке.
- И по этой же дорожке
- Скачем мы на левой ножке.
- По тропинке побежим,
- До лужайки добежим.
- На лужайке, на лужайке
- Мы попрыгаем как зайки.
- Стоп. Немного отдохнём
- И домой пешком пойдём.

Замок Коцея

Найди длину
ломаной из
трёх звеньев,
длина которых
38м, 42м, 20м



**задание,
Василиса -
твоя!**

В моём саду
растёт
волшебная
яблоня с
золотыми и
серебряными
яблоками.
Золотых яблок
было 32,
серебряных- 8. Я
сорвал 15 яблок.
Сколько яблок
осталось?



кто решил
правильно
?

$$(32+8)-15=25$$

$$(32-15)+8=25$$



**В какой
башне
Василиса?**

Василиса
находится
не в самой
высокой
башне и не
в самой
низкой. Где
же она?





Итог урока

- Что вам понравилось на уроке?
- Вы хорошо поработали, правильно и быстро отвечали, внимательно слушали. Молодцы!