

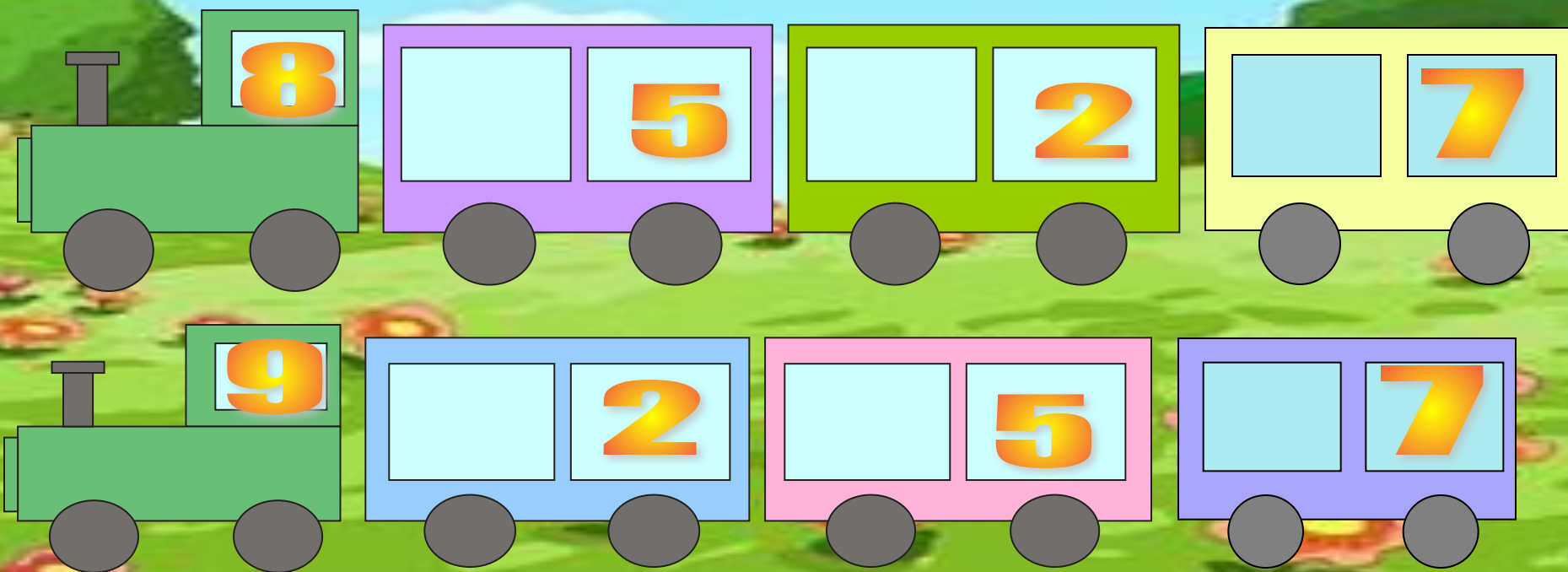
Автор: Ильичёва Наталья Васильевна,
Учитель начальных классов
ГОУ СОШ № 80
СЗАО г. Москвы.

Путешествие в сказку

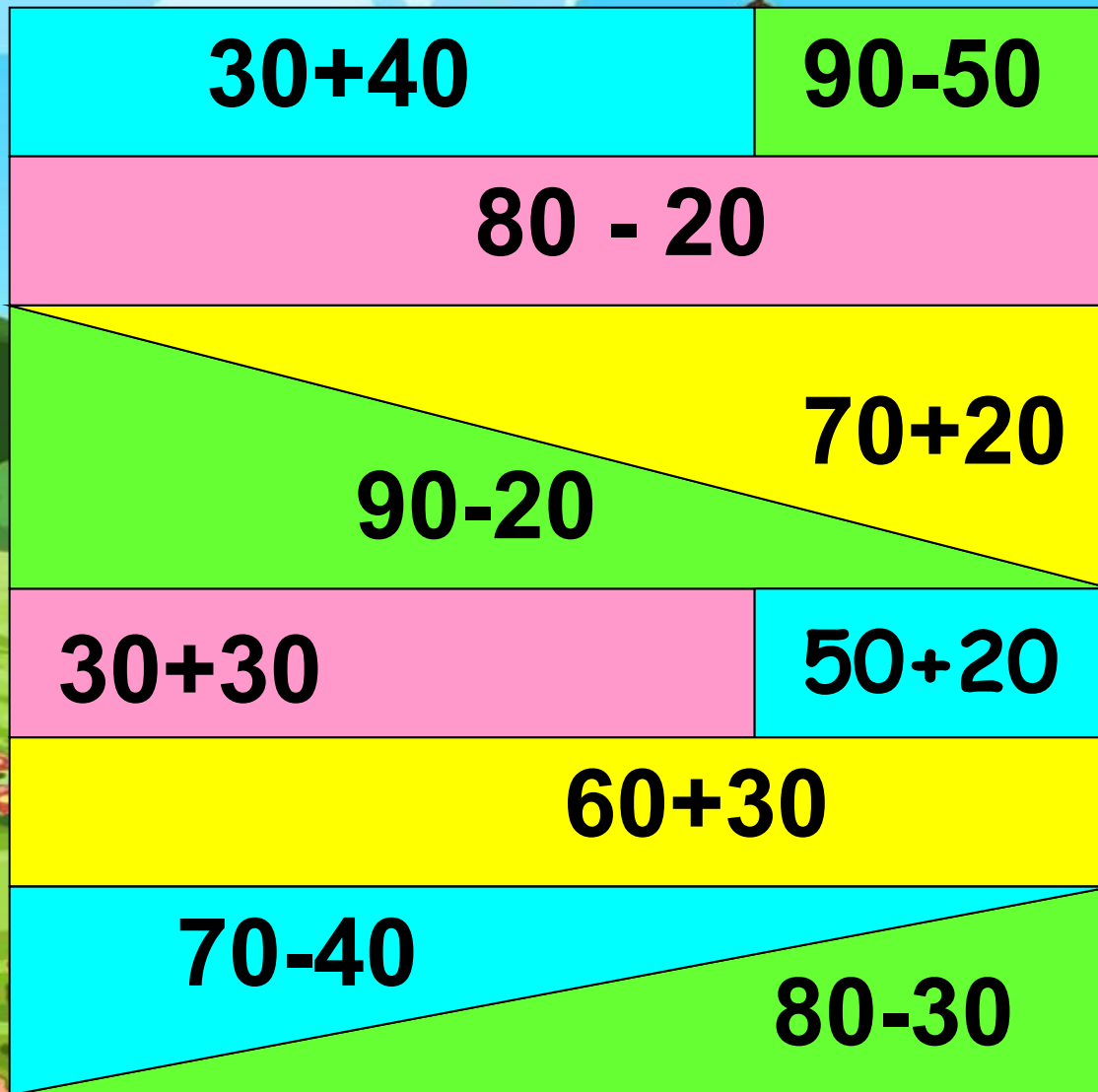


Рассадите пассажиров

1 2 3 4 5 6 7



В Теремок





Запишите числа

8д. 7ед.

4д. 5ед.

7д. 4ед.

5д. 2ед.

7д. 6ед.

3д. 1ед.

2д. 5ед.

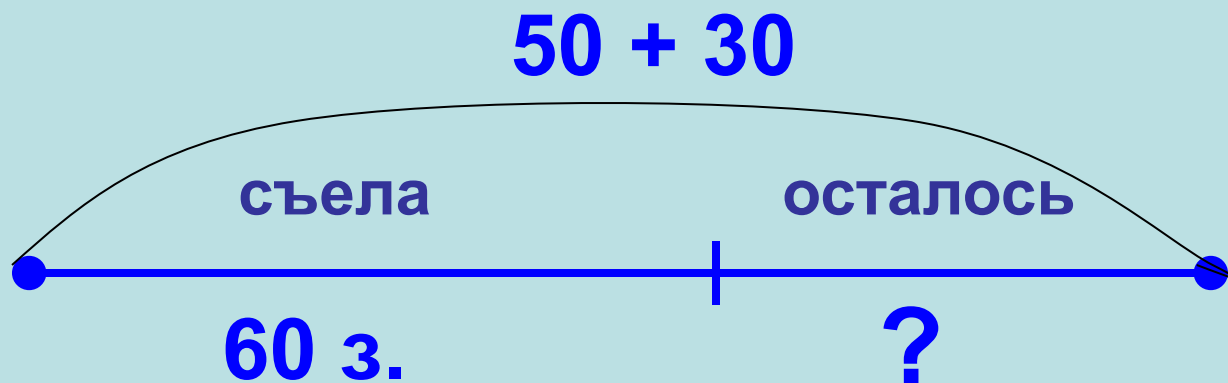




Мышкина задача




Мышка заготовила на зиму 50 зёрнышек пшеницы и 30 зернышек риса. 60 зёрнышек она съела. Сколько зёрнышек осталось у мышки?





Помогите зайке собрать морковку

$45 + 23 =$




$26 - 12 =$




$34 + 25 =$



$47 - 24 =$



$89 - 67 =$





физкультминутка





Решите уравнения

$$X + 23 = 57$$

$$X = 57 - 23$$

$$X = 34$$

Ответ: 34

$$X - 14 = 25$$

$$X = 25 + 14$$

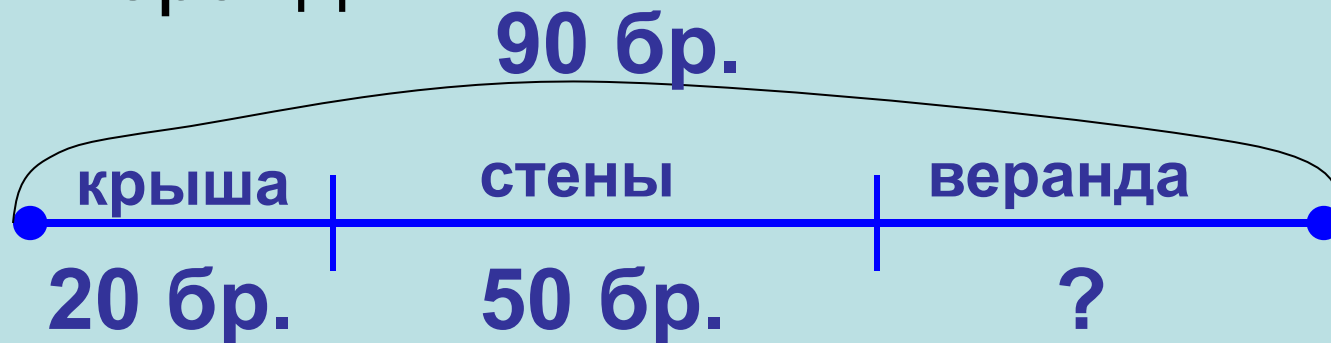
$$X = 39$$

Ответ: 39



Задача

Для постройки нового теремка звери приготовили 90 брёвен. Из них 20 брёвен потребовалось для постройки крыши, 50 брёвен для постройки стен, а остальные пошли на строительство веранды. Сколько брёвен понадобилось для веранды?



Спасибо за помощь!

