

МАТЕМАТИКА

2
клас
с



Ну-ка проверь, дружок,

Ты готов начать урок?



Все ли на месте,

Все ли в порядке,

Ручка, книжка и тетрадка?

Все ли правильно сидят?

Все ли внимательно глядят?





Зарядка для ума:

Узнай, о каком числе
идёт речь:



больше



на



Назови числа в которых

6 дес. 1ед.

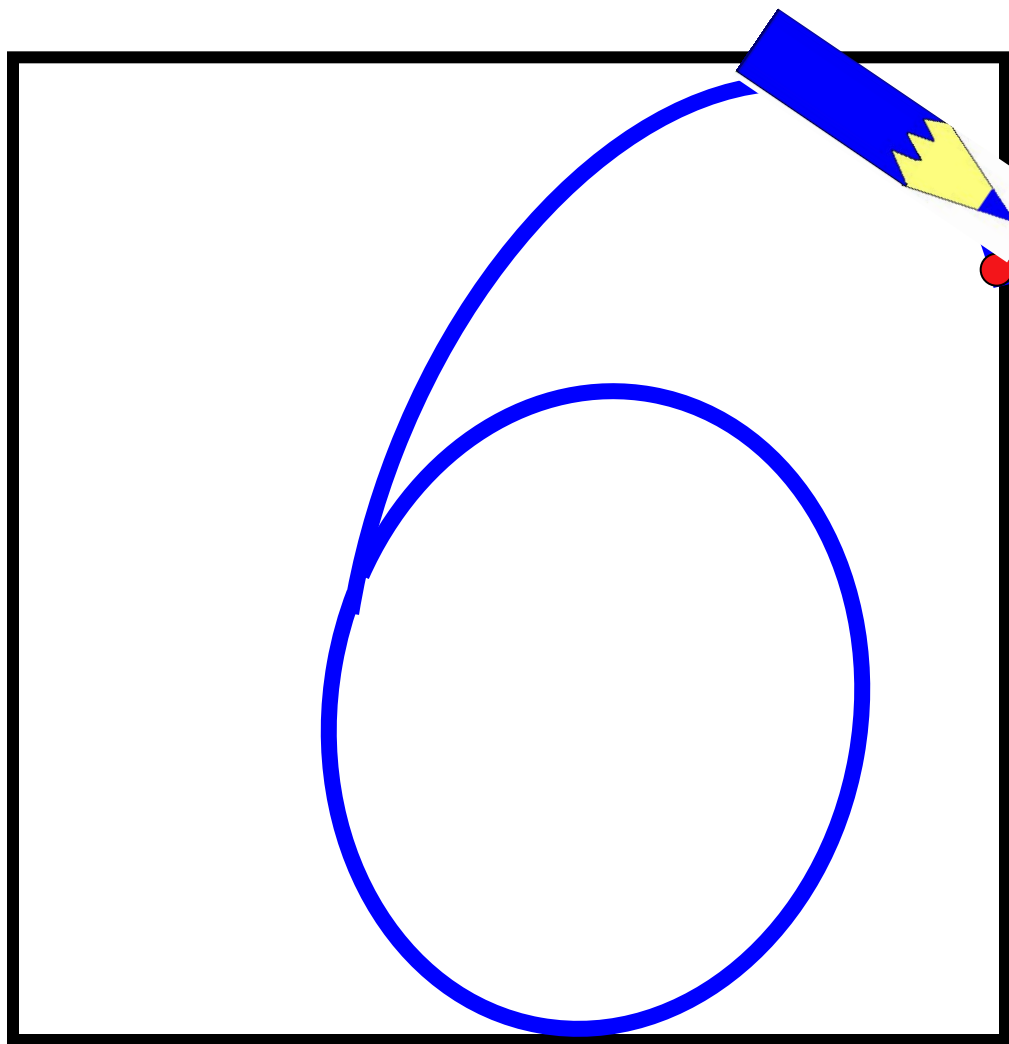
5 дес. 6 ед.

1 дес. 6 ед.

10 дес.

6 дес.





Цифра шесть —
дверной
замочек

Сверху крюк,
внизу кружочек.



1. Разность чисел 11 и 9 равна ... **2**

2. Сумма чисел 9 и 8 равна ... **17**

3. Если 10 увеличить на 7, то получится ... **17**

4. Если 16 уменьшить на 6, то получится... **10**

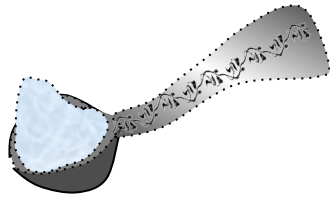
5. 8 меньше 13 на ... **5**

6. 15 больше 6 на ... **9**


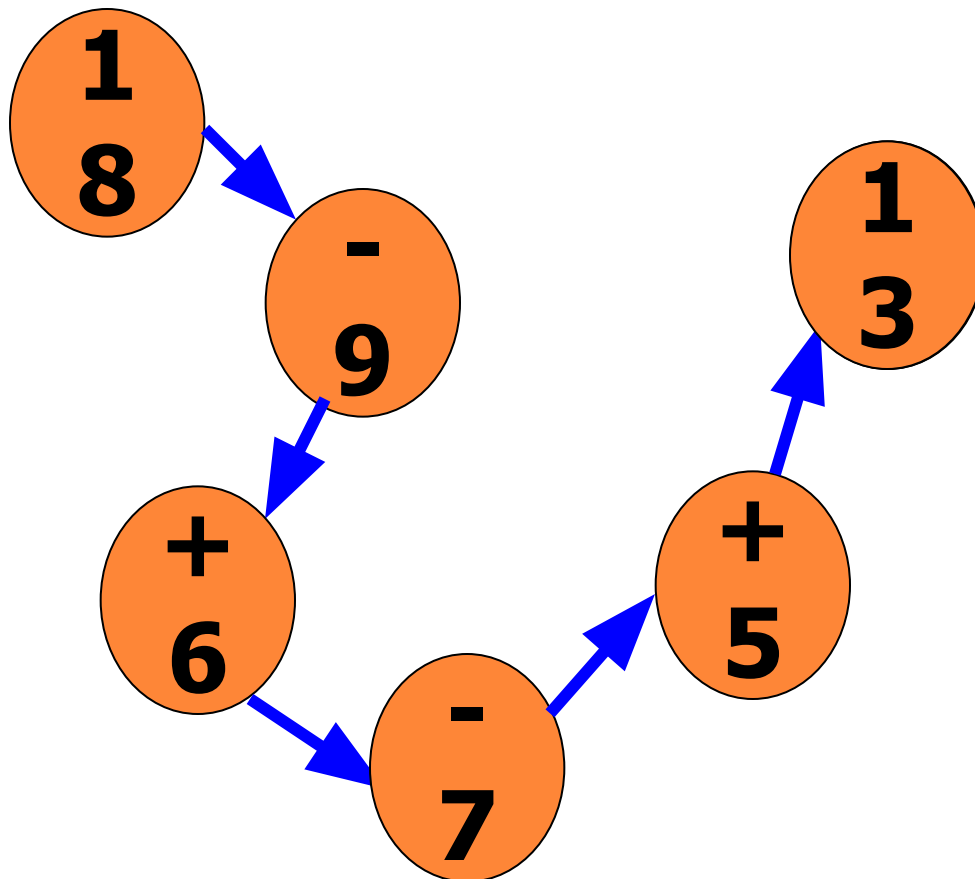
7. В 1 м = **100** см

8. В 1 м = **10** дм


9. В 1 ч = **60** мин



Цепочка:



Задумано два числа из этого круга.



Сложи их и получишь «**20**»



Когда мы смотрим на число 3,

а говорим 15 ?

Когда смотрим на часы,
которые показывают 3 часа
дня,
то есть 15 часов.







Вставь знак $>$ или $<$

I вариант

85...58

37...51

69...90

12...51

99...84

II вариант

76...67

44...39

96...82

19...22

85...79



Страница 42
Примеры № 6





Какая фигура лишняя?

1)



3)

2)



Страница 42
Задание № 4





Страница 44

Задача № 10



Проверим!



1) $7 + 8 = 18$ (с) было.

2) $15 - 5 = 10$ (с)

Ответ: осталось 10 с.



$(7+8) - 5 = 10$ (с)

Ответ: осталось 10 с.



Выполняем задания на карточках





Проверим!

$$8+3-5=6$$

$$12-5+4=11$$

$$9+4-5=8$$

$$10-5=5$$

$$11-2+5=14$$




$$1+10-5=6$$

$$2+9-4=7$$

$$7+5-4=8$$

$$8-6+9=11$$

$$5+6-3=8$$



Модцы

