


ОБРАЗОВАТЕЛЬНАЯ СИСТЕМА «ШКОЛА 2100»

Т.Е. Демидова, С.А. Козлова, А.П. Тонких

МАТЕМАТИКА

**3
класс
2
часть**



Урок математики 3 класс

“Вы талантливые дети! Когда-нибудь вы сами приятно поразитесь, какие вы умные, как много и хорошо умеете, если будете постоянно работать над собой, ставить новые цели и стремиться к их достижению...”

Ж.Ж. Руссо

$$100 - (44 + 8) = 48$$

$$100 - 44 - 8 = 48$$

$$(53 + 19) : 9 = 8$$

$$53 + 19 \dots 9 = 8$$

$$9 * 9 + 19 = 100$$

$$9 \dots 9 \dots 19 = 100$$

184, 814, 814, 148, 481, 841

$$184 = 100 + 80 + 4$$

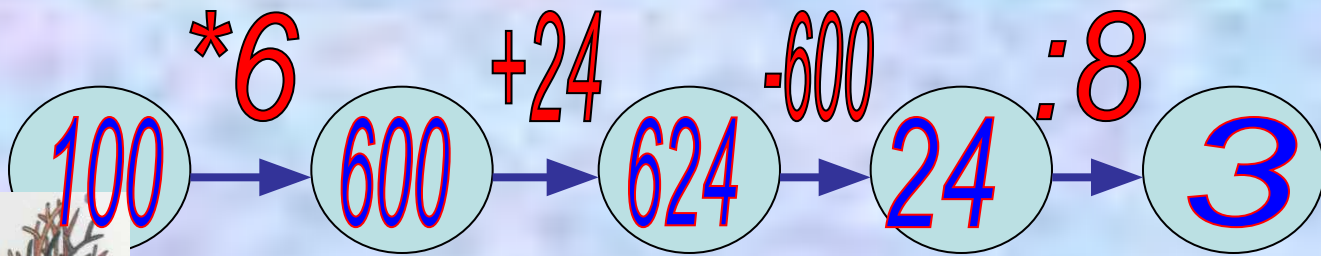
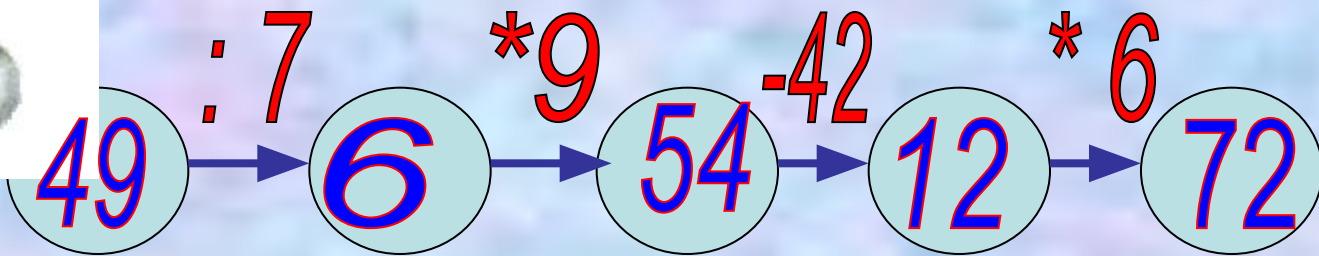
$$418 = 400 + 10 + 8$$

$$841 = 800 + 40 + 1$$

$$\underline{814} = 800 + 10 + 4$$

$$\underline{148} = 100 + 40 + 8$$

$$\underline{481} = 400 + 80 + 1$$



$$140+60=200$$

**Составь выражение , совершая
обратные действия**

$$200-60=140$$

Тема: Сложение и вычитание трехзначных чисел(закрепление)

- Закреплять сложение и вычитание трехзначных чисел;
- Развивать умения решать текстовые задачи ;
- Закреплять умения в нахождении объема, периметра , площади;
- Воспитывать культуру учебного труда.

Реши с объяснением



$$340+60 = 400$$

$$(300+40)+60=400$$

$$34 \text{ д.}+6\text{д.}=40\text{д.}=400$$

$$400-30 = 370$$

$$(300+100)-30=300+(100-30)= 370$$

$$40\text{д.}-3\text{д.}=37\text{д.}=370$$

Проверь

180

200

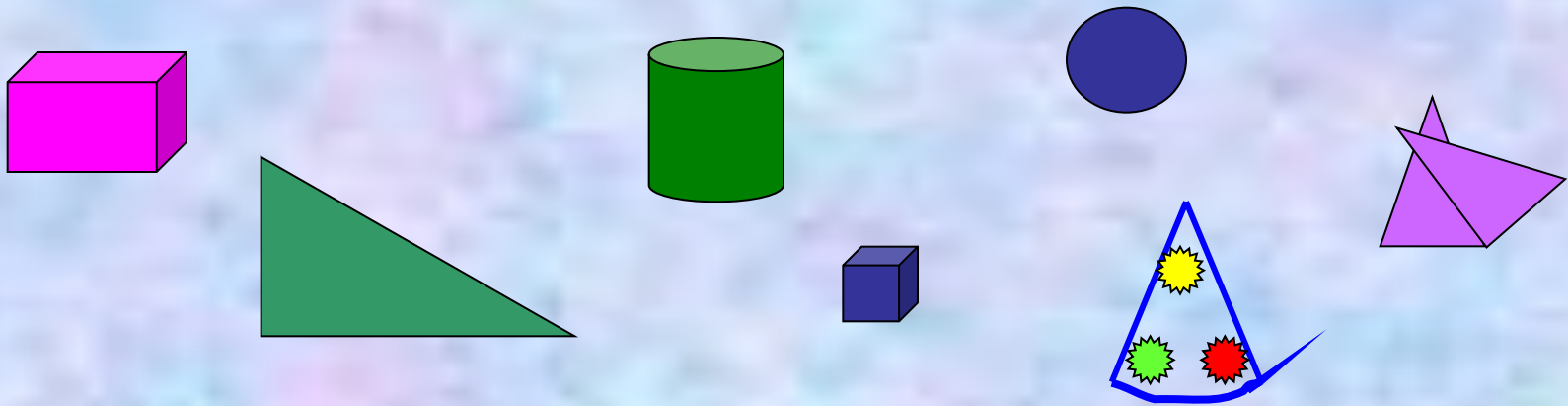
500

530


600

690





– Чему равен объем коробки , если ее длина 7 см, ширина 2 см, высота 3 см.




Найдите отпечаток этой коробки.

Найдите периметр этой фигуры

Начертите прямоугольник

18cm




1cm

9cm

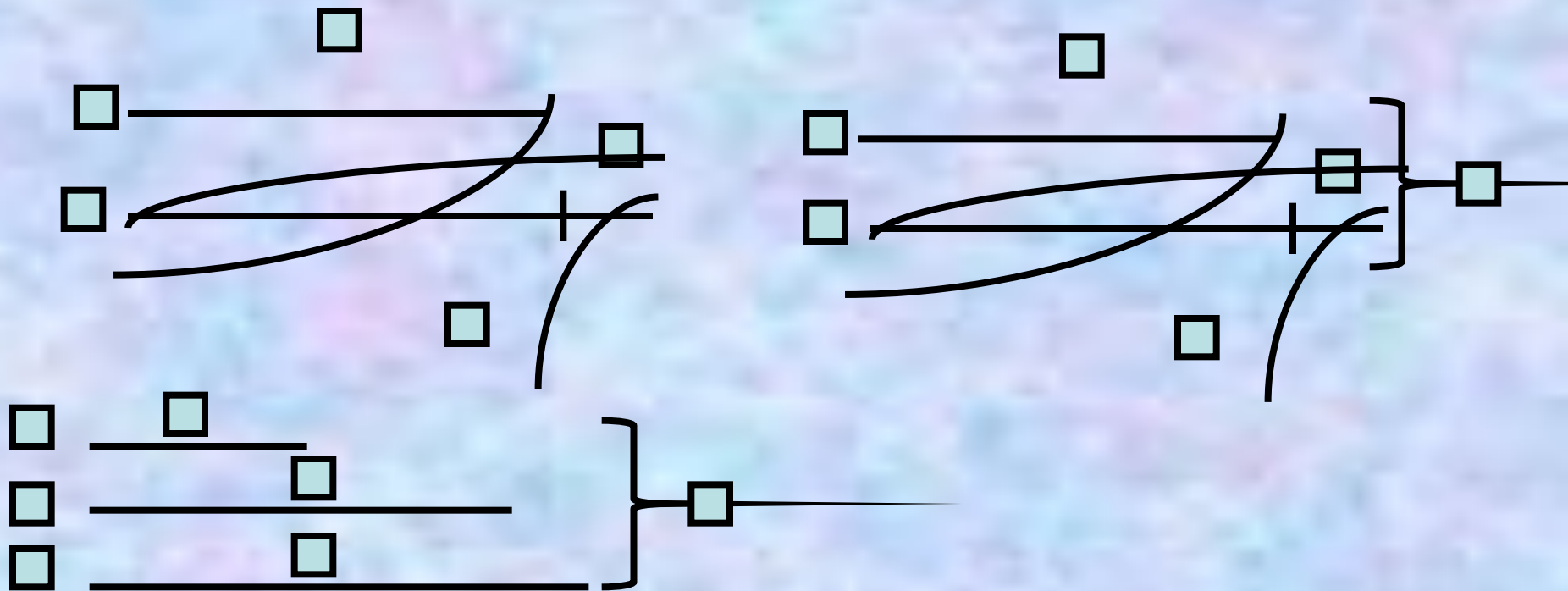


2cm

6cm



3cm



$$320 + (320 + 80) = 720 (\text{ш})$$

Задача

“К Новому году для украшения детских садов закупили 320 красных шаров , а синих на 80 шаров больше . Сколько синих шаров закупили для детских садов?”

Задача

“К Новому году для украшения детских садов закупили 320 красных шаров , а синих на 80 шаров больше . Сколько шаров закупили для детских садов?”

“Дерево успеха”



Красная – если вы набрали 13-15 баллов и вы считаете, что урок прошел для вас плодотворно, с пользой. Вы научились и можете помочь другим



Синяя игрушка – 9-12 баллов и вы считаете, что научились складывать и вычитать трёхзначные числа , но вам ещё нужна помощь.



Жёлтая игрушка – менее 9 баллов – и вы считаете, что вам было трудно на уроке. Вы плохо усвоили новый вычислительный прием

Домашнее задание

Стр. 31

- 1) №7(б)
- 2) №7(а)

