

урок математики

5

5

5

5

5

5

5

5

5

5

5

Тема урока:
**«Сложение и вычитание
трёхзначных чисел в
столбик»**

Математическ ая разминка

		1			
	5	3	1		
+		1	9		
	<hr/>				
	5	5	0		

***ВСПОМНИ
АЛГОРИТМ!***

531+19=564 ■

542 ■

	5	3	4		
		1	9		
	5	1	5		

***ВСПОМНИ
АЛГОРИТМ!***

$$534 - 19 = 425$$



$$525$$



Реши примеры:

• $409 - 257 =$

$325 + 634 =$

• $760 - 572 =$

$458 + 367 =$

• $805 - 360 =$

$215 + 360 =$

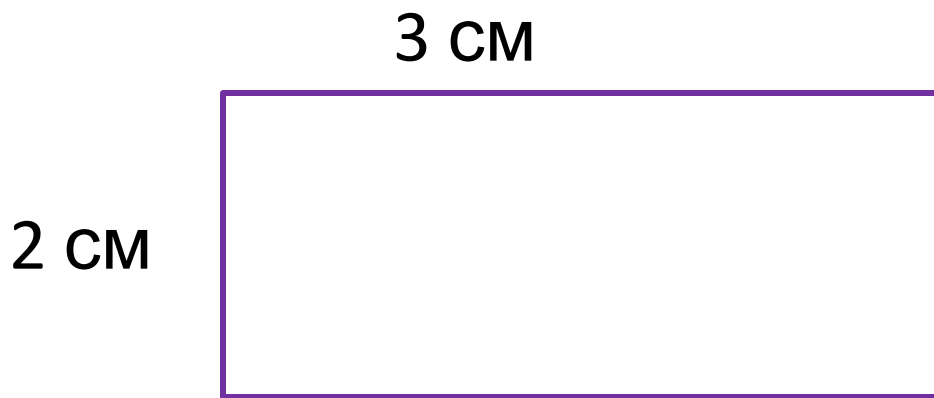
Повтори, как найти периметр фигур



Что такое **периметр**?

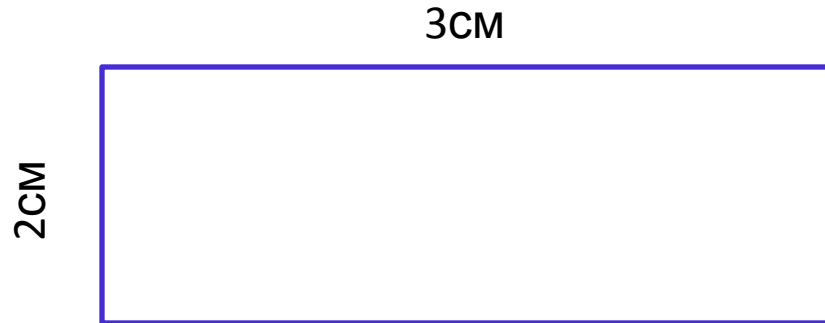
Периметр – это сумма всех длин сторон многоугольника.

Периметр обозначается буквой латинского алфавита – **P** (пэ), измеряется в **мм, см, дм, м, км**.



**Чему равен периметр
прямоугольника?**

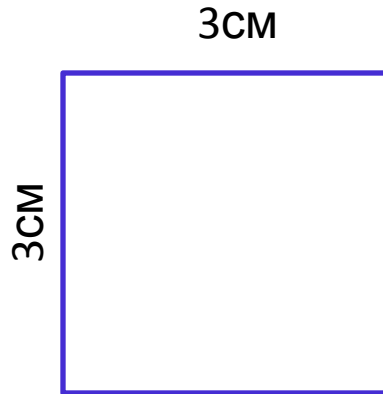
Периметр прямоугольника



$$\begin{aligned} 3\text{cm} + 2\text{cm} + 3\text{cm} + 2\text{cm} &= \\ &= (3\text{cm} + 2\text{cm}) \cdot 2 = 10\text{cm} \end{aligned}$$

$$P = (a + b) \cdot 2$$

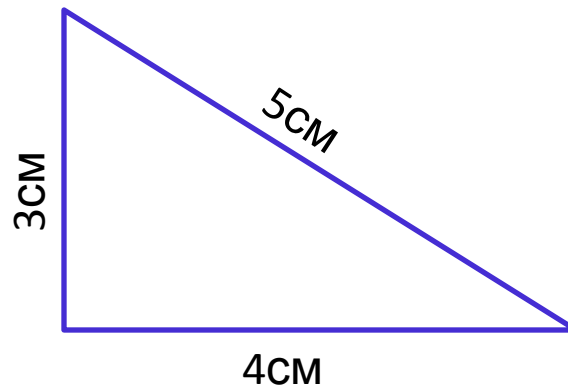
Периметр квадрата



$$\begin{aligned} 3\text{см} + 3\text{см} + 3\text{см} + 3\text{см} &= \\ &= 3\text{см} \cdot 4 = 12\text{см} \end{aligned}$$

$$P = a \cdot 4$$

Периметр треугольника



$$\begin{aligned} 3\text{cm} + 4\text{cm} + 5\text{cm} &= \\ &= 12\text{cm} \end{aligned}$$

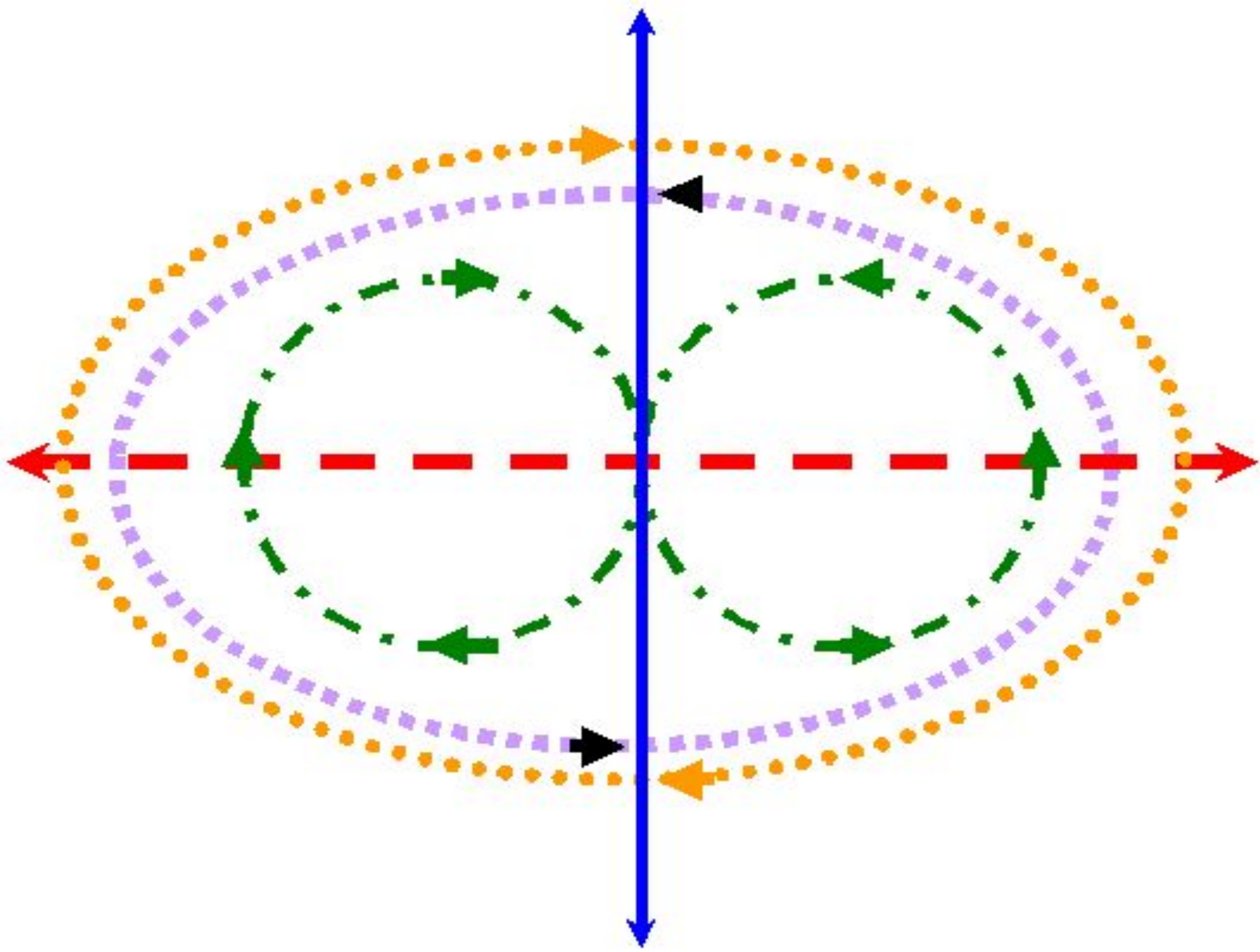
$$P = a + b + c$$

Реши задачи:




1. Длина прямоугольника 6 см, а ширина 3 см. Найди периметр этого прямоугольника.

2. Вычисли периметр квадрата со стороной 8 см.

Физминутк а



4 набора конструктора стоят 40 руб.
Сколько стоят 6 таких наборов?



?



МОЛОДЦ
Ы!



**Домашнее
задание:
учебник
стр. 9 з. 29, пр.32 (1)**

Всегда оставайся удачливым, смелым,

Пусть только попутные веют ветра!

Но главное – чтобы

Ты в жизни ни делал,

Пусть все это будет во имя добра!