


Математика

2 класс





54 21 76 32 65 43

з с а к к а

**«Повелеваю в моём
Сказочном
Математическом
Королевстве ребятам 2 Б
класса выполнить мои
желания!»**



УСТНЫЙ СЧЁТ

Прочитайте примеры,
решите их.

40 (считать) =

95 (решать) =

закреплять =



Запиши

ответы:

1. На сколько надо увеличить **30**, чтобы получить **70** ?
2. Число в котором **4 десятка и 8 единиц**. Уменьши его на **2 десятка**.
3. Уменьшаемое **7 десятков**, вычитаемое **7 единиц**.
Найди разность.
4. Первое слагаемое **23**, второе **3**. Найди сумму.
5. Найди разность чисел **50 и 30**.
6. Увеличь **47** на **3**.
7. Какое число меньше **15** на **7**?
8. Какое число надо увеличить на **5**, чтобы

ИСПЫТАНИЯ



$$68 + 8 = 76$$

$$39 + 6 = 44$$

$$55 + 6 = 62$$

$$33 + 9 = 42$$

$$57 + 7 = 64$$

$$50 - 8 = 62$$

$$87 - 80 = 17$$



$$39 + 6 = 45$$

$$55 + 6 = 61$$




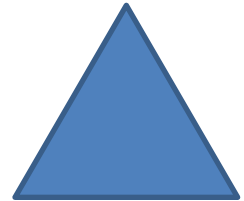






$$50 - 8 = 42$$

$$87 - 80 = 7$$



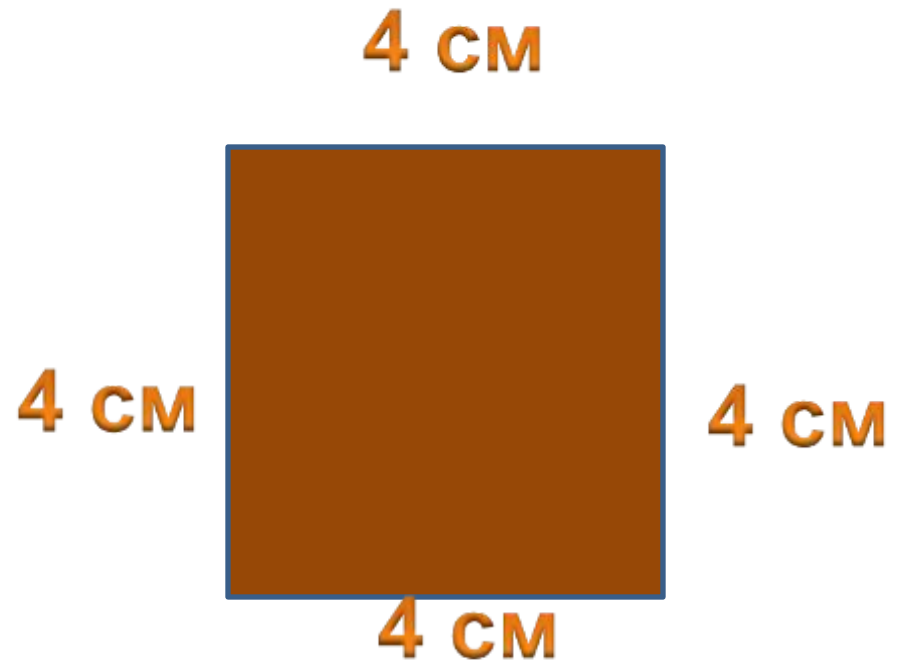
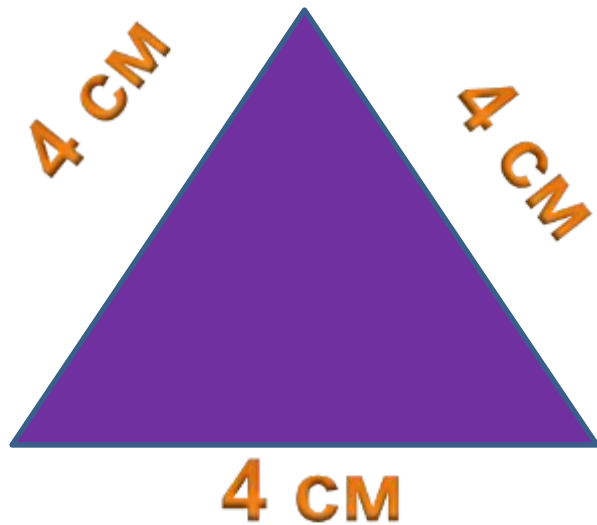






На сколько см периметр треугольника меньше периметра четырёхугольника, если длина стороны каждой фигуры 4 см?

на 4 см



Красной Шапочке нужно пройти до домика бабушки **100 м**. Она уже прошла **70 м**. Сколько метров осталось пройти

Красной Шапочке до домика бабушки?



70 м



?



100 м

$$100 - 70 = 30 \text{ (м)}$$

У Красной Шапочки в корзине **5** пирожков с яблоками и **4** с мясом. А с капустой столько, сколько с яблоками и мясом вместе. Сколько пирожков с капустой в корзине?



$$5 + 4 = 9 \text{ (п.)}$$

После того, как мама вытащила из духовки **10** пирожков, ей осталось вытащить ещё **14**. Сколько пирожков испекла мама?

$$10 + 14 = 24 \text{ (п.)}$$



$$3 \text{ дм } 7 \text{ см} = \text{ см}$$

$$5 \text{ см } 6 \text{ мм} =$$

$$\text{ мм}$$

$$9 \text{ см } 5 \text{ мм} \text{ ___ } 1 \text{ дм}$$

$$5 \text{ м} \text{ ___ } 50 \text{ дм}$$





Молодцы!

