




Математика во 2 классе

"Сложение и вычитание в пределах 100"


Обобщающий урок



**Долгожданый дан звонок-
Начинается урок.
Игры, шутки, всё для вас!
За работу, в добрый час!**




Записать числа в порядке
возрастания 20, 17, 39, 61, 58, 49.



1	20	39	49	58	61
7					
Д	Р	У	Ж	Б	А



Реши устно



$87-20 =$

67

$42+7 =$

49

$44-40=$

4

$43+30$

=

73

$79-8=$

71

$50+2$

52

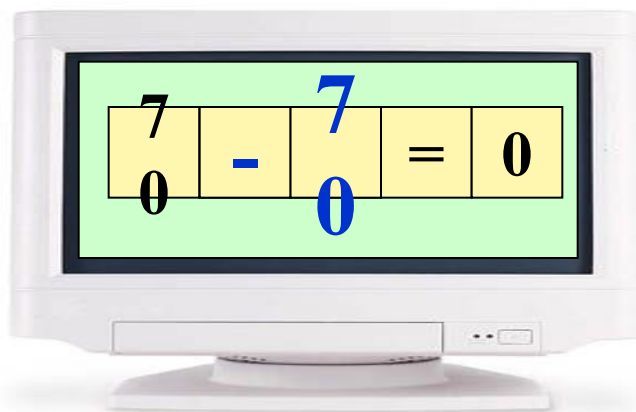
$97+3=$

10

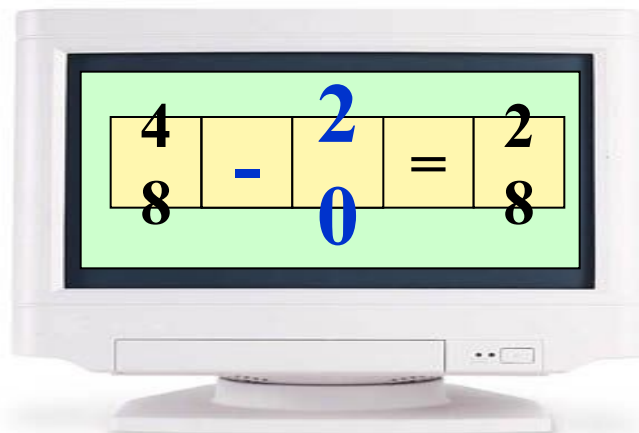
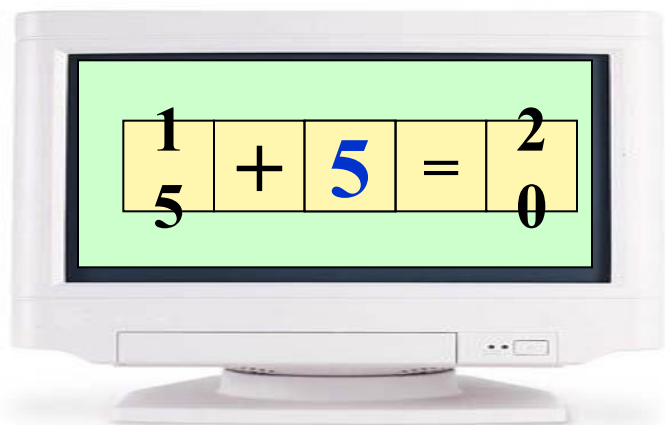
0



Вставь



знаку



Реши примеры



$49 - 28$

2

1

$54 + 37$

9

1

$78 - 26$

5

2

$34 + 25$

5

9

$48 - 23$

2

5

$81 + 15$

9

6





Реши задачи



IM-20-25

7
10
15
13




Было пятнадцать цветков,
сорвали — десять.
Сколько цветков осталось?

5

IM-20-6

11
5
17
15
10



Всего шестнадцать шариков.
Синих — шесть.
Остальные — жёлтые.
Сколько жёлтых шариков?

10

IM-20-20

8
10
16
11
15



Было восемнадцать яблок.
Восемь — съели.
Сколько яблок осталось?

10

IM-20-5

12
4
10
16
18



На одной полке — шесть книг,
на другой — десять.
Сколько всего книг?

16

IM-20-2

18
2
15
7
16



На одной полке — восемь кувшинов,
на другой — десять.
Сколько кувшинов на двух полках?

18

IM-20-11

20
11
6
1
15

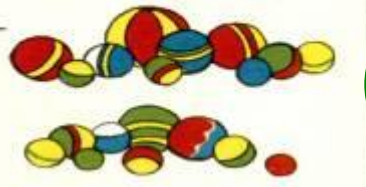


Купили шесть груш и пять помидоров.
Сколько человек могут получить по одному овощу или фрукту?

11


IM-20-19

1
10
5
19
12



На одной полке — десять мячей,
на другой — девять.
Сколько всего мячей?

19



Отгадай ребусы

3 ТОН

тритон

100 ЛБ

столб

ЯЯЯЯЯЯ

семья

40 А

сорока



Выполни задания в тетради на печатной основе

1. Страница 50 №3 реши примеры.
2. Страница 51 №5, №6 реши задачи.

