

УРОК МАТЕМАТИКИ ВО 2 КЛАССЕ

СЛОЖЕНИЕ И ВЫЧИТАНИЕ ДВУЗНАЧНЫХ ЧИСЕЛ В ПРЕДЕЛАХ 100

учитель начальных классов МБОУ СОШ № 6

ст. Старотитаровской

Федченко Валентина Николаевна

Цели урока:

- закрепить навыки сложения и вычитания двузначных чисел без перехода через десяток в пределах 100;
- развивать умение решать задачи изученных видов;
- развивать навыки логического мышления;
- развивать творческие способности учащихся;
- пробуждать интерес к предмету через дидактическую игру, логические задания.



О чем –то скрипит половица,
И спице опять не спится,
Присев на кровати, подушки
Уже наостридли ушки.
И сразу меняются лица,
Меняются звуки и краски...
Тихонько скрипит половица.
И в комнату входит сказка....



В некотором Царстве, в тридевятом государстве,
жили-были Иван Царевич и Василиса
Прекрасная. Жили они вместе вот сколько лет...
(решение примеров по вариантам)

1 вариант

$$40+50-70=$$
 

2 вариант

$$30+30-40=$$
 



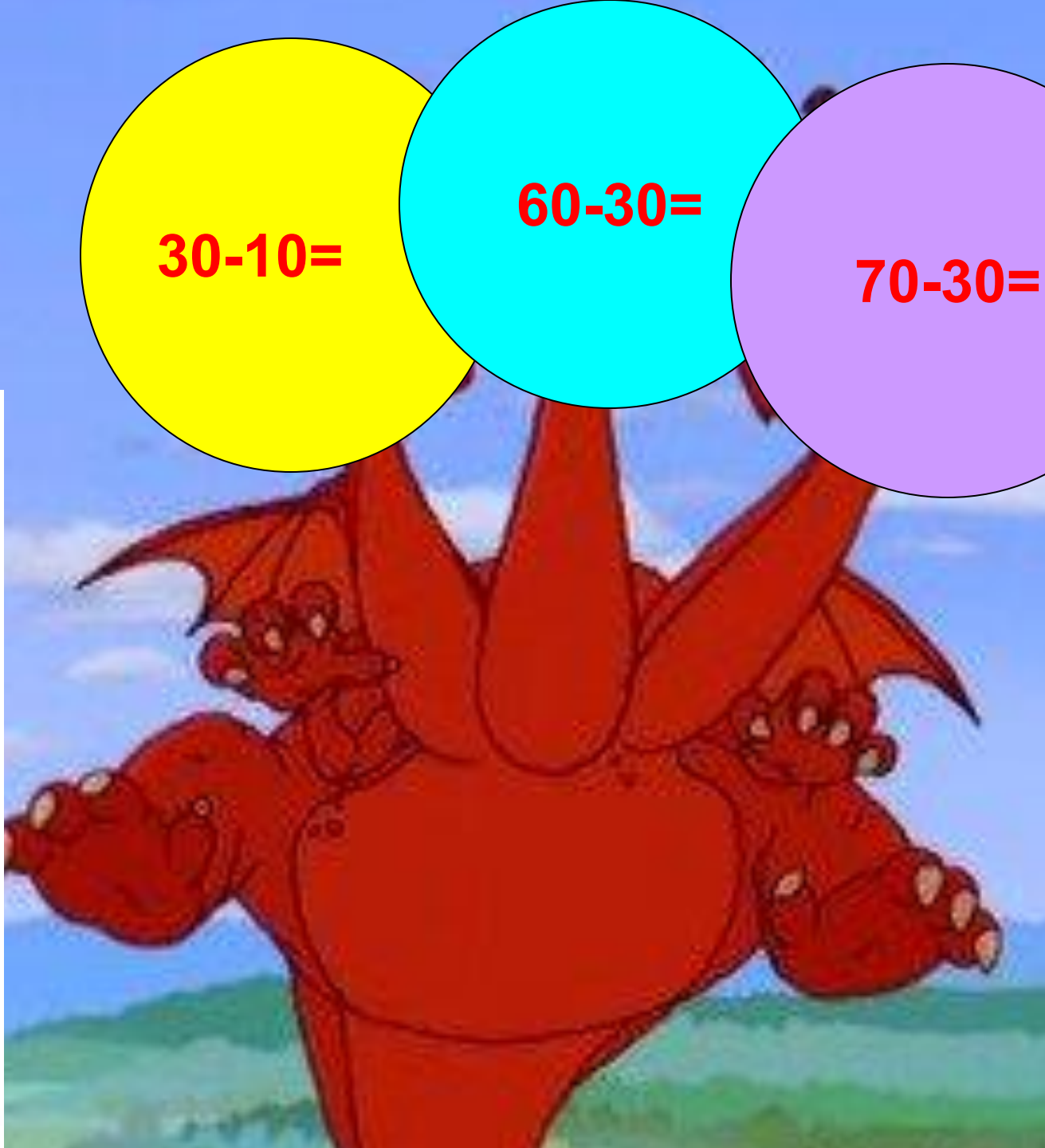


$30-10=$

$30-10=$

$60-30=$

$70-30=$



$$12 - 5 = 7$$



$$8+8$$

$$9+6$$

$$7+5$$

Верная дорога та,
где ответ не самый
большой
и не самый
маленький...





Физминутка

К сказке в гости мы пришли, (шагаем на месте)

Сундучок с замком нашли. (руки разводим в стороны)

Справа заглянули, (наклон вправо)

Слева заглянули, (наклон влево)

И присели, и привстали, (сели, встали)

И зайчонком поскакали. (прыжки на месте)

Ручки наши разомнем, («замочек» раскрываем)

И замочки отопрем! («замочек» раскрываем)





Исправьте ошибки и запишите
меры длины в порядке
возрастания

Длина дороги –

50
см

Длина сундука –

20 м

Длина меча -

10
дм

50
см

10
дм

20
м

?




Прочитайте выражения, запишите и верно посчитайте

$$(90-70)+5 =$$

$$(40+50)+9 =$$

$$8+(30+40) =$$

$$8+(80-50) =$$





**«Раз ты смог до меня
добраться, выполни
мои задания и.... -
Василиса твоя! Если
не выполнишь –
голова с плеч!!!»**



Задание первое

В моем саду растет волшебная яблоня с золотыми и серебряными яблоками. Золотых яблок было 10, а серебряных – 5. Семь яблок я сорвал. Сколько же яблок осталось?


$$(10+5)-7 = 8$$

$$(10-7)+5 = 8$$



А теперь второе задание.

У меня **4** башни. Первая башня пустая.
Василиса не в самой высокой, и не в самой
широкой башне. Где она?



Конец! Спасибо за урок!



Интернет - ресурсы

- http://www.google.ru/imgres?imgurl=http://www.onmultiki.ru/_bd/7/701.jpg&imgrefur
- http://www.google.ru/imgres?imgurl=http://s1.afisha.net/Afisha7Files/UGPhotos/080924141507/090312212335/p_f.jpg&imgrefurl=http://www.afisha.ru/movie/178325/&h=448&w=560&sz=55&tbnid=EIJPYFt2WB9diM:&tbnh=106&tbnw=133&prev
- <http://www.zaycev.net/pages/8978/897836.shtml>
- <http://www.audiopoisk.com/track/detskie-pesni/mp3/vol6ebnii-cvetok/>
- http://sovetskiymultik.at.ua/photo/multiki_na_bukvu_v/vasilisa_prekrasnaja/160