

*Задания для фронтальной работы по  
математике*

*2 класс*

**Сложение и вычитание чисел в пределах  
100. Буквенные выражения.**

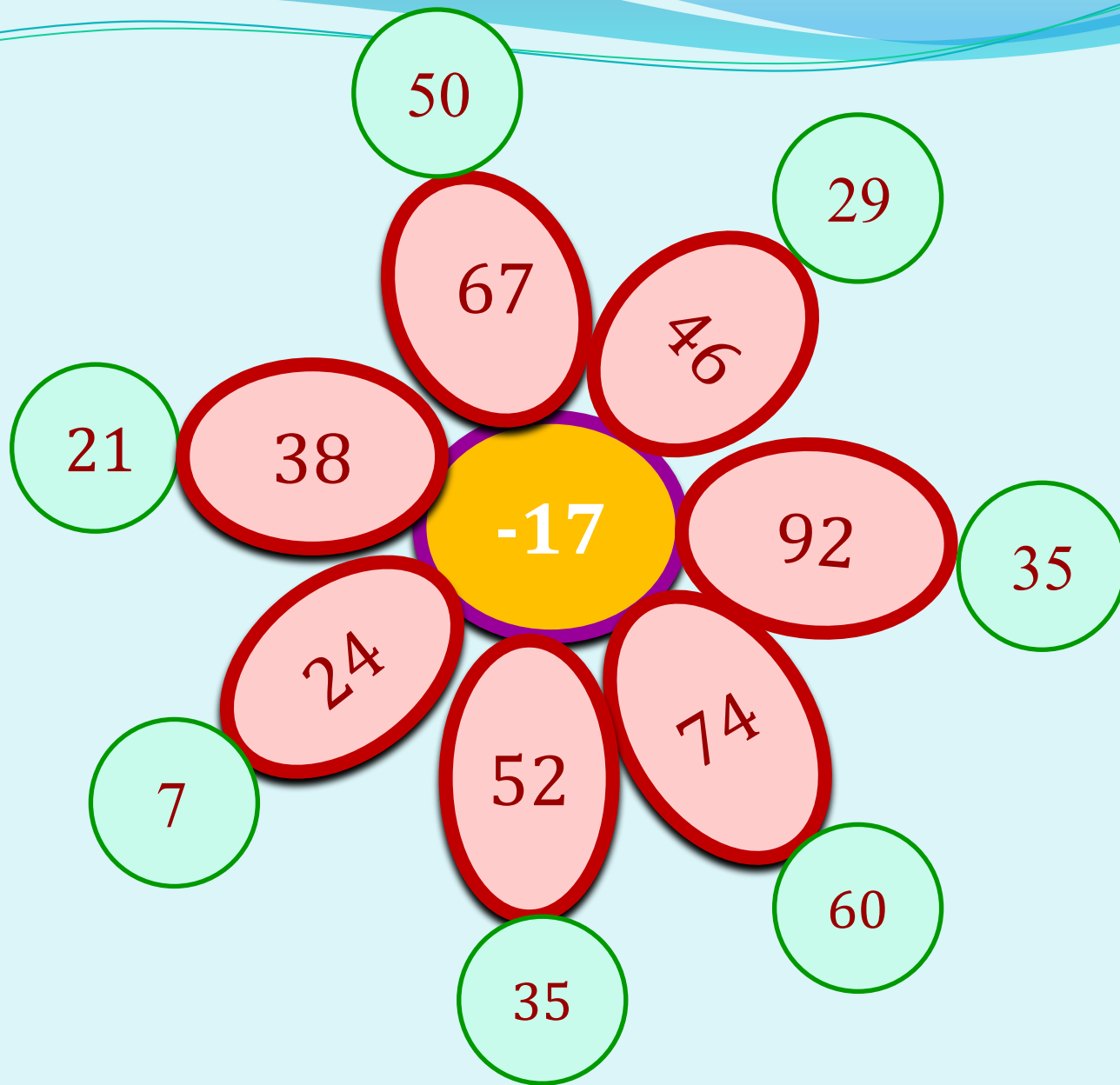


*Работу выполнила учитель начальных классов ГБОУ СОШ №484*

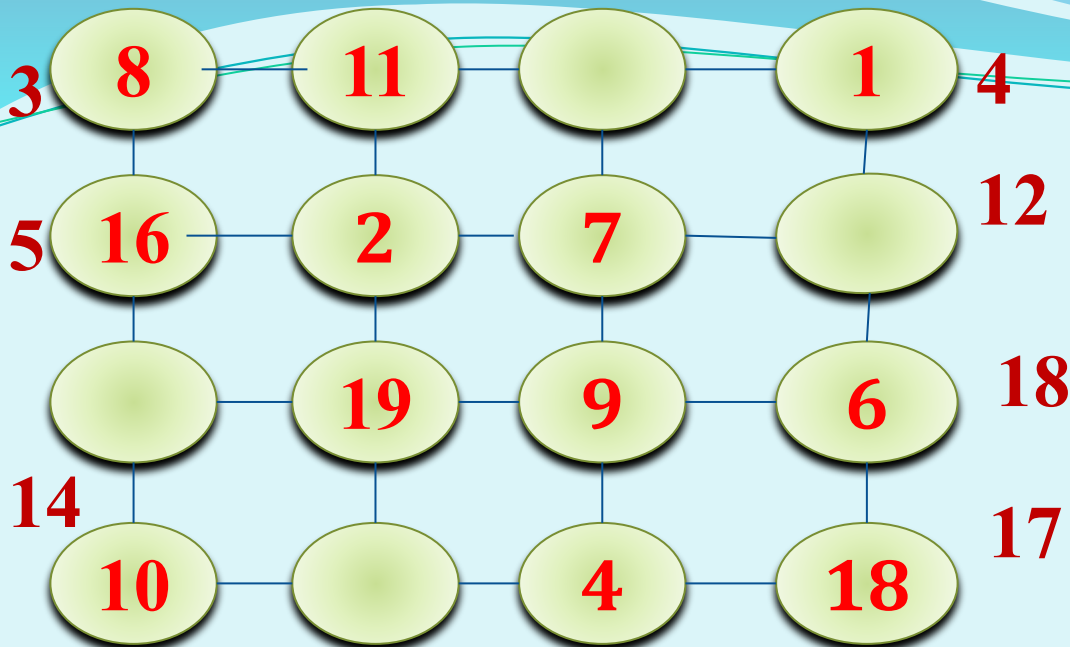
*Г. Санкт-  
Петербург*



И  
г  
р  
а



М  
о  
л  
ч  
а  
н  
к  
а













2. Сумма чисел в прямоугольнике по вертикали и диагонали 37.

1. Найдите сумму чисел по диагонали в квадрате и заполните пустые клеточки.

5	2	<input type="text"/>	6
4	<input type="text"/>	5	<input type="text"/>
7	4	<input type="text"/>	8

9  
 5  
 1

3	<input type="text"/>	9	2
5	<input type="text"/>	<input type="text"/>	7
8	<input type="text"/>	1	6

<b>уменьшаемое</b>	<b>44</b>	<b>96</b>		<b>72</b>		<b>75</b>	<b>93</b>	
<b>вычитаемое</b>	<b>16</b>		<b>6</b>	<b>56</b>	<b>12</b>	<b>24</b>	<b>45</b>	<b>38</b>
<b>разность</b>		 <b>18</b>	 <b>42</b>		<b>36</b>			<b>27</b>

1	Сумма двух чисел 39. Первое слагаемое 20. Чему равно второе слагаемое?	59	19	29
2	Запишите число, которое больше 46 на 5.	51	41	14
3	Какое число меньше 80 на 7?	73	72	87
4	Увеличьте 29 на 7.	35	36	22
5	На сколько 94 меньше 89?	6	5	15
6	Папе 40 лет. Он старше сына на 23 года. Сколько лет сыну?	19	63	17
7	Уменьшаемое 25, разность 16. Чему равно вычитаемое?	9	41	31
8	Аня отдала бабушке 15 конфет, а 8 конфет съела. Сколько конфет было у Ани?	7	23	22

## Восстановите цепочки

