
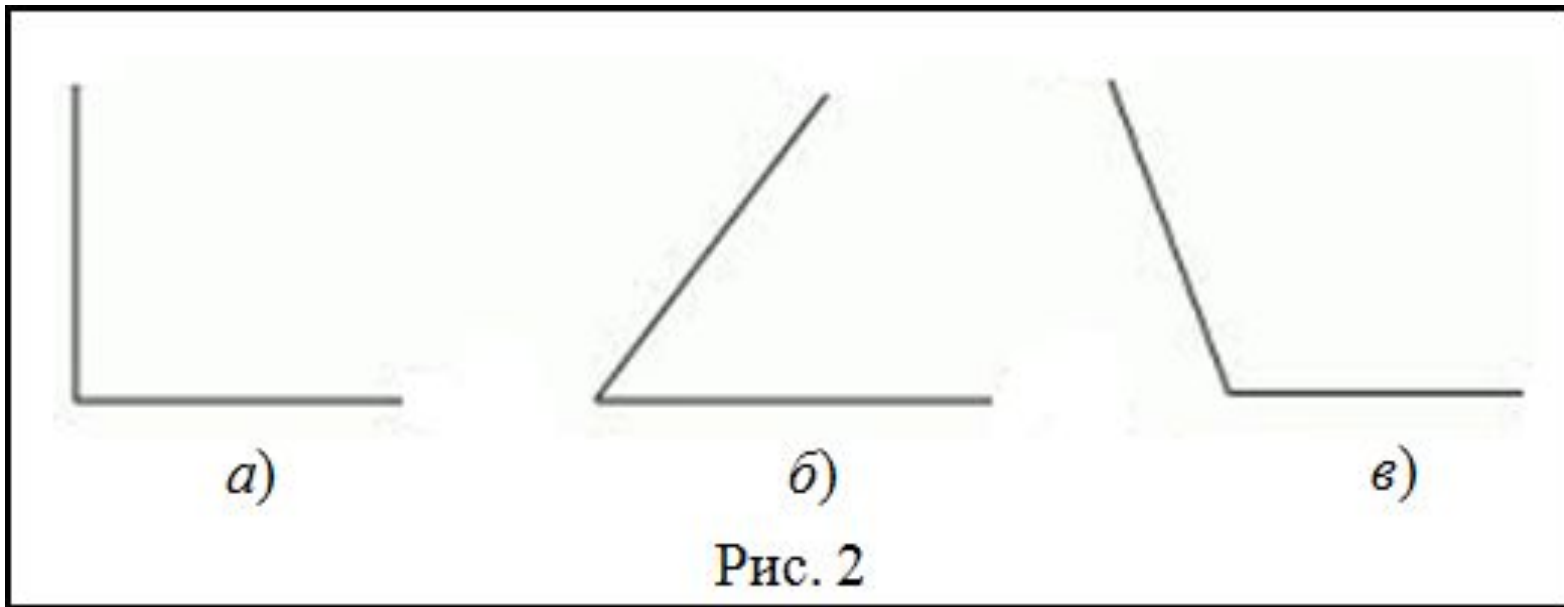


Тема урока: «Письменный
прием сложения вида
 $37+48$ ».



Дай название каждому
углу:



Вычисли

$17 + 8 =$

$28 + 6 =$

$39 + 4 =$



$63 + 8 =$

$68 + 7 + 7 =$

$52 - 5 - 6 =$

$43 + 5 + 8 =$

$98 - 3 - 9 =$



$$24 + 35 = 59$$

$$62 + 16 = 78$$

$$68 - 23 = 45$$

$$57 - 32 = 25$$

$$37 + 48 = ?$$



1. Пишу...

2. Складываю единицы:

$$7+5=15$$

15-это 1д. и 5ед.

Пишу под единицами 5, **1**
запоминаю и прибавляю к
десяткам.

3. Складываю десятки:

$$3+4+1=8$$

Пишу под десятками.

4. Читаю ответ.

	1		
	3	7	
+	4	8	
	<hr/>		
	8	5	



Молодец!


		1	
	+	3	8
		4	7
		<hr/>	
		8	5



	1		
	5	4	
+	3	8	
	<hr/>		
	9	2	



	1		
	4	6	
+	2	7	
	<hr/>		
	7	3	




	1		
	2	9	
+	4	5	
	<hr/>		
	7	4	



	1		
	3	7	
+	5	6	
	<hr/>		
	9	3	



В саду расцвело 25 роз. На один букет срезали 9 роз, а на другой 7. Сколько роз осталось в саду?



25 роз





Спасибо за работу!

