


Оля Таня Катя Оля



Это Таня и Оля.



Это Оля и Катя.

12 < 20

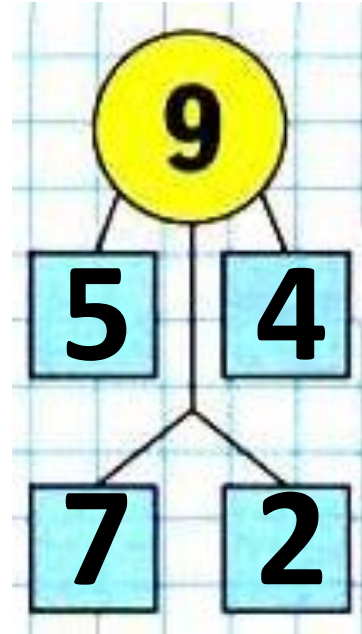
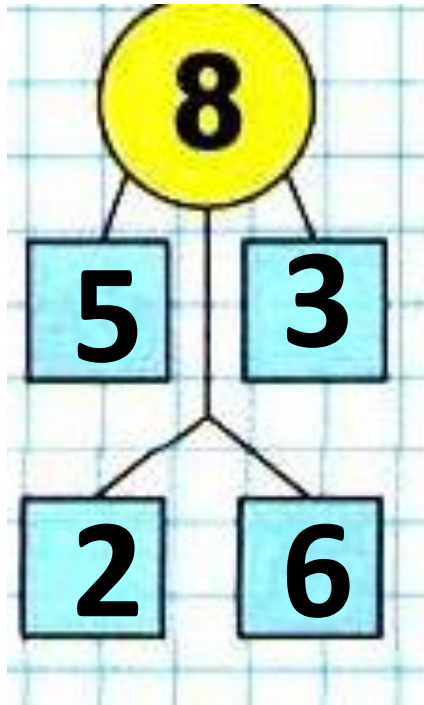
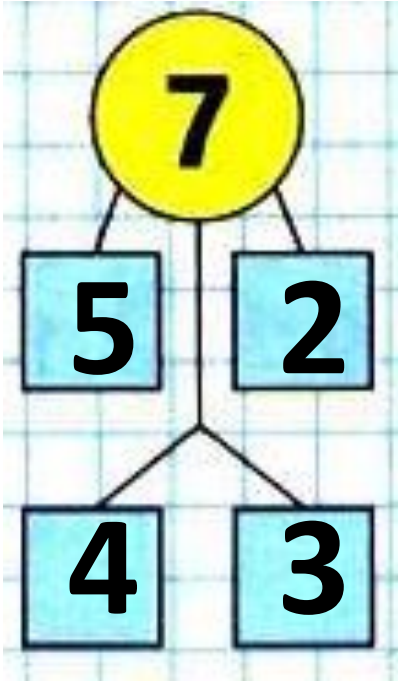
10 > 9

1 дм > 9 см

12 см > 1 дм

7 > 4

0 < 1



$$9 + 2 = 11$$

$$9 + 1 + 1$$

$$9 + 3 = 12$$

$$9 + 1 + \boxed{2}$$

$$8 + 3 = 11$$

$$8 + 2 + \boxed{1}$$

Запомни!

$$9 + 2 = 11$$

$$9 + 3 = 12$$

$$8 + 3 = 11$$

No1

$$8 - 5 - 2$$

$$10 - 7 - 2$$

$$10 - 8 - 2$$

$$0 + 9 - 8$$

$$8 + 2 - 4$$

$$6 + 0 - 5$$

$$8 - 6 + 10$$

$$7 - 5 + 10$$

$$9 - 7 + 10$$

1 1

12

1 6

12

0 1

12

Зина купила 6 тетрадей в клетку, а тетрадей в линейку на 2 меньше. Сколько всего тетрадей купила Зина?

К. – 6 т. }
Л. - ?, на 2т. меньше } ?

1) $6 - 2 = 4$ (т.) в линейку.

2) $6 + 4 = 10$ (т.)

Ответ: 10 тетрадей купила Зина.

Задача 3

В большом ведре помещается 10 л воды, а в маленьком — 4 л. Сколько всего ... ?

$$10+4=14(\text{л})$$

Ответ: 14 л воды всего в 2 вёдрах.

Задача 4

Мама собрала 16 кг яблок. Из 6 кг яблок она сварила варенье. Сколько ... ?

$$16 - 6 = 10 \text{ (кг)}$$

Ответ: 10 кг яблок осталось.