



Соревнование

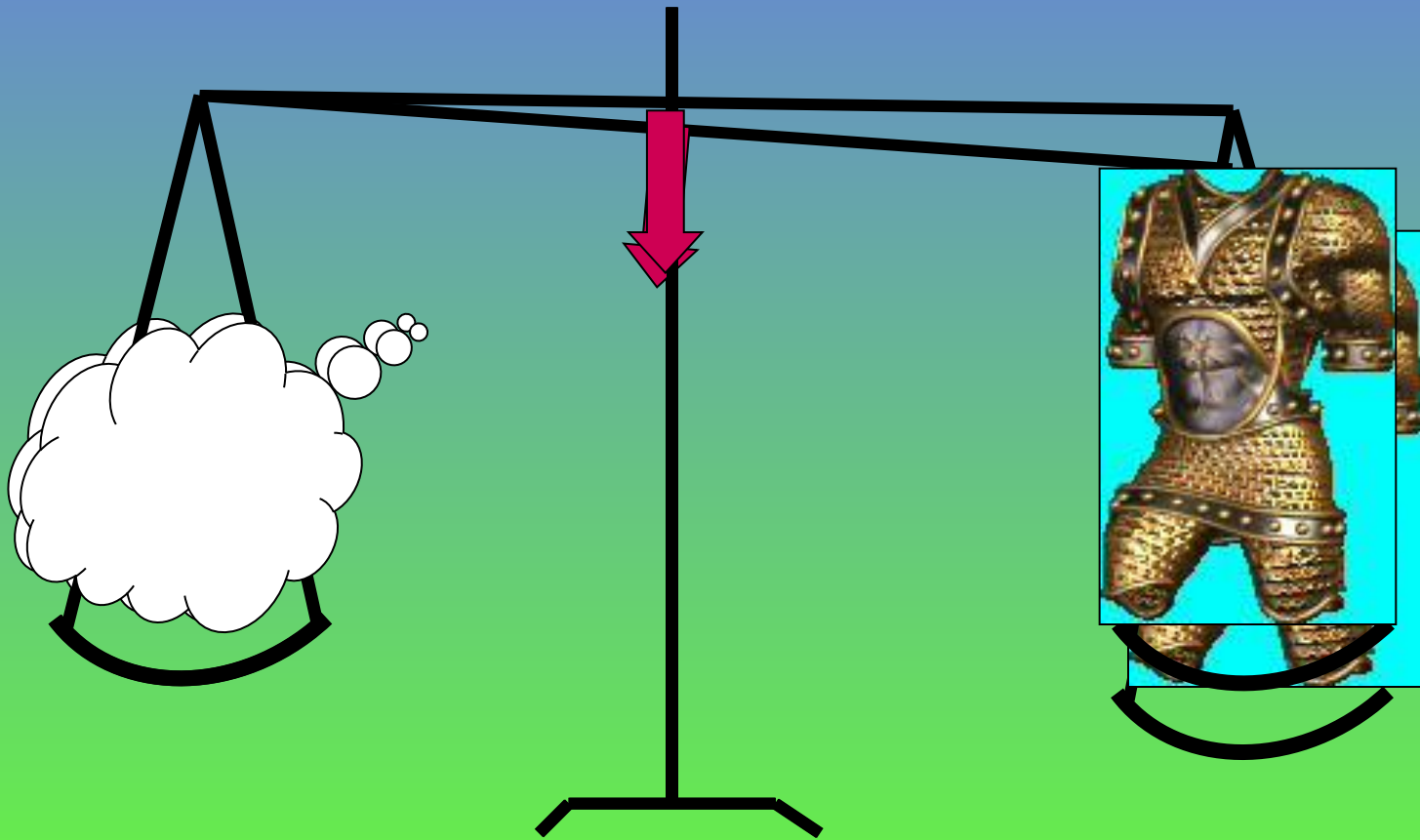
МАТЧ

1 конкурс.

**Первый тур мы начинаем,
Победителей узнаем.
Здесь загадки и шарады.
За разгадку - всем награды!**

1. Шла старушка в Москву и навстречу ей три старика. Сколько человек шло в Москву?

2. Что легче: тонна железа или тонна ваты?



3. Из Петербурга в Москву поезд
шел **1 час 20 минут**. А из Москвы
в Петербург – 80 минут.

Что случилось?



=



4. Сколько горошин может войти в пустой стакан?



5. Двое играли в шахматы 4 часа.
Сколько играл каждый?



6. Арбуз стоит 20 рублей и еще пол- арбуза. Сколько стоит арбуз?



Цена

40 руб.

2 конкурс.

Тур второй мы начинаем




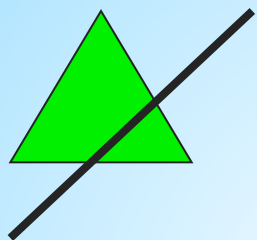
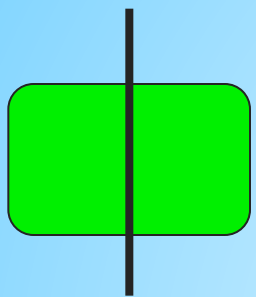
Отгадайте-ка, друзья

Какой фигуры не хватает?

Что не нарисовала я?


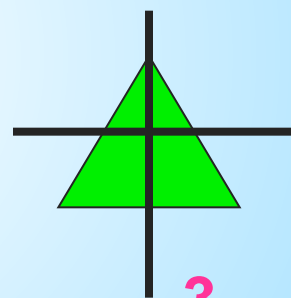
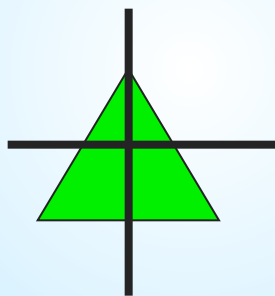


ПЛЯДДИ В Ооба.

Какой фигуры не хватает?







1

2



3

4



5

6

3 конкурс.

Третий тур наш эстафета
Мешкать тут никак нельзя
Быстро посчитать примеры
Нужно вам, мои друзья.

На доске для каждой команды написаны примеры. Каждый следующий участник, начиная со второго, записывает ответ предыдущего участника в и продолжает вычисления.

$$3 \cdot 2 = 6$$

$$\boxed{6} + 4 = 10$$

$$\boxed{10} : 5 = 2$$

$$\boxed{2}^3 = 8$$

$$4 \cdot 16 =$$

$$\square + 11 =$$

$$\square : 15 =$$

$$12 \cdot \square =$$

$$\square : 20 =$$

$$\square^3 =$$

$$\square - 22 =$$

$$4 \cdot 14 =$$

$$\square + 40 =$$

$$\square : 48 =$$

$$35 \cdot \square =$$

$$\square - 65 =$$

$$\square^2 =$$

$$30 - \square =$$

4 конкурс.

Конкурс капитанов.

Тур четвертый – капитанов
Их к доске мы приглашаем,
Будет трудная задача
Пожелаем им удачи !



а) Считалочка.

~~Э~~

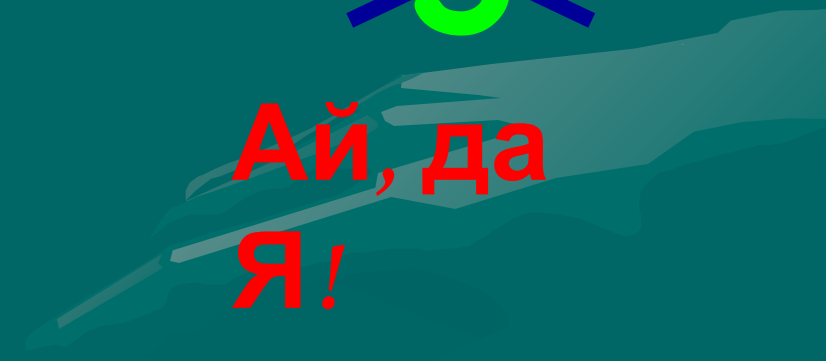
Ай, да
Я!

~~Э~~

Ай, да
Я!

~~Э~~

Ай, да
Я!



б) Стих *И*творение.



куб – дуб

пять – опять

ряд – отряд

ноль – мозоль

учить - любить



Игра с болельщиками





ЗАЯЦ ДАЧА



КОса Р пЕНЬ

1,3,6

””””



100 см




ГнЕздО МЕТР молНИЯ

5 конкурс.

«Зверюшечный».



a) Сколько лет льву?



б) Каждой руке своё дело!

Одновременно нарисуйте
правой рукой круг, а левой – треугольник.



6 конкурс.

Тур шестой – головоломка

Здесь кроссворд из слов знакомых

Отгадай их и впиши
Слово тайное найди

ГОЛОВОЛОМКА



Кроссворд

3
4
3. Прямой квадратный брус является

1	С	К	О	Р	О	С	Т	Ь		
2	Е	Д	И	Н	И	Ц	А			
3	К	И	Л	О	Г	Р	А	М	М	
4	У	Р	А	В	Н	Е	Н	И	Е	
5	Н	О	Л	Ь						
6	Д	Р	О	Б	Ь					
7	А	Р	И	Ф	М	Е	Т	И	К	А



Подведение итогов



Игра «Угадай КА»



Какие пословицы здесь зашифрованы?

