



Математика.

1 класс

«Состав чисел в пределах 10.
Закрепление.»

Учитель начальных классов:

Власова С.А.



1

2

3

4

5

6

7

8

9

10







Планета Числовая

5 7 9 2

1 4 3 6

8 10





Планета Задач

Выбери схему к

задаче

стр.17 №2

Схема №1.

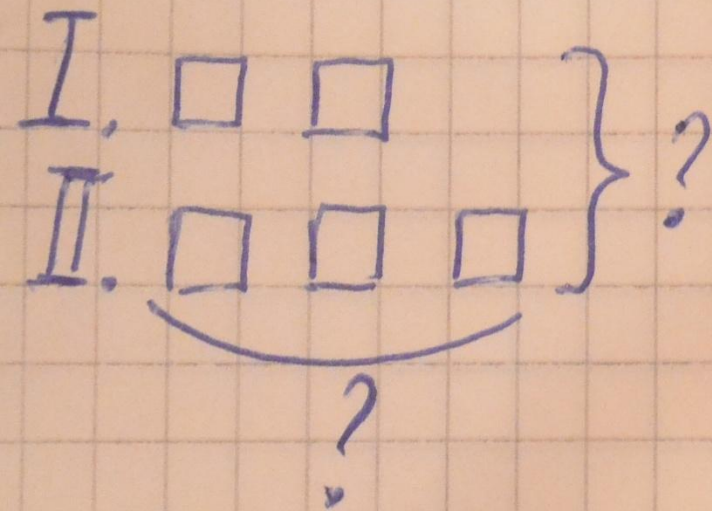
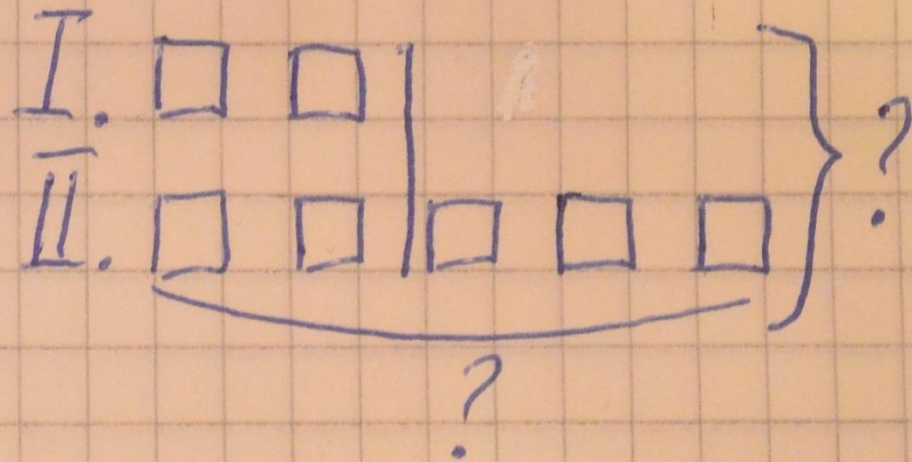



Схема №2



Проверь себя



1) $2 + 3 = 5$ (г.) во II семье


2) $2 + 5 = 7$ (г.) всего

Ответ: 7 детей

Планета Самоучек

стр.17 №4

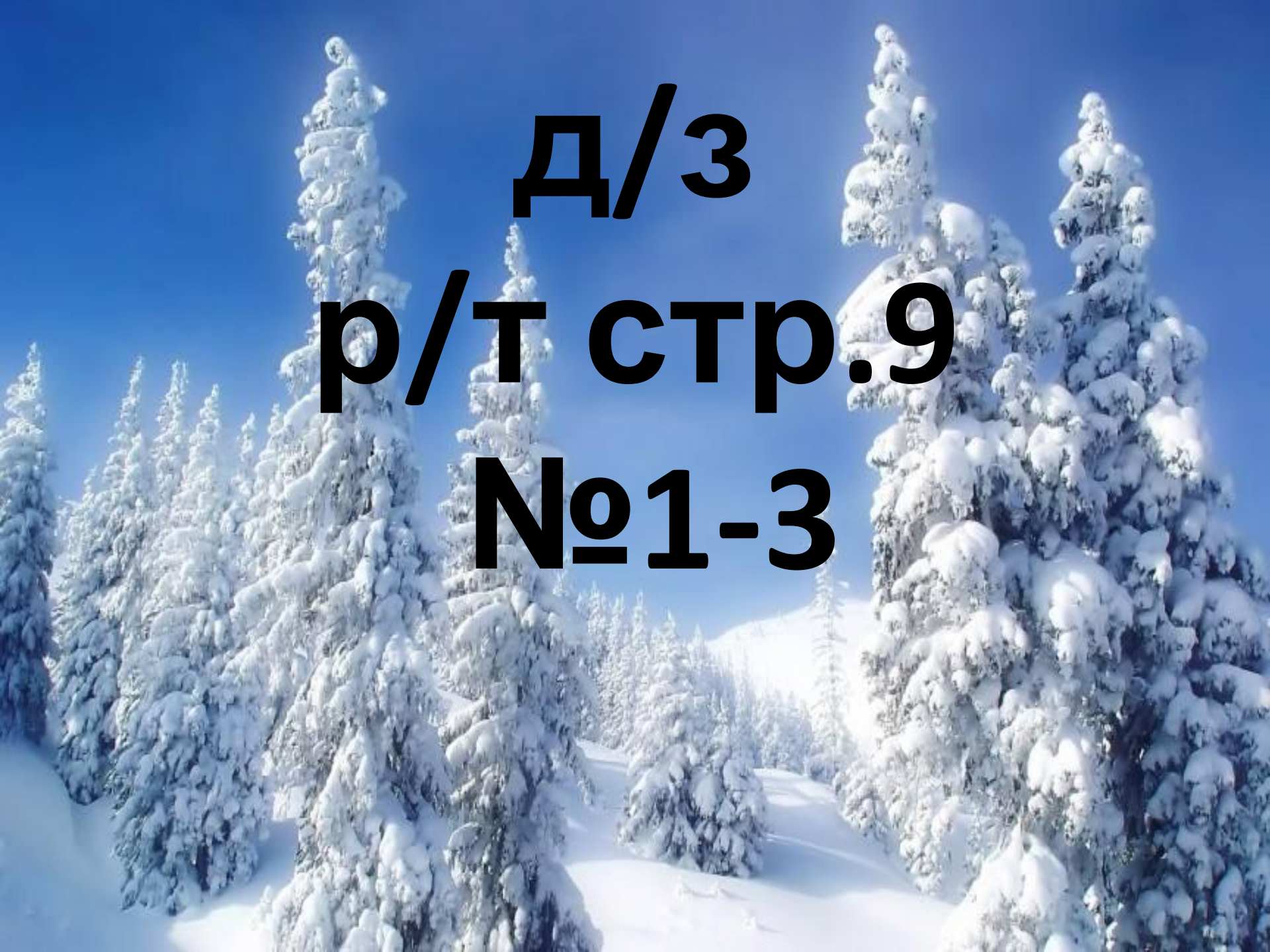




**Примени полученные в
полете знания, заполняя
бортовой журнал
космической ракеты.
р/т стр.9 №4**

**Возвращаемся на
Землю!**



A photograph of a winter landscape featuring several tall, snow-laden evergreen trees. The trees are heavily covered in white snow, and the ground is also blanketed in a thick layer of snow. The sky is a clear, bright blue. The text is overlaid on the center of the image.

д/з

р/т стр.9

№1-3