

Тема «Состав числа 5. Переместительное свойство сложения»

Подготовила и провела
Лесняк
Светлана Владимировна
Учитель начальных классов
НОУ «Школа – интернат №23 ОАО «РЖД»

MAMA

$$2+2=4$$



1

3



3

1




2

2



Засели вагончики



1

2

3

4

3


4

2

1



Засели вагончики



3

2

4

1

2


3

1

4



**От перемены мест
слагаемых
значение суммы
не меняется**



$$3+1 = 1+3$$

Запиши равенства, которые соответствуют рисунку

Рисунок 1

$$4+1=5$$

$$1+4=5$$



Рисунок 2

$$1+2=3$$

$$2+1=3$$



$$3+1=4$$

$$1+3=4$$

Рисунок 3









