


Составная задача

**Математика
1 класс**


**Учитель начальных классов Сазнова Т. Е.
МОУ СОШ №222 г. Заречный Пензенская обл.**

Задача


В магазине на полке было 6 кукол, а машин на 3 больше. Сколько машин было в магазине?



Сколько машин



на полках?









?, на 3 больше

Куклы - 6 шт.

Машины - ?м., на 3 м. >

$$6 + 3 = 9 \text{ (м.)}$$



Какой ещё вопрос можно задать к ЭТОЙ задаче?

Задача

**В магазине на полке
было 6 кукол, а машин
на 3 больше. Сколько**

игрушек было в магазине?

Куклы - 6 шт.

Машины - ?м., на 3 м. >

? шт.



1) $6 + 3 = 9$ (шт.) - машин.

2) $9 + 6 = 15$ (шт.)

Ответ: всего 15 игрушек.

Молодцы!