
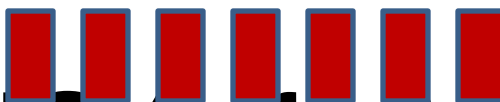


# Задача

На верхней полке 7 книг, а на нижней — на 4 книги меньше. Сколько книг на этих двух полках?

В. - 7 к. 

Н. - ?, на 4 к. меньше 

1)  $7 - 4 = 3$ (к.) на нижней полке

2)  $7 + 3 = 10$ (к)

Ответ: 10 книг на двух полках.

## Задача 2

В одном ящике 8 кг яблок, а в другом — на 2 кг больше. Сколько всего килограммов яблок в этих ящиках?

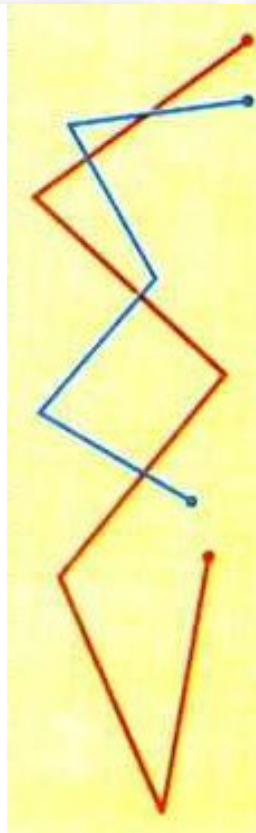
II - ?, на 2 кг больше

- 1)  $8+2=10$ (кг) во II ящ.
- 2)  $8+10=18$ (кг)

Ответ: 18кг яблок в 2 ящиках.

## №7

- 1) На сколько больше звеньев в красной ломаной, чем в синей?
- 2) Найди сумму длин всех звеньев каждой ломаной. Какая сумма больше?



## №3

- 1) Найди сумму чисел: 6 и 10, 10 и 9.
- 2) Найди разность чисел: 17 и 7, 18 и 10.

$$6+10=16$$

$$17-7=10$$

$$10+9=19$$

$$18-10=8$$

## №4

$$8 + 2 + 7$$

$$12 - 2 - 7$$

$$9 + 1 + 6$$

$$19 - 9 - 8$$

$$6 + 4 + 9$$

$$16 - 6 - 7$$