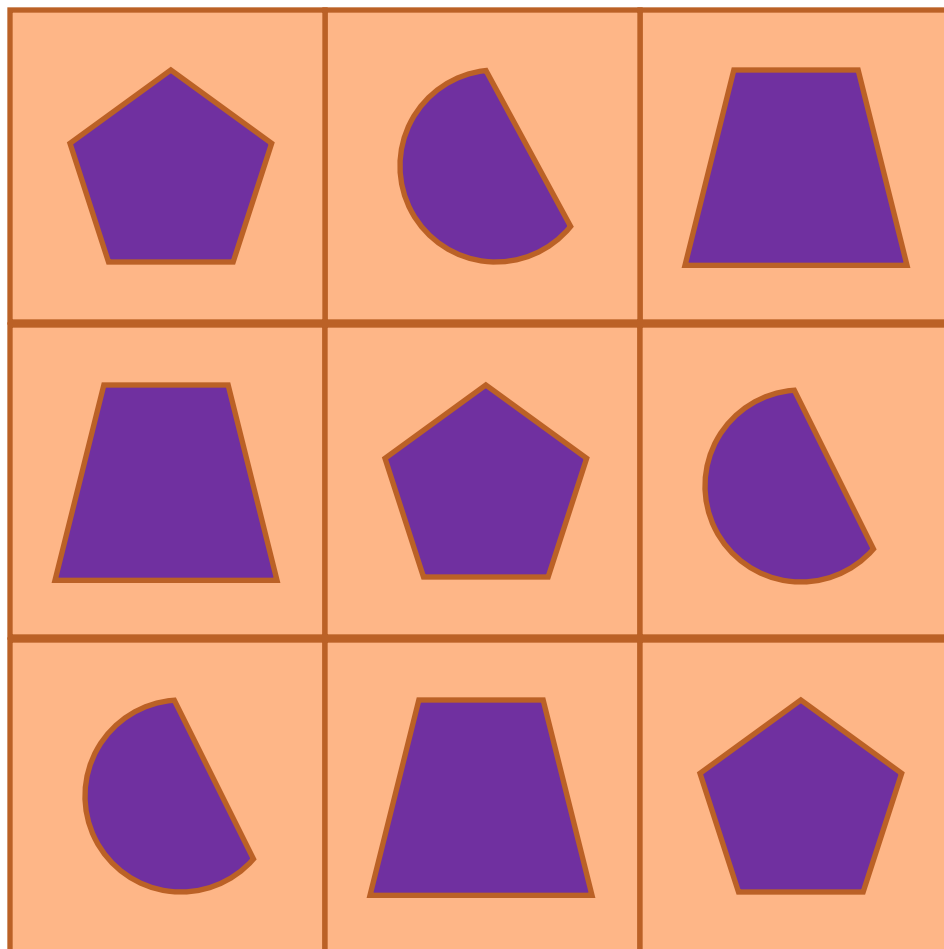




Какой фигуры не хватает?





■ 111 112120

■ 456 457464

■ 610 611619


■ 873 874890

■ 310 320390


■ 201 202209


545  **554**

470  **740**

202  **220**

820  **802**

380  **280**

940  **490**

Расположи числа в порядке возрастания:

853

210

358

609

725

906

201

440

N 377

- Уменьшай число 579 на 1, на 2, на 3, на 6.

578 577 576 573

№ 373

- Уменьшай число 693 на
1 дес, на 2 дес, на 3 дес, на
4 дес.

683 673 663 653

учебник стр.118

N 374

■ **724 537 126 731 928 122 936 632**

■ **737 888 333 212 445 999 111 882**



N 375

- **700 701 702 703 704 705 706
707 708 709**

N 376

$$937 = \dots + \dots + \dots$$

$$814 = \dots + \dots + \dots$$

$$598 = \dots + \dots + \dots$$

$$902 = 900 + 2$$

$$310 = 300 + 10$$


$$424 = 400 + 20 + 4$$

Задача


- Стоит клён. На клёне 2 ветки. На каждой ветке растёт по 2 вишни. Сколько всего вишен растёт на клёне?

- На первой яблоне росло 24 яблока, а на второй- на 5 яблок меньше, чем на первой. Сколько всего яблок росло на двух яблонях?


**Если было интересно, легко на уроке,
во всем разобрались**



**Если иногда были трудности, сомнения,
не совсем понравилась работа**



**Если не разобрались в теме,
было не очень интересно**



Молодцы!