


# Сравнение чисел и выражений



Учитель: Кожевникова О.С.




В математике вместо слова «больше» между числами ставят знак « $>$ », а вместо слова «меньше» – знак « $<$ ».



*Неравенство*

Уголок знака всегда указывает на меньшее число.





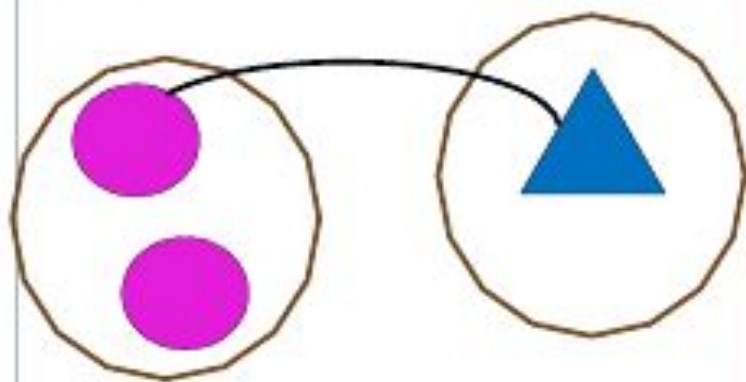
- o* – Чего больше на рисунках квадратов или кругов?
- o* – Как вы будете сравнивать? (При счете 4 встречается раньше 6, поэтому  $4 < 6$ )
  
- o* – Как еще можно сравнить? (Составляя пары, 2 круга остались без пары, значит их больше)
- o* – На сколько больше кружков, чем квадратиков? (Без пары остались 2 круга, значит их больше на 2, )

## Урок 15. Равенства и неравенства

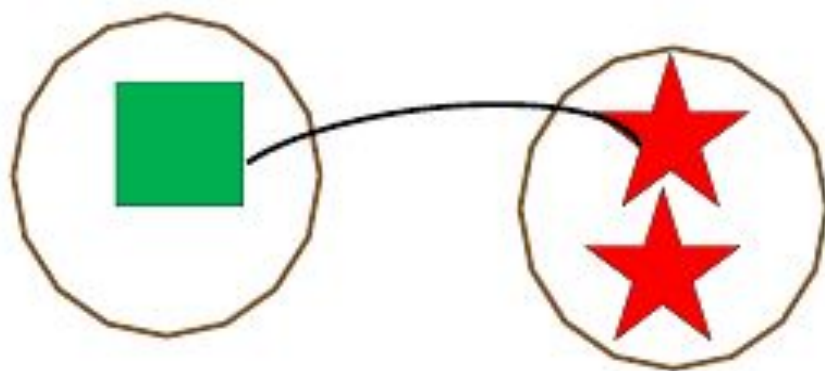
МАТЕМАТИКА

**ПРОВЕРЬ!**

3. Вова составил неравенства к рисункам. Верные ли они?



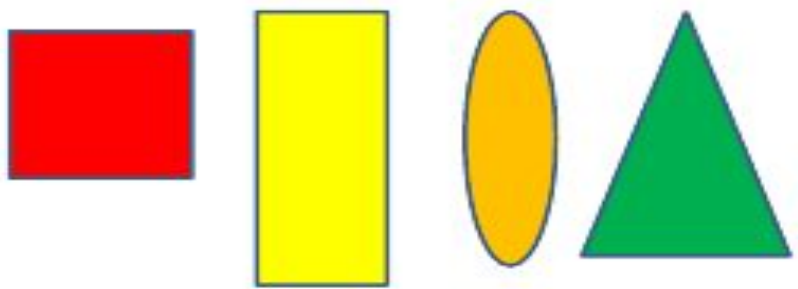
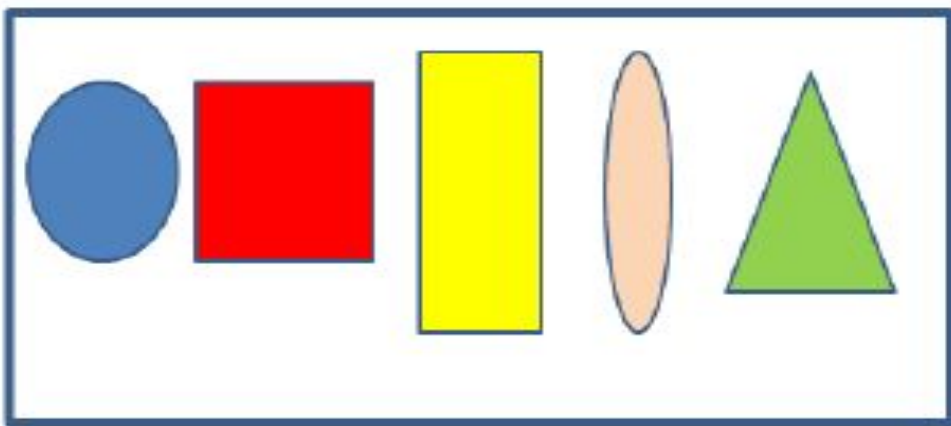
$$2 > 1$$

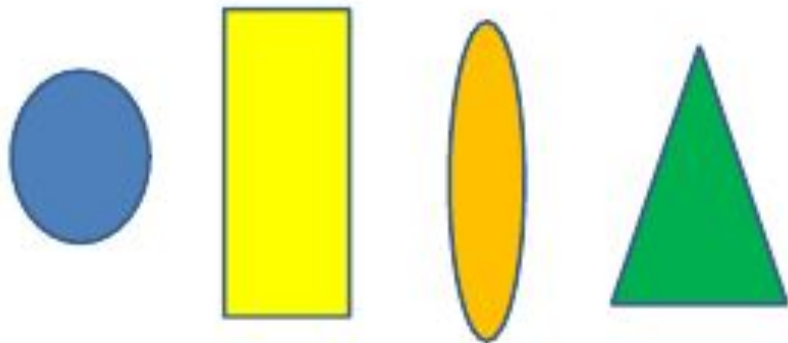
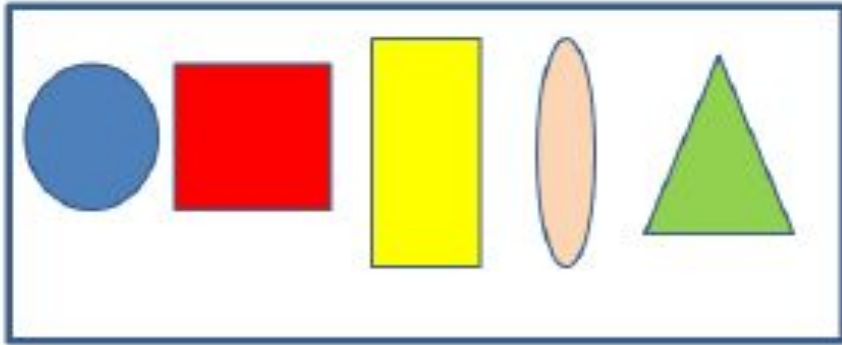


$$1 < 2$$

Поровну ли фигур?





Gigolki.ru



Gigolki.ru



Gigolki.ru



Gigolki.ru



Gigolki.ru



100GOAL.COM



100GOAL.COM



100GOAL.COM



100GOAL.COM

0

- На сколько мячей меньше, чем кукол?



$$3 = 3$$

ЭТО РАВЕНСТВО





Я отлично работал,  
все понял, могу  
объяснить другим.



Я хорошо  
работал и все  
понял.



Мне нужна  
консультация.

# Молодцы!

