






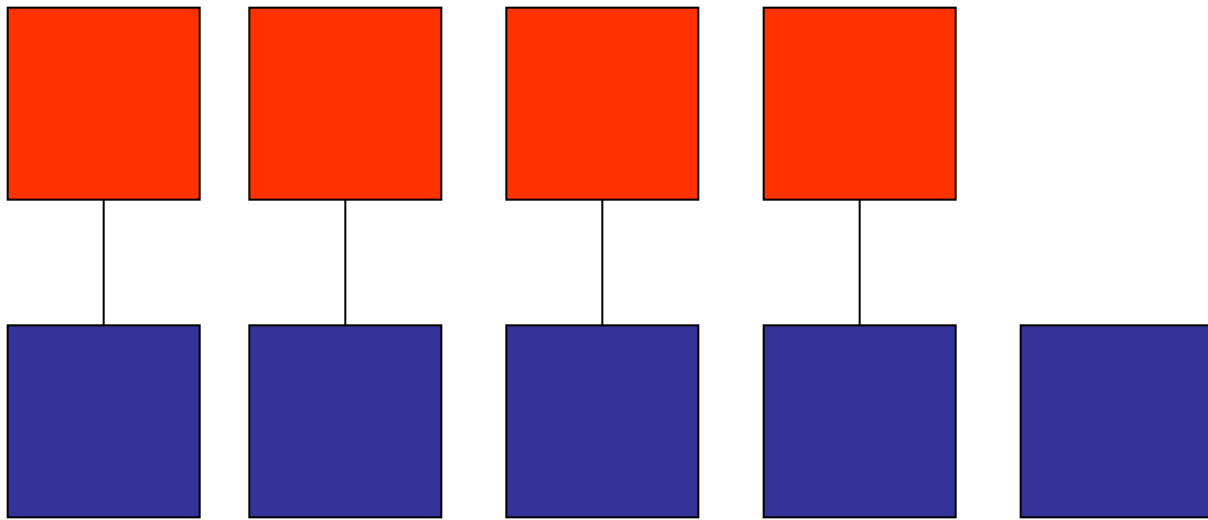



Сравнение групп предметов



- Сравните, каких квадратов больше?
Как не считая, ответить на этот вопрос?
- Расставить парами



- Мы составили пары.
- Сравни количество красных и синих квадратов.
- Красных квадратов меньше, чем синих.
- Сравни количество синих и красных квадратов.
- Синих квадратов больше, чем красных.
- Что нужно сделать, чтобы синих квадратов стало столько же сколько и красных?
- Нужно добавить ещё один красный квадрат или убрать один синий квадрат.



- Сравните и скажите, больше поросят или домиков?
- Поросят столько же сколько и домиков.
- Почему?
- У каждого поросёнка свой домик.

Запомни!

- Чтобы сравнить количество предметов, нужно составить из НИХ пары.