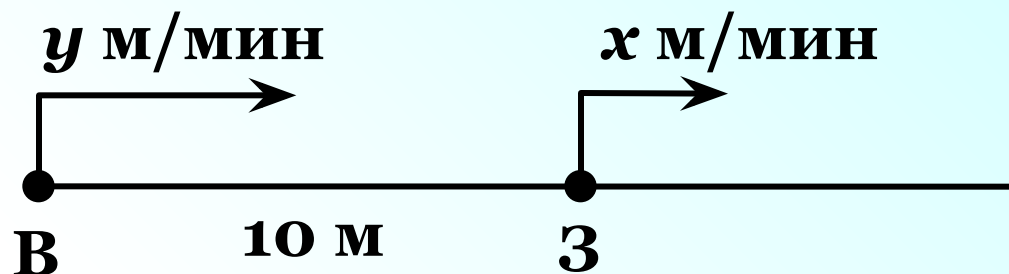


ИВАНОВА ДОМАШНЕГО ЗАДАНИЯ

№ 76

Волк бросился за зайцем, когда тот был на расстоянии 10 м от него. Скорость зайца – x м/мин, скорость волка – y м/мин, причём волк бежит быстрее зайца. Запишите на математическом языке:



а) скорость сближения волка и зайца;


$$y - x \text{ (м/мин)}$$

б) время, которое потребуется волку, чтобы догнать зайца.

$$10 : (y - x) \text{ (мин)}$$

№ 84 Впервые человек ступил на поверхность Луны 21 июля 1969 года. Это был американский астронавт Нил Армстронг. Сколько лет, месяцев и дней прошло с того момента до сегодняшнего дня?

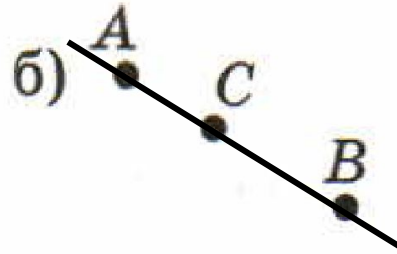
48 лет 1 месяц 28 дней



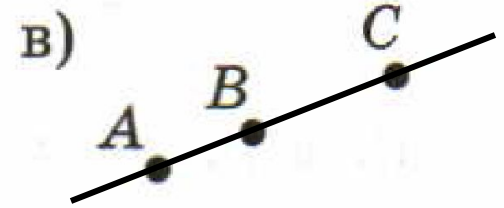
4.1. Проведите прямую, проходящую через точки A и B . Определите, проходит ли прямая AB через точку C .



не проходит




проходит

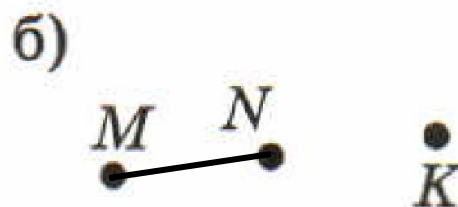


проходит


4.2. Точки M и N соединены отрезком. Определите, принадлежит ли точка K отрезку MN .



не принадлежит



не принадлежит



принадлежит

4.5. Заполните таблицу:

a	1	1	3	6
b	1	0	7	10
$2a + 5b$	7	2	41	62
$15a - 6b$	9	15	3	30

Укажите число, которое надо вставить, чтобы
получилось верное равенство.

$34 + \square = 100$

76

74

66

Укажите число, которое надо вставить, чтобы
получилось верное равенство.

$$72 + \boxed{} = 100$$

22

28

38



Укажите число, которое надо вставить, чтобы
получилось верное равенство.

$$+ 68 = 100$$

28

32

42



Укажите число, которое надо вставить, чтобы
получилось верное равенство.

$$+ 47 = 100$$

63

67

53



Укажите число, которое надо вставить, чтобы
получилось верное равенство.

$17 + \square = 50$

33

43

67



Укажите число, которое надо вставить, чтобы
получилось верное равенство.

$$39 + \square = 75$$

34

44

36



Укажите число, которое надо вставить, чтобы
получилось верное равенство.

$$46 + \boxed{} = 81$$

45

35

25




Укажите число, которое надо вставить, чтобы
получилось верное равенство.

$$+ 39 = 67$$

28

38

18




Укажите число, которое надо вставить, чтобы
получилось верное равенство.

$$+ 82 = 100$$

28

32

18



Конец

$$+ 82 = 100$$

28

32

18




Моглодцы

Моглодцы

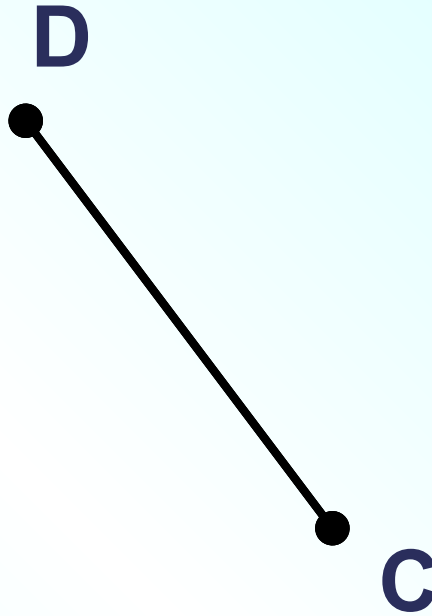


К л а с с н а я р а б о т а .

№ 87

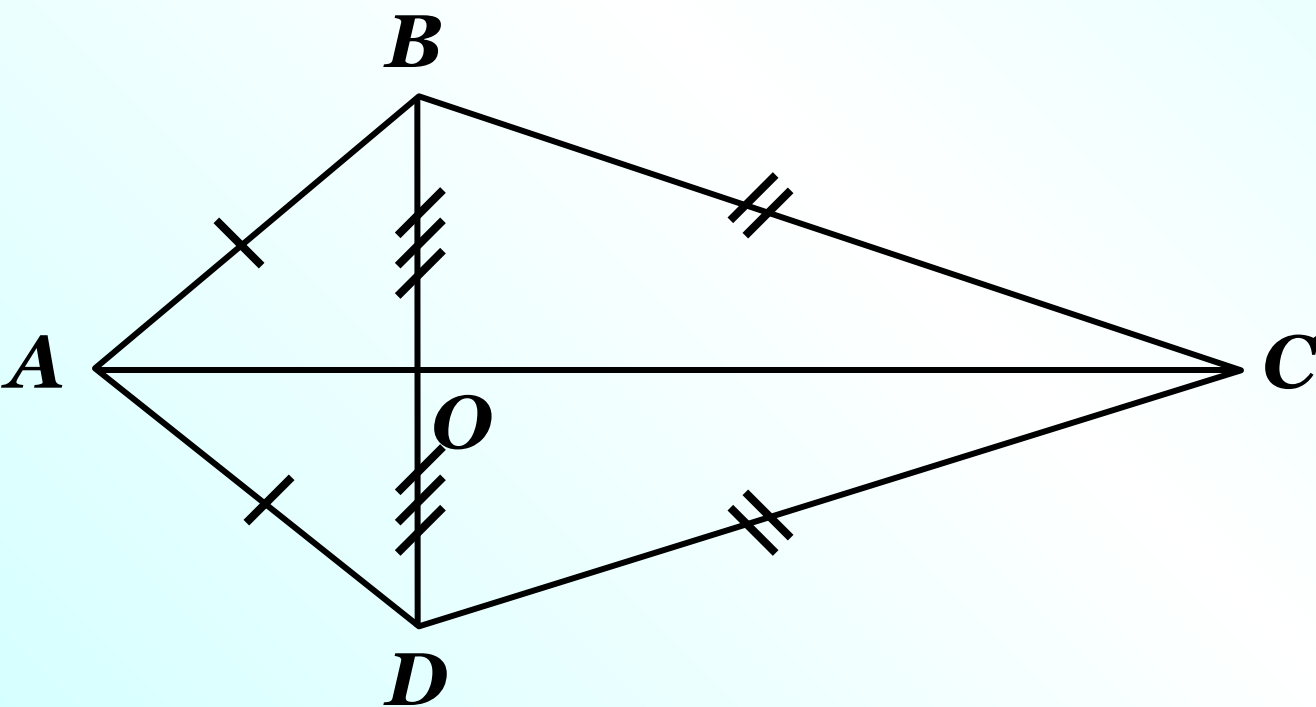


$$AB = CD$$



$$MN > CD$$

На геометрических рисунках принято равные отрезки отмечать одинаковым числом чёрточек

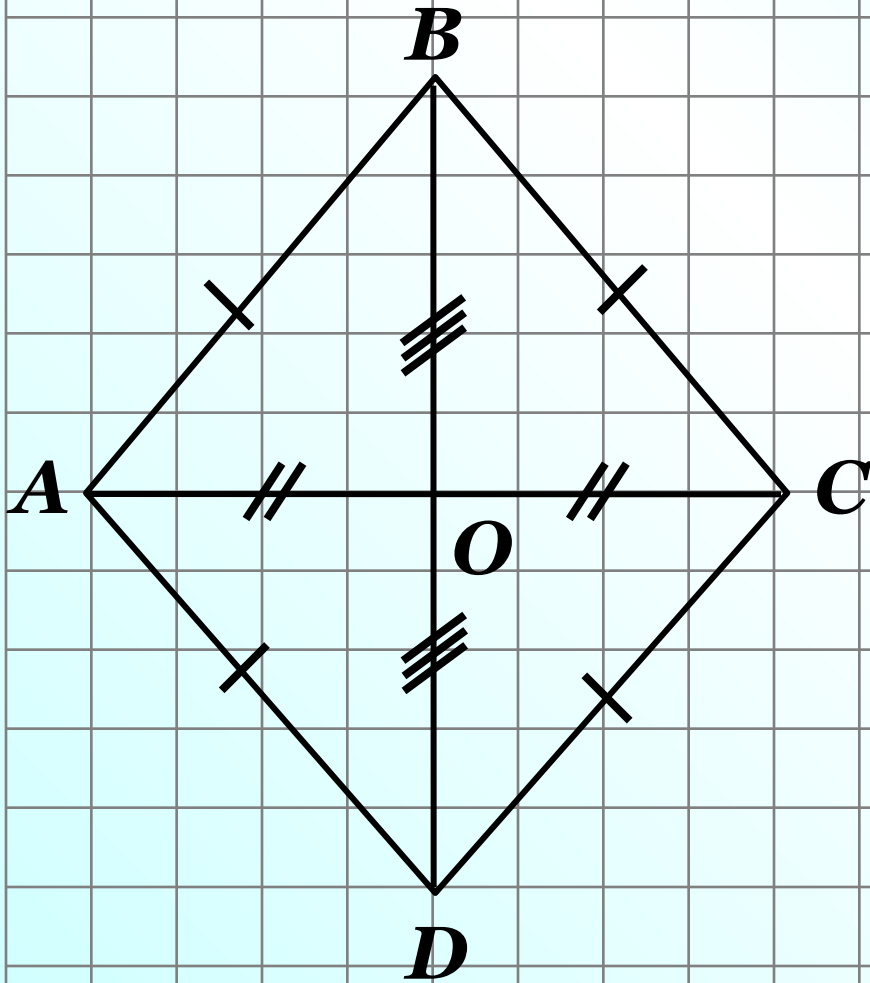


$$AB = AD$$

$$BC = DC$$

$$BO = DO$$

Сделайте в тетради такой же рисунок, отметьте на нём равные отрезки. Запишите с помощью равенств какие отрезки равны.



Проверьте себя!

$$AB = BC = CD = AD$$

$$AO = CO$$

$$BO = DO$$

Учебник:

стр. 30

Дома:

У: № 92; 93; 101

РТ § 5 № 1; 7(a)

Ошибкa!

