

# Вставьте пропущенные числа

$$400 + 500 - 300 = 600$$

$$100 + 100 + 0 = 200$$

$$800 - 300 + 400 = 900$$

$$100 - 1 = 99$$

$$300 + 400 - 400 = 300$$

$$8\text{дм}4\text{см} = 84 \text{ см}$$

$$5\text{м} = 500 \text{ см}$$

$$7\text{дм} = 70 \text{ см}$$

$$4\text{м}5\text{дм} = 45 \text{ дм}$$

$$8\text{м} = 800 \text{ дм}$$

**Сравнение,  
сложение и  
вычитание  
именованных  
чисел**

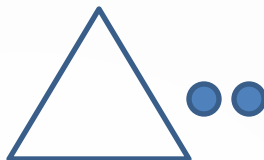
**Урок - 20**

## Учебная задача:

- 1) Научиться переводить единицы длины из метров и дециметров в дециметры, и наоборот;
- 2) Закрепить умения выполнять действия с круглыми сотнями;
- 3) Тренировать способности к сложению и вычитанию двузначных чисел

# №1

$$1\text{м}2\text{дм} = \boxed{\phantom{00}} \text{д}$$




$$4\text{м}3\text{дм} = \boxed{\phantom{00}} \text{д}$$



$$35\text{дм} = \boxed{3\text{м}5\text{дм}}$$



$$24\text{дм} = \boxed{2\text{м}4\text{дм}}$$



## № 2

5м9дм	59д
=	м
7м2дм	72д
=	м

48дм =	4м8дм
--------	-------

83дм =	8м3дм
--------	-------



# № 3

5м  $>$  4м9дм

9м  $>$  81дм

3м6дм  $<$  4м6дм

6м7дм  $>$  62дм

84дм  $=$

8м4дм  $>$

95дм

5м9дм



# № 4

$$3\text{ м } 6\text{ дм} + 4\text{ м } 2\text{ дм} = 36\text{ дм} + 42\text{ дм} = 78\text{ дм} = 7\text{ м } 8\text{ дм}$$

$$8\text{ м } 9\text{ дм} - 3\text{ м } 5\text{ дм} = 89\text{ дм} - 35\text{ дм} = 54\text{ дм} = 5\text{ м } 4\text{ дм}$$

$$5\text{ м } 6\text{ дм} + 2\text{ м } 4\text{ дм} = 56\text{ дм} + 24\text{ дм} = 80\text{ дм} = 8\text{ м}$$

$$7\text{ м} - 3\text{ м } 8\text{ дм} = 70\text{ дм} - 38\text{ дм} = 32\text{ дм} = 3\text{ м } 2\text{ дм}$$

$$2\text{ м } 1\text{ дм} + 6\text{ м} = 21\text{ дм} + 60\text{ дм} = 81\text{ дм} = 8\text{ м } 1\text{ дм}$$

$$7\text{ м } 5\text{ дм} - 3\text{ дм} = 75\text{ дм} - 3\text{ дм} = 72\text{ дм} = 7\text{ м } 2\text{ дм}$$

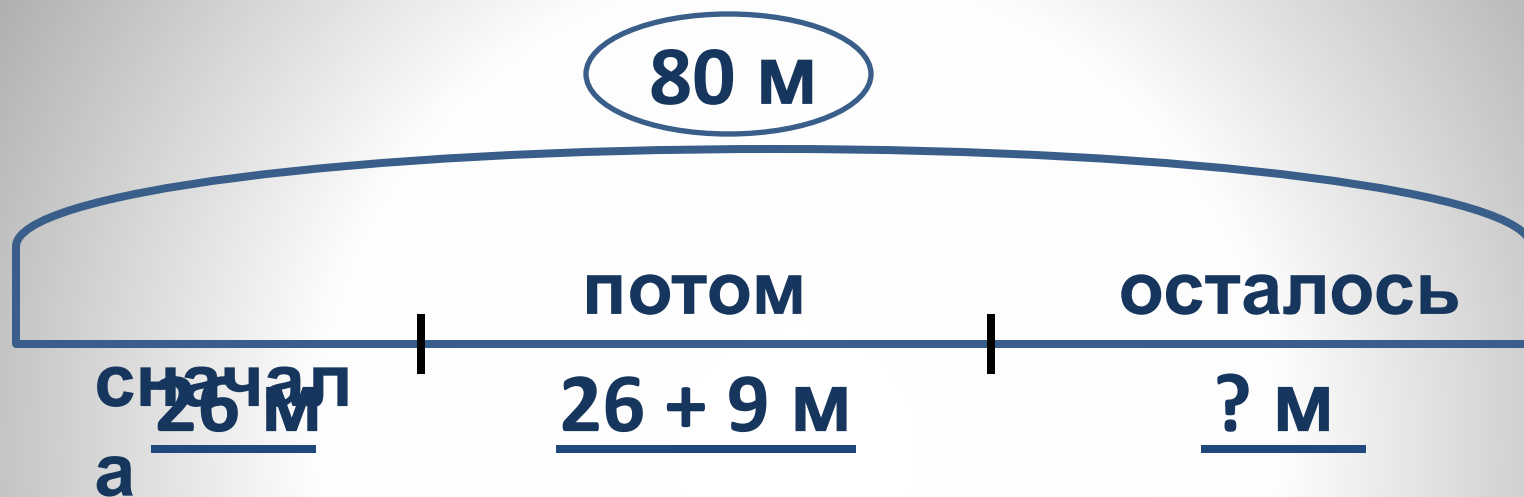
$$9\text{ м } 8\text{ дм} - 4\text{ м } 7\text{ дм} = 98\text{ дм} - 47\text{ дм} = 51\text{ дм} = 5\text{ м } 1\text{ дм}$$

$$3\text{ м } 5\text{ дм} + 1\text{ м } 9\text{ дм} = 35\text{ дм} + 19\text{ дм} = 54\text{ дм} = 5\text{ м } 4\text{ дм}$$

М

М

# № 10



1)  $26 + 9 = 35$  (м) – прошёл ёж потом.

2)  $26 + 35 = 61$  (м) – прошёл ёж всего.

3)  $80 - 61 = 19$  (м)

**Ответ: ежу осталось пройти 19 метров.**