

# Столько же и еще...

# Столько же, но без...

Урок математики в 1 «Б» классе

УМК «Перспектива»

Мостовщикова О.А.

МОУ «СОШ №5 город Саратов

# Чистописание

Какое число пропущено?

1, 2, 4, 5, 6, 7, 8, 9, 10

3

# Собери число 10

7	3	5	2
4	9	1	3
8	2	5	8
4	5	5	2
3	9	6	4
2	1	0	10



# Собери число 10 (проверка)

7	3	<input type="text"/>	<input type="text"/>
<input type="text"/>	9	1	<input type="text"/>
8	2	<input type="text"/>	<input type="text"/>
<input type="text"/>	5	5	<input type="text"/>
<input type="text"/>	<input type="text"/>	6	4
<input type="text"/>	<input type="text"/>	0	10



# Сутробы

$$6 > 7$$

$$3 < 5$$

$$6 > 4$$



$$5 - 4 > 6 - 2$$

$$8 = 0 + 8$$

$$4 < 2$$

$$8 > 3$$

# Загадки



Реши цепочки

$$4+5-2+3-2-2 =$$

$$10-5+4-3+2-4 =$$

$$8+2-5+2-3+2-3 =$$

# Реши цепочки

9 7 10 8

$$4 + 5 - 2 + 3 - 2 - 2 = 6$$

5 9 6 8

$$10 - 5 + 4 - 3 + 2 - 4 = 4$$

10 5 7 4 6

$$8 + 2 - 5 + 2 - 3 + 2 - 3 = 3$$




# Отдохнем

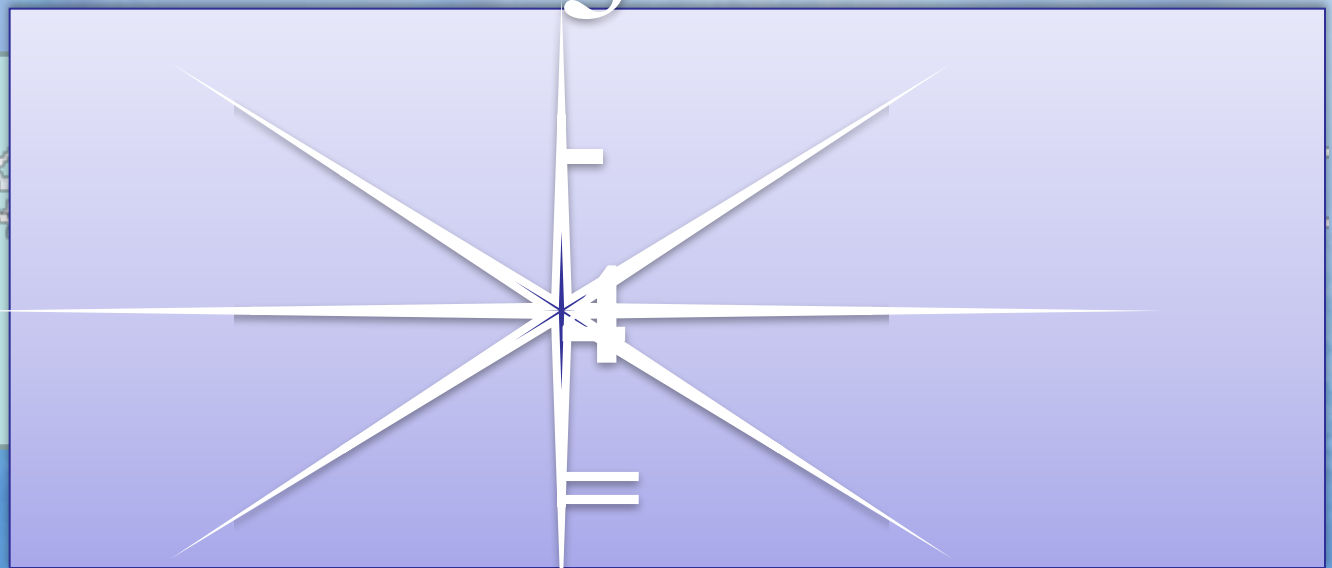


# Проверь

<b>7</b>	<b>6</b>	<b>1</b>	<b>4</b>	<b>2</b>
<b>10</b>	<b>9</b>	<b>4</b>	<b>7</b>	<b>5</b>
<b>6</b>	<b>5</b>	<b>0</b>	<b>3</b>	<b>1</b>



# Задача



5

4

1

# Задача



6



**На 2  
больше**

Начерти



# Наряди ёлочку



