



Путешествие по стране «Математика»

Автор: воспитатель МБОУ детский сад
«Хунчугеш» с. Эрги-Барлык
Сарыг-оол Людмила Седий-ооловна

Барун-Хемчикского кожуун

Цель: Закрепление математических знаний и умений посредством игры.

Задачи:

- Упражняться в прямом и обратном счете;
- Развивать вычислительные навыки;
- Воспитывать интерес к предмету «Математика»;
- Закреплять знания, умение о свойствах предметов.

- **Развивающие задачи:** Способствовать формированию мыслительных операций, логического мышление, развитию речи, умение рассуждать.
- **Воспитывающие задачи:** воспитывать навык сотрудничества на занятиях. Выработать самостоятельность, вежливость, доброжелательность.

Часы – Петух

-Давным –давно люди
узнавали время по
живым часам. Эти часы
ходят по двору,
хлопают крыльями и,
взлетев на забор,
кричат
«Ку – ка – ре –ку!»

Доброе утро!



Крепче за руки возьмёмся
И друг другу улыбнемся.
Сейчас посмотрите на наших гостей, и подарим
улыбку им.





**На чем можно добраться
до сказочной страны?**





Полет отправляем самолет
Правое, крыло вперед
Левое, крыло вперед.
Раз, два, три, четыре.
Полетел наш самолет.






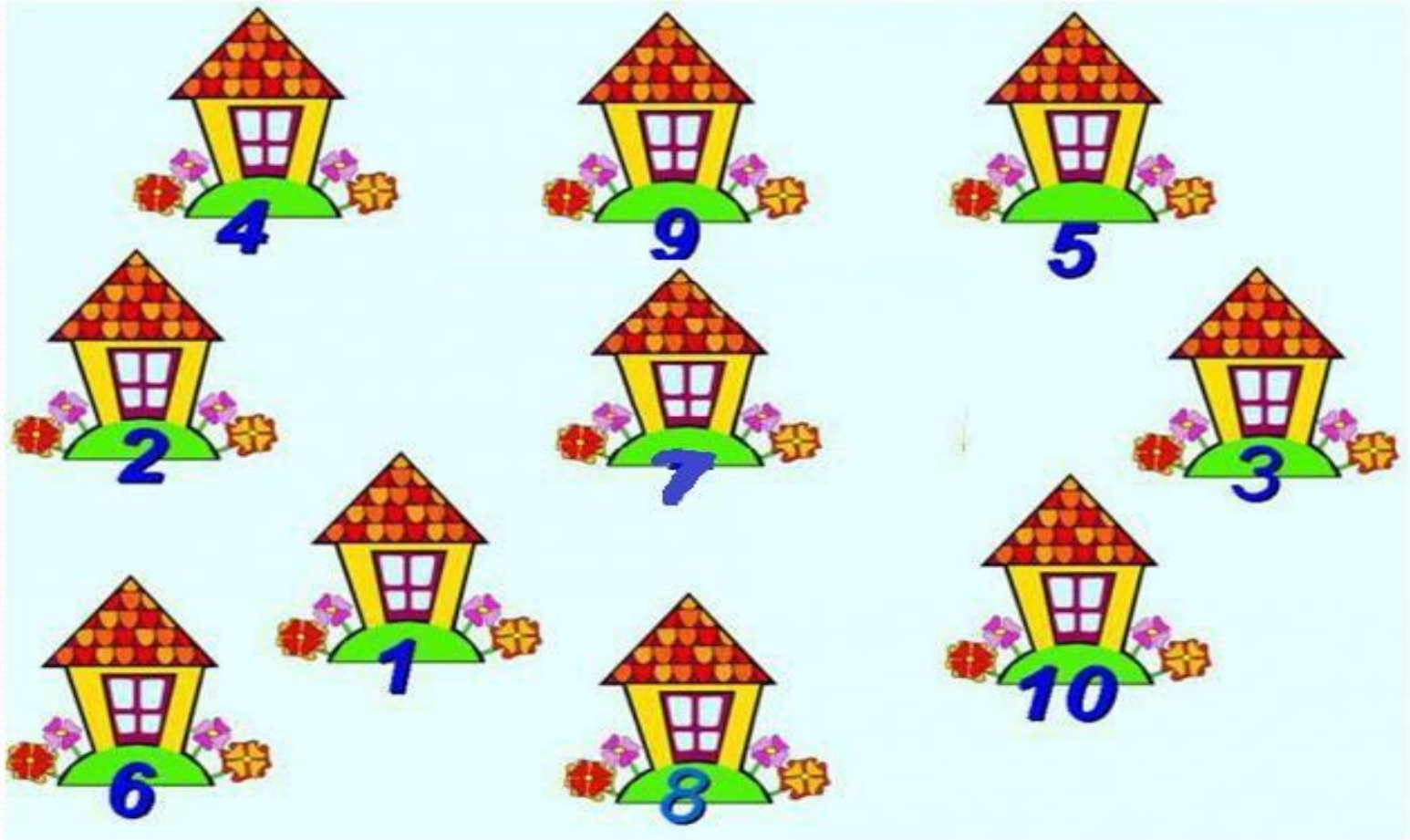


**В Простоквашино живет
почту всем он раздает.**

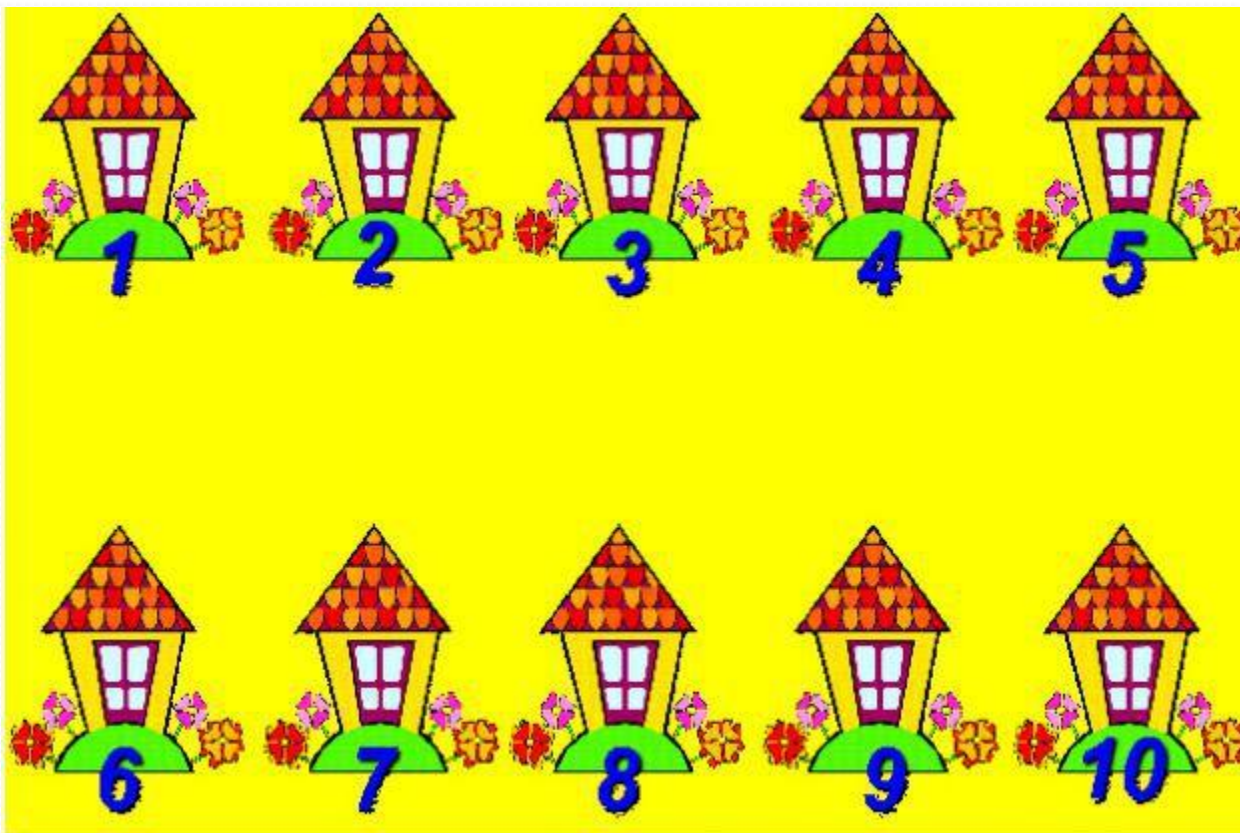




Ребята, почтальону нужно разнести почту, но он никак не может найти нужный дом. Давайте расставим домики по порядку, чтобы почтальон Печкин смог быстрее доставить письма.

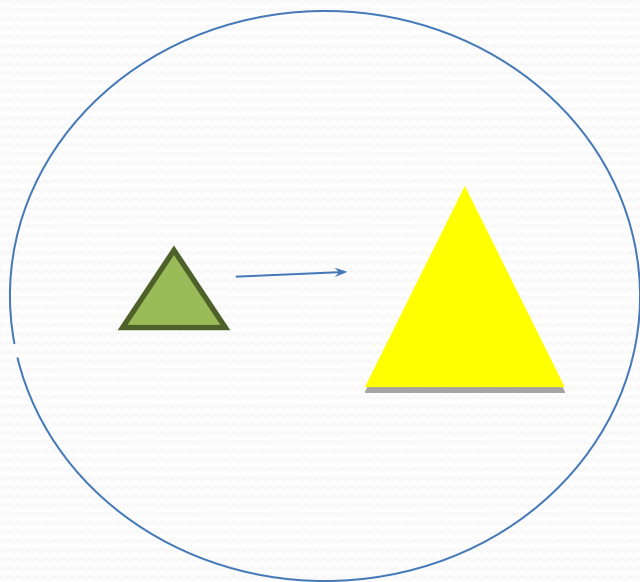


Давайте посчитаем домики
от 1 до 10 и обратно от 10 до 1.



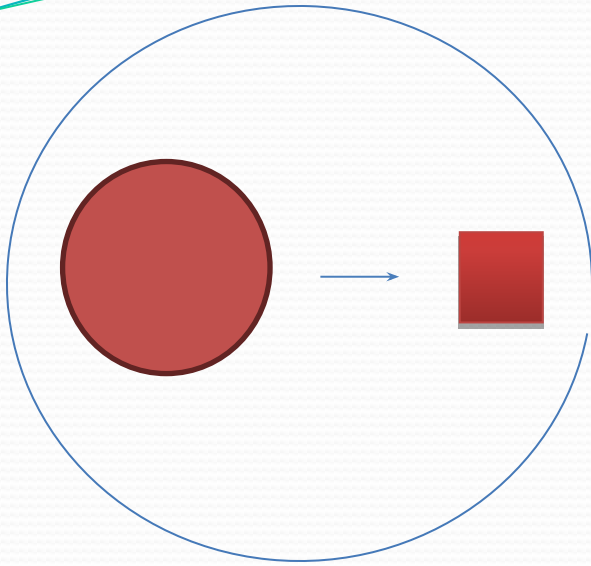
Посмотрите, внимательно как изменились на каждом рисунке по две фигуры.

Если вторая фигура на рисунке изменилась по трем свойствам: цвету, форме, размеру.



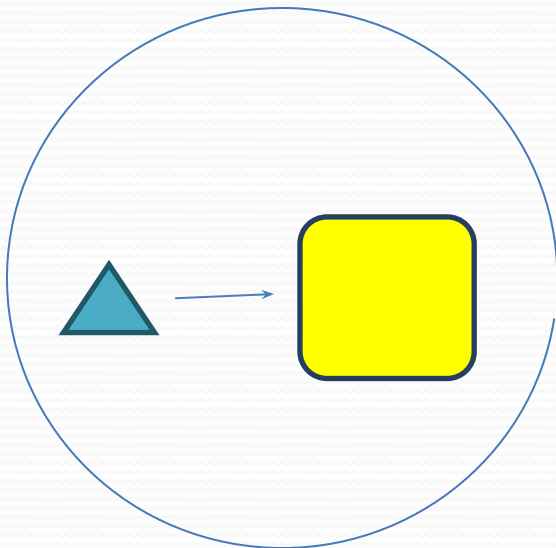
С начало был зеленый маленький треугольник, стал большим желтым треугольником. Что здесь изменилось? Какие свойства?

Изменилось – размер и цвет.
(2- свойства изменились)



С начало был большой красный круг,
стал маленьким красным квадратом.
Скажи что изменилось? Какие
свойства?

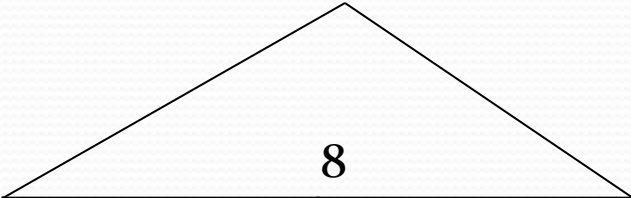
Изменилось – форма и размер.



С начало был маленький синий треугольник.
Превратился большой желтый квадрат.
Скажи, какие свойства изменилось?

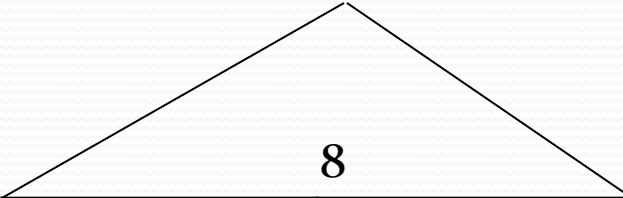
Цвет, форма и размер.

Ребята, Караты - Хаан хочет вас проверить, как вы умеете считать и хорошо ли вы знаете состав числа 8.



A house-shaped diagram with the number 8 inside the triangular roof. Below the roof is a table with 4 rows and 2 columns. The first row is highlighted in blue.

1	5
2	6
3	7
4	8



A house-shaped diagram with the number 8 inside the triangular roof. Below the roof is a table with 4 rows and 4 columns. The first row is highlighted in blue.

1	7	5	3
2	6	6	2
3	5	7	1
4	4	8	0

Мальчик с Азбукой под мышкой -
Деревянный шалунишка.
Победил он Карабаса,
Не подвёл друзей ни разу.
Кто не слушался Мальвину?
Глупый, добрый ...

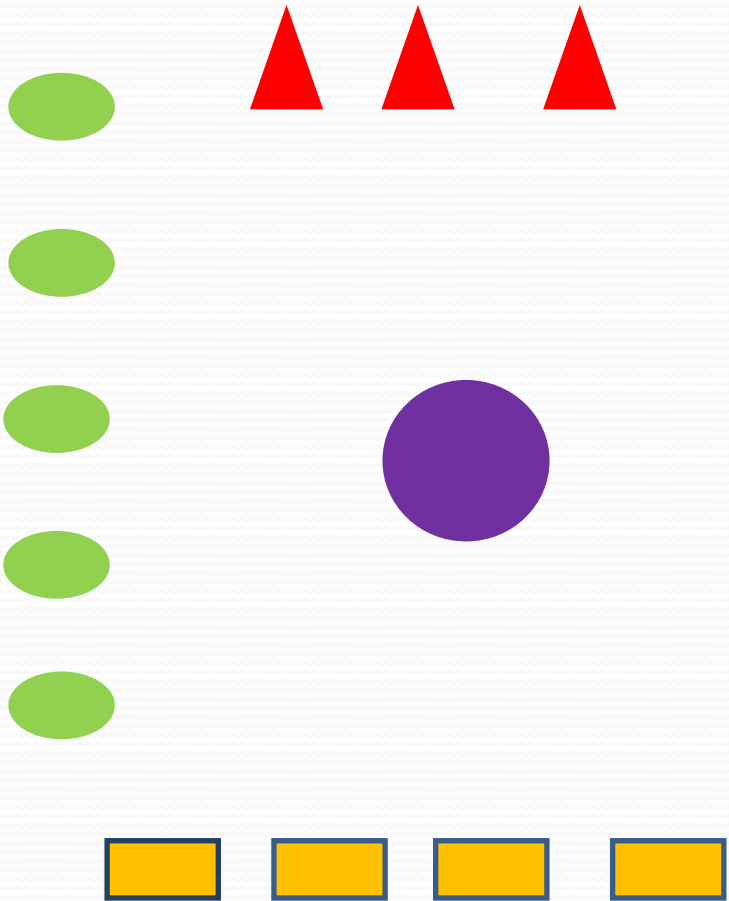
(Буратино).



Назовите пожалуйста по очереди сказочных героев?

1. Оскус-оол
2. колобок
3. доктор Айболит
4. Чебурашка
5. золотая рыбка
6. кот в сапогах
7. Чылбыга кадай
8. Хадын-кыс

Посмотрите на геометрические фигуры.



- Посмотрите, какая фигура находится в центре?
- Какие фигуры расположены вверху?
- Какие фигуры расположены слева?
- Какие фигуры расположены справа?
- Какие фигуры расположены внизу?

Жители сказочных страны прислали картинки





Нам пора возвращаться в детский сад.
Руки в стороны.
Полет отправляем самолет
вы пассажиры, я пилот.





СПАСИБО ЗА ВНИМАНИЕ!

