

Страна Заниматика

**Сегодня мы совершим путешествие в
Страну веселой Заниматика.**

**Если вы ответите на все вопросы, то
станете частыми и Почетными гостями
этой страны:**

Страны Заниматика

и встретитесь с царицей Математики

**Вот один, иль
единица,
Очень тонкая
как спица.**



**А вот это цифра два,
Полюбуйтесь какова:
Выгибает двойка шею,
Волочится хвост за нею!**

А за двойкой,
посмотри,



Выступает цифра три.

За тремя идет
четыре,



Острый локоть
оттопыря.



**А потом пошла плясать
По бумаге цифра пять.
Руку вправо протянула,
Ножку круто изогнула.**



**Цифра шесть –
дверной замочек:
Сверху крюк, внизу
кружочек.**



**Вот семерка - кочерга,
У нее одна нога.**



**А восьмерка - два
кольца
Без начала и конца**


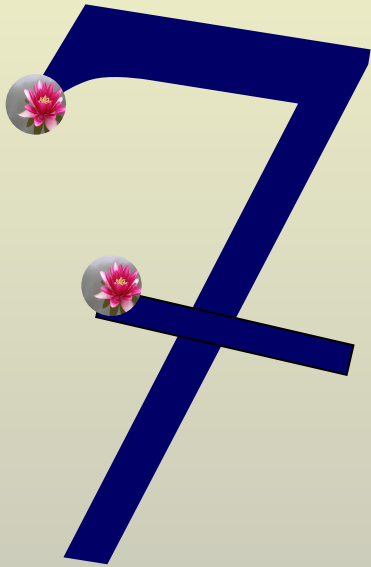


Цифра девять, иль девятка -
Цирковая акробатка.



Цифра вроде буквы "О",
Это ноль, иль ничего.
Круглый ноль такой
хорошенький,
А не значит ничегошеньки !



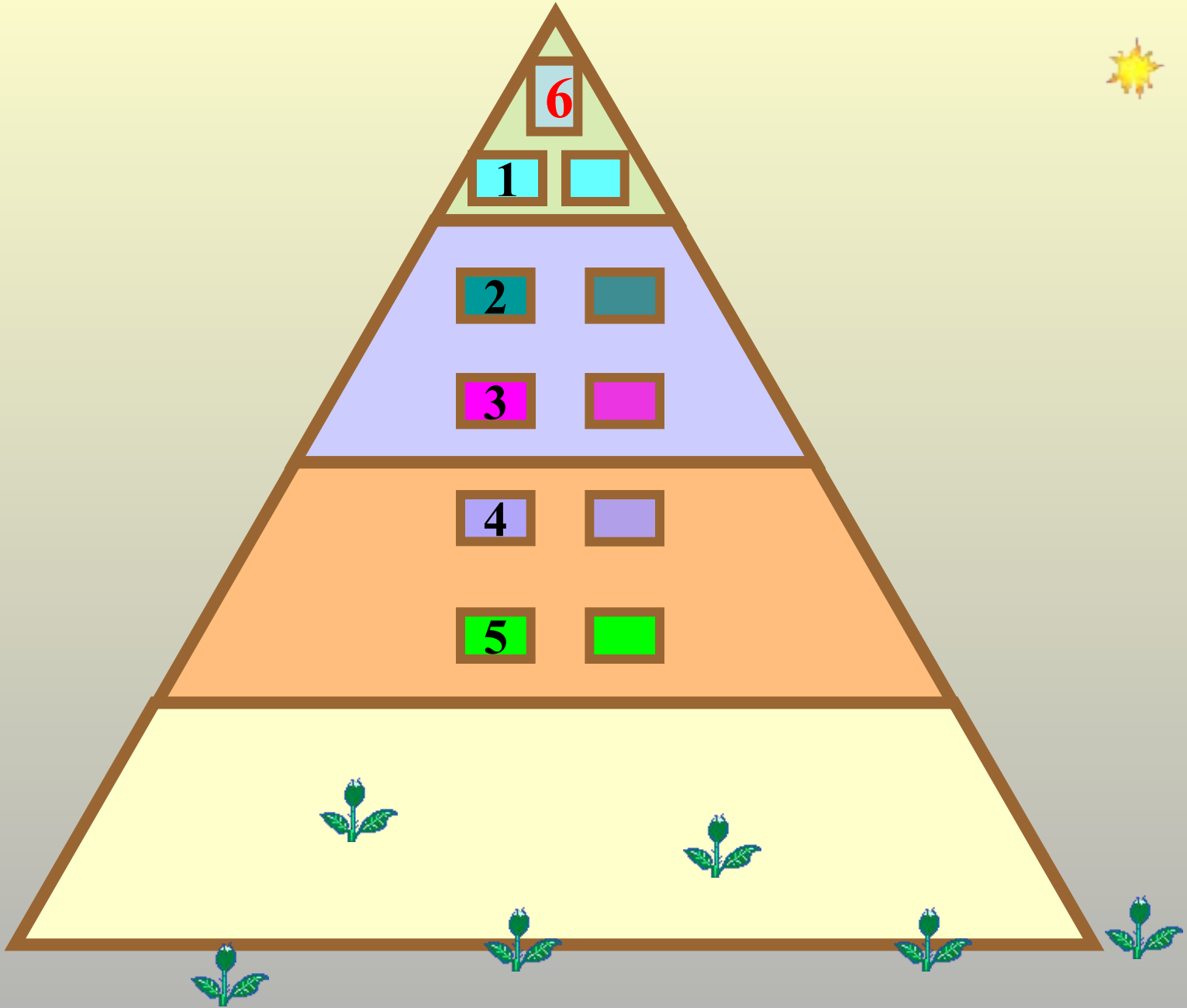









Найди на картинке предметы с
элементами цифры 8



**Назови
слагаемые,
которые
составляют
число 8**





2	+	4	=	
3	+	2	=	
2	+	6	=	
5	+	1	=	
3	+	5	=	
4	+	1	=	
4	+	4	=	

$$8 - 3 + 1 - 2 + 4 - 3 - 4 = \text{🚢}$$

$$8 - 5 + 3 + 2 - 6 + 2 + 2 = \text{🚢}$$

Математические ручейки

$$6 - 3 + 2 - 1 - 2 + 3 + 3 = \text{🚢}$$

$2+3$
М
...6

5 <
О
6

8+5
И
...4

3 >
О
4

4+1
Д
...7

Ц
7

3+3
Ы
...6

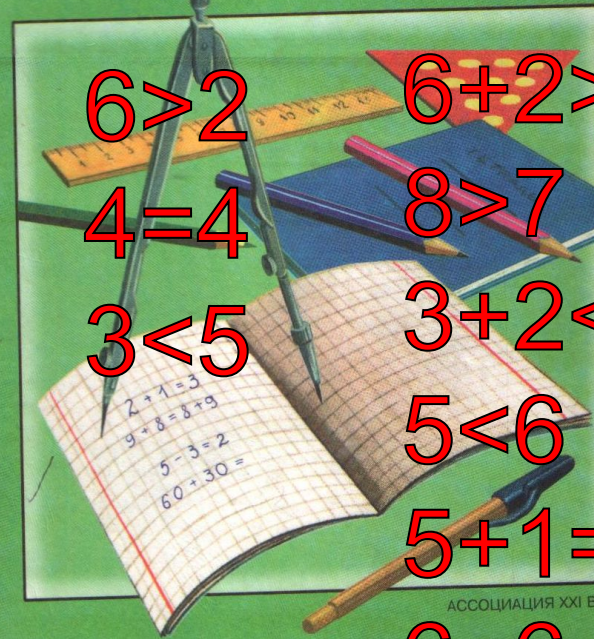


МАТЕМАТИКА



1

Н.Б. ИСТОМИНА



$$6 > 2$$

$$6 + 2 > 6 + 1$$

$$4 = 4$$

$$8 > 7$$

$$3 < 5$$

$$3 + 2 < 4 + 2$$

$$2 + 1 = 3$$

$$9 - 8 = 8 - 9$$

$$5 - 3 = 2$$

$$60 \div 30 =$$

$$5 < 6$$

$$5 + 1 = 3 + 3$$

$$6 = 6$$


АССОЦИАЦИЯ XXI ВЕК

МАТЕМАТИКА

5



Н.Б. ИСТОМИНА



АССОЦИАЦИЯ XXI ВЕК

1	2	3	4	5	6	7
7	6	5	4	3	2	1

К вам обращается царица Математика



ДОМАШНЕЕ ЗАДАНИЕ:

№ 178 (3 столбик)

№ 180

