

Математический КВН



**Как называется
результат
умножения?**

**Как называется
чертёжный инструмент, с
помощью которого можно
построить окружность?**

Вычислите:

$$2+2x^2-4:2+1$$

**Двое учеников прошли
от дома до школы 100
метров. Сколько прошёл
каждый?**

**Много – люди,
один -?**

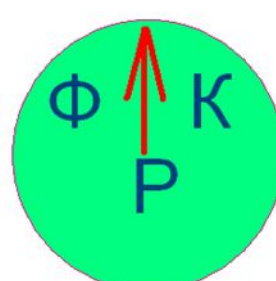
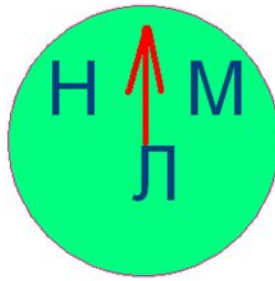
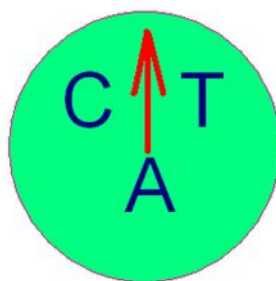
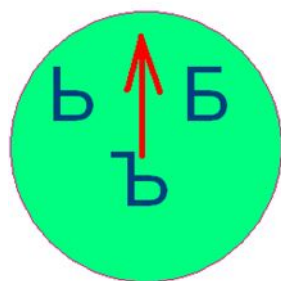
Ваня и Маша играли на чердаке, где было довольно грязно и темно. Когда они вдоволь наигрались, то по лестнице спустились вниз. У Маши всё лицо оказалось серым от пыли, а лицо Вани осталось чистым. Несмотря на это, именно Ваня, а не Маша отправляется умываться.

Почему?

**У бабушки Даши внук
Паша, кот Пушок, собака
Дружок. Сколько у
бабушки внуков?**

**Батон разрезали на три
части. Сколько сделали
разрезов?**

**Перед вами замок с секретом.
Если вы поставите стрелки на
нужные буквы, то получите
ключевое слово и замок
откроется. Какое это слово?**



**Грузовик ехал в деревню.
По дороге он встретил 4
легковые машины.
Сколько машин ехало в
деревню?**

Попробуйте сосчитать:

6	10	13	2
9	19	1	14
3	8	20	7
5	16	11	18
12	17	15	4

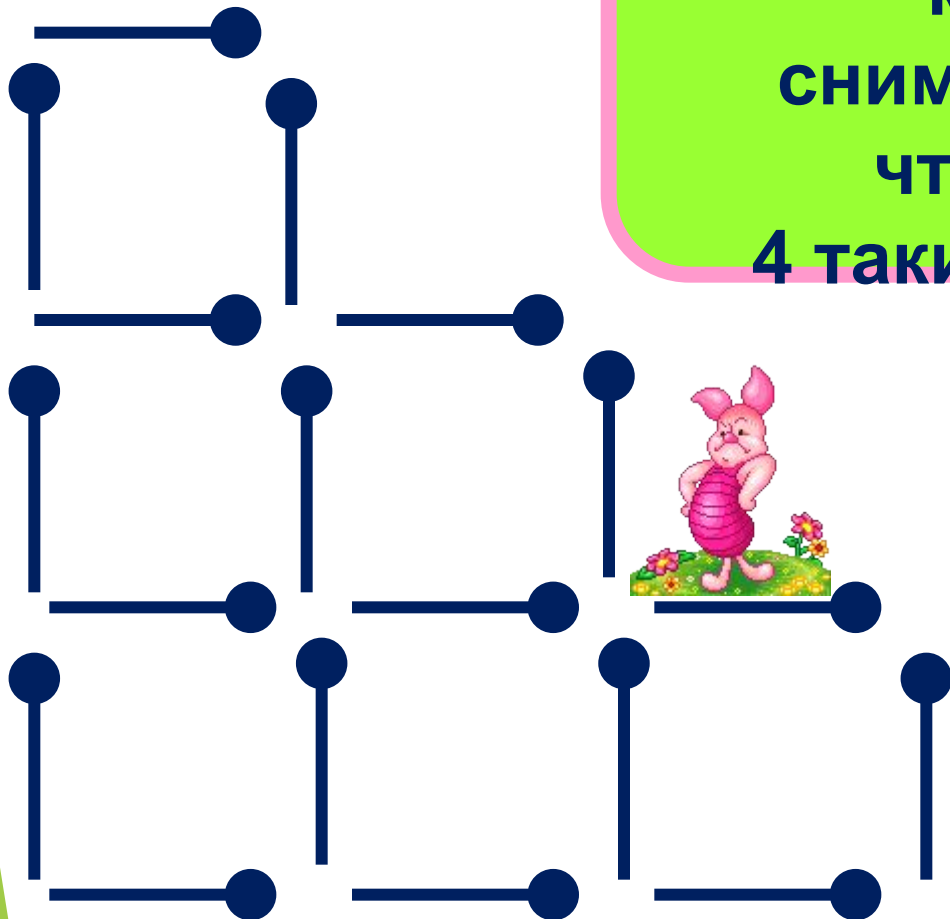
**Мельник пошёл на
мельницу и увидел в
каждом углу по 3 кошки.
Сколько ног на
мельнице?**



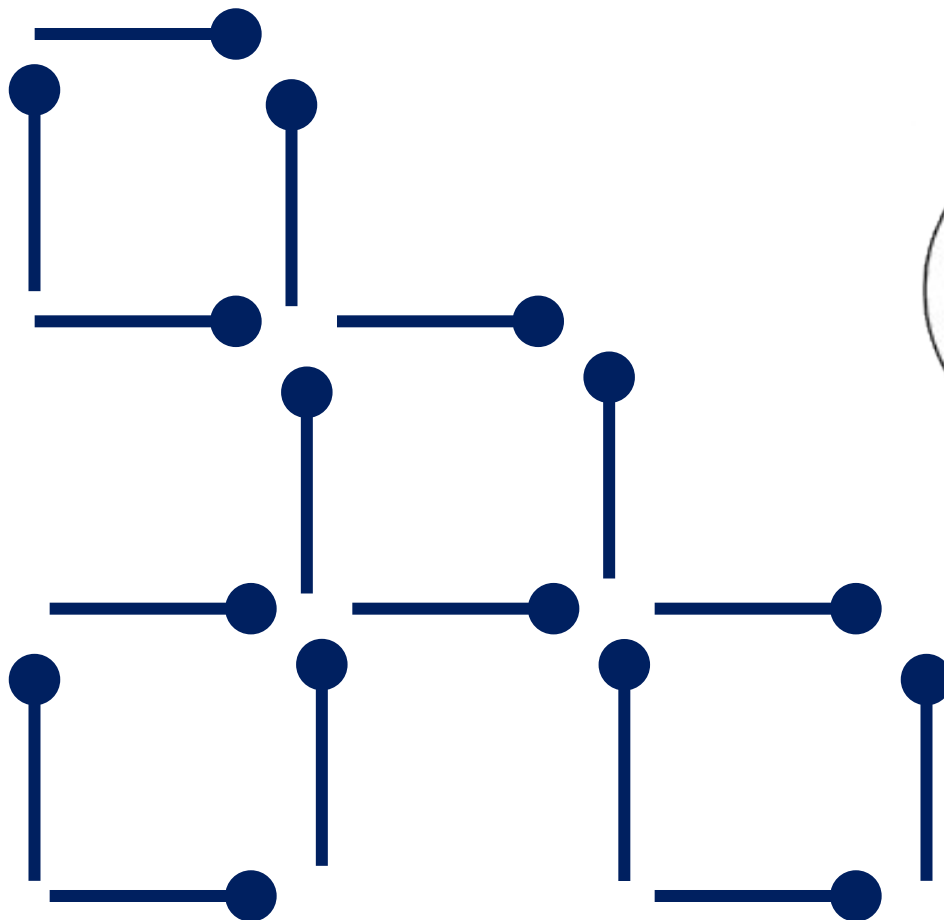
В каком месяце 28 дней?

**У прямоугольного стола
отрезали один угол.
Сколько углов у стола?**

**Из 18 спичек,
составляющих 6
квадратиков,
снимите 2 спички так,
чтобы осталось
4 таких же квадратика.**



Ответ:



**На двух руках 10
пальцев. Сколько
пальцев на пяти руках?**

Мальчик лёг спать в 7 часов вечера, поставив будильник так, чтобы он прозвенел в 9 часов утра. Сколько времени проспит мальчик?



«Исключите лишнее»

- а) сложение, умножение, деление,
слагаемое, вычитание;**
- б) минута, секунда, час, вечер;**

**На берёзе 16 сучков, на
каждом сучке по 10
веток, на каждой ветке
по 4 яблока. Сколько
яблок всего?**

**14 лыж у крылечка
стоят. Сколько на
лыжах каталось ребят?**

Разгадайте ребус:

40 о / ка




**Буквы спрятались.
Найдите их.**

**МТМТК, КРНДШ,
МТР, ТНН, ЦФР, ЗДЧ.**


**На скамейку сели
малыши. Дюймовочка
занимает 1 см, Незнайка
— 6 см, а доктор
Пилюлькин— 8 см.
Уместятся ли они все,
если длина скамейки 2
дм?**

Будь внимательнее!



Сколько треугольников на рисунке?

**СКОЛЬКО КОНЦОВ у
ОДНОЙ ПАЛКИ? А у ПЯТИ?
А у ШЕСТИ с ПОЛОВИНОЙ?**




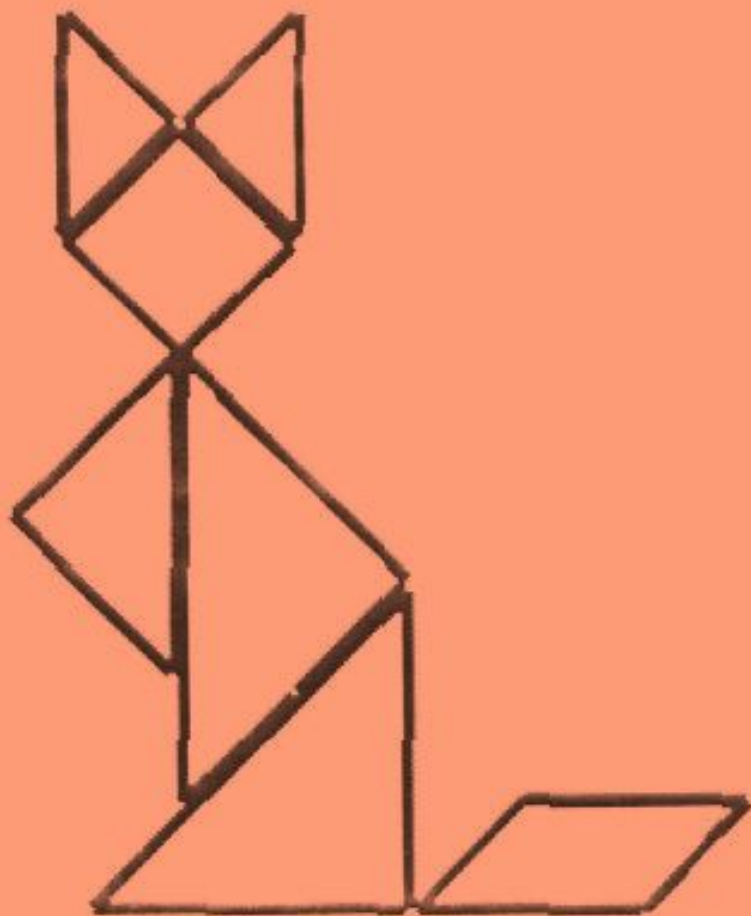


Рис . 1

Вот закончилась игра

Результат узнать пора.

Кто же лучше всех трудился

И в турнире отличился?

МОЛОДЦЫ!!!