


Своя игра



НАЧАТЬ ИГРУ

СЛОЖЕНИЕ И ВЫЧИТАНИЕ МНОГОЗНАЧНЫХ ЧИСЕЛ

ЧИСЛОВАЯ МЕЛЬНИЦА

10

30

50

70

АКАДЕМИЯ ВЕЛИЧИН

10

30

50

70

ПО СЛЕДАМ ПИФАГОРА

10

30

50

70

МАТЕМАТИЧЕСКИЕ
РАСКОПКИ

10

30

50

70

АУКЦИОН ЗАДАЧ

10

30

50

70



ЧИСЛОВАЯ МЕЛЬНИЦА



- Какое число на 1 больше, чем 54879?

54880

ОТВЕТ



ЧИСЛОВАЯ МЕЛЬНИЦА

- Делимое 56000, частное 100.
- Найдите делитель.

560

ОТВЕТ



ЧИСЛОВАЯ МЕЛЬНИЦА

«НЕСЧАСТНЫЙ
СЛУЧАЙ»



ЧИСЛОВАЯ МЕЛЬНИЦА



Частное в 7 раз меньше делимого.
Чему равен делитель?

7

ОТВЕТ



АКАДЕМИЯ ВЕЛИЧИН

Вырази в более крупных единицах
измерения:

$$1200 \text{ кг} = 1 \text{ т } 2 \text{ ц}$$

$$30 \text{ ц} = 3 \text{ т}$$

$$578 \text{ 000 000 г} = 578 \text{ т}$$

ОТВЕТ



Сравните

$$5 \text{ т } 3 \text{ ц} \geq 503 \text{ кг}$$

$$71 \text{ т} \approx 710 \text{ ц}$$

ОТВЕТ



ВЫРАЗИ:

$$700\text{дм}^2 = 7\text{ м}^2$$

$$30\text{см}^2 = 3000\text{мм}^2$$

ОТВЕТ



АКАДЕМИЯ ВЕЛИЧИН

- Вычисли столбиком:
- $45 \text{ км } 530 \text{ м} + 37 \text{ км } 470 \text{ м} = 83 \text{ км}$
- $32 \text{ т } 820 \text{ кг} - 8 \text{ т } 950 \text{ кг} = 23 \text{ т } 870 \text{ кг}$

ОТВЕТ



ПО СЛЕДАМ ПИФАГОРА



1192



ОТВЕТ

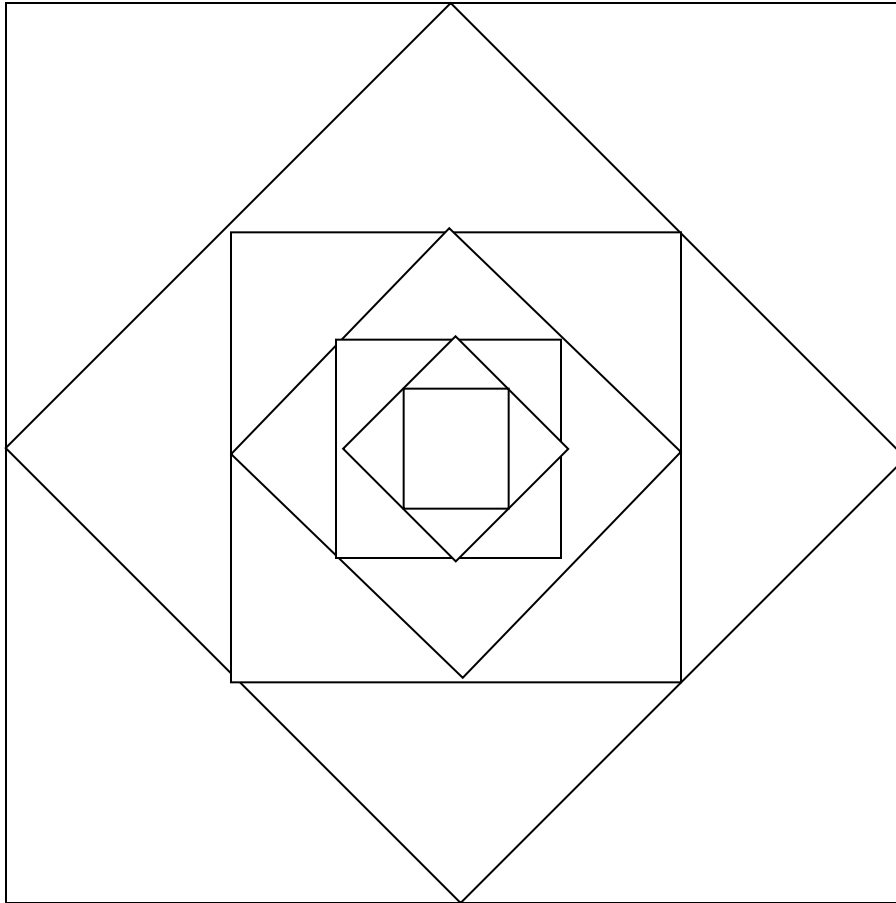


ОТВЕТ



ПО СЛЕДАМ ПИФАГОРА

30



**СОСЧИТАЙ
ТРЕУГОЛЬНИКИ
КВАДРАТЫ.**

**Треугольников-24
Квадратов- 7**

ОТВЕТ



ПО СЛЕДАМ ПИФАГОРА

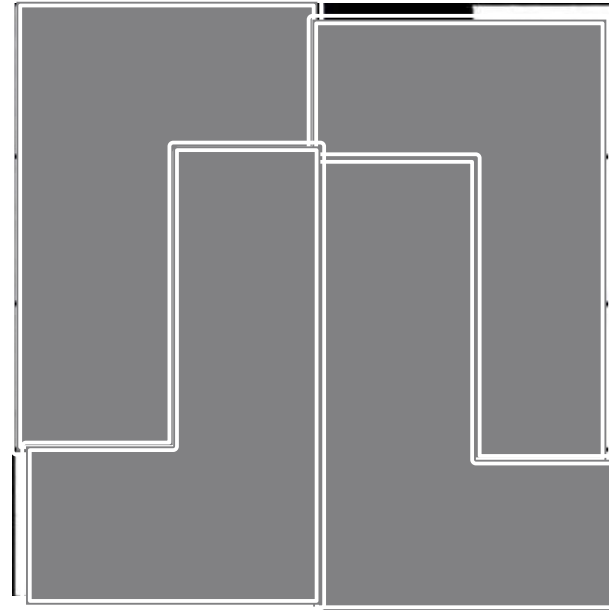
50



ПО СЛЕДАМ ПИФАГОРА

70

*Раздели квадрат на четыре
одинаковых по форме части
так, чтобы в каждой из них
было по одному чёрному
квадратику и по три белых.*



ОТВЕТ



АУКЦИОН ЗАДАЧ

10

Книжный магазин получил 13 290 учебников. Распродал за день 762 учебника, но на другой день получили ещё 1270 учебников. Сколько учебников было в магазине на второй день?

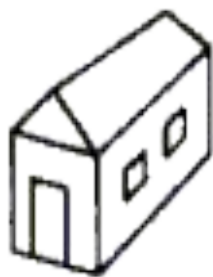
13780 УЧЕБНИКОВ

ОТВЕТ



АУКЦИОН ЗАДАЧ

1. Домик Кролика нарисован 4 раза, а домик Пятачка только один раз. Где домик Пятачка?




(A)



(B)



(C)



(D)



(E)

ОТВЕТ





10



АУКЦИОН ЗАДАЧ

Найди периметр прямоугольника, если его площадь равна 38 см^2 , длина одной стороны 2 см .

42 см

ОТВЕТ



АУКЦИОН ЗАДАЧ

Турист проходит 6 км за 1 ч.
Сколько метров он проходит за 1 мин?

100м

$$6\text{км} = 6000\text{м}$$

$$1\text{ч} = 60\text{мин}$$

$$6000 : 60 = 100\text{м}$$

ОТВЕТ



МАТЕМАТИЧЕСКИЕ РАСКОПКИ

Выполни действие
столбиком:

$$68316 + 35697 = 104013$$

$$132932 - 78465 = 54467$$

ОТВЕТ



МАТЕМАТИЧЕСКИЕ РАСКОПКИ

• Восстановите запись:

$$\begin{array}{r} 1 * 7 * \\ + \quad \quad \quad \\ \hline 8 3 6 \\ * 1 1 1 \end{array}$$

$$\begin{array}{r} 1275 \\ + \quad \quad \quad \\ \hline 836 \\ 2111 \end{array}$$

ОТВЕТ



МАТЕМАТИЧЕСКИЕ РАСКОПКИ

– Найдите значение выражения.

$$6 \cdot 100\,000 + 8 \cdot 10\,000 + 7 \cdot 1\,000 + 6 \cdot 100 + 9 \cdot 6$$

687654

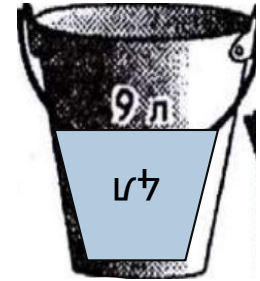
ОТВЕТ



Набрал 9л



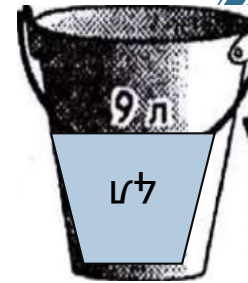
Перелил в 5 л бидон 5л .Осталось 4



Вылили 5л



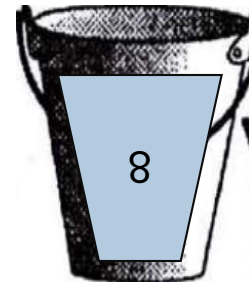
Перелил 4 л



Набрал 9л



Добавил до 5л



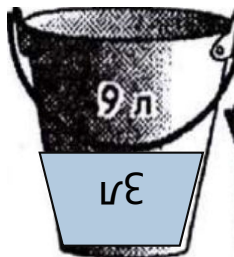
Вылил 5л



Перелил



Осталось 3л





5-Поработал
на отлично !



4-Старался, но
не всё удалось!



3- Работал так
себе!



3- Не работал!

МОЛОДЦЫ!