

своя игра

своя игра

М



Фигуры	<u>10</u>	<u>20</u>	<u>30</u>	<u>40</u>	<u>50</u>
Числа	<u>10</u>	<u>20</u>	<u>30</u>	<u>40</u>	<u>50</u>
Сообрази- тельность	<u>10</u>	<u>20</u>	<u>30</u>	<u>40</u>	<u>50</u>
Внимание	<u>10</u>	<u>20</u>	<u>30</u>	<u>40</u>	<u>50</u>

10


баллов

Узнай фигуру по описанию.

У этой фигуры противоположные стороны
равны.





Прямоугольник



20 баллов

Сколько надо сделать разрезов, чтобы разделить овал на 4 части?

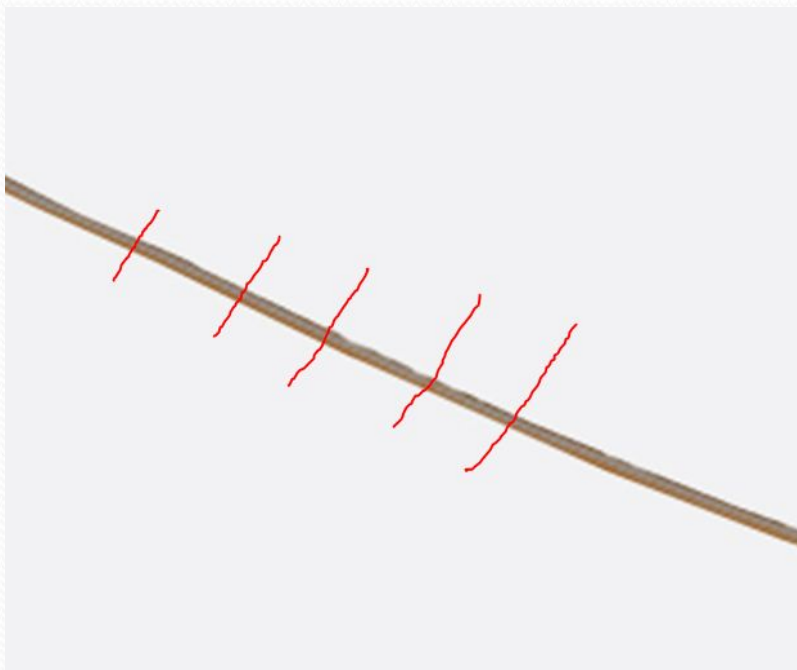


Два разреза



30 баллов

Верёвку разрезали в 5 местах.
Сколько частей получилось?

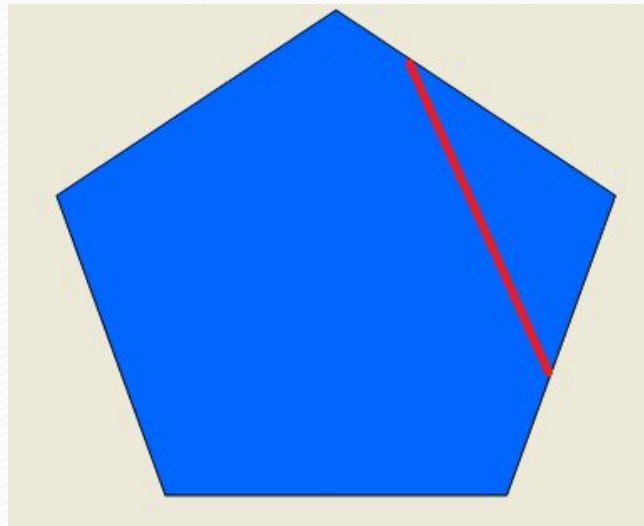


6 частей



40 баллов

У Катиного пятиугольника отломился один угол.
Как теперь называется Катина фигура?




Шестиугольник



50 баллов

Верно ли утверждение: «Если длины всех сторон прямоугольника равны, то этот четырёхугольник-квадрат»?



Нет, может быть ромб.



10 баллов

У Сашки в кармашке
Конфеты в бумажке.
Он дал по конфете
Свете и Пете, Ирине, Галине,
Марине и Нине,
И сам съел конфету.
А больше нету.
Сколько было конфет?

7 конфет.



20 баллов

В одном горшке 6 маленьких кактусов.

Сколько нужно купить ещё горшков, чтобы в каждом было по 2 кактуса?



Ещё нужно 2 горшка.



30 баллов

Столяр сделал 20 ножек для столов.

Для скольких столов он заготовил ножки?



Для 5 столов.

40 баллов

Найди 2 числа, если их сумма равна 15 и одно из них на 3 больше другого?



АЙ. МОЛОДЦА!!

$9+6=15$, $9 > 6$ на 3



50 баллов

Папе, маме и сыну вместе 50 лет.

Сколько лет будет им всем вместе через
2 года?



56 лет.





10 баллов

Во дворе гуляли гуси и собаки.

Мальчик посчитал их лапы.

Всего 8 лап.

Сколько было гусей и сколько было собак?



1 собака и 2 гуся: $4+2+2=8$ лап



баллов

В вазе было 9 роз. Мальчик подарил маме, бабушке и сестре по 3 розы, и три розы остались в вазе?

Как такое могло получиться?



Кому-то подарил вместе с вазой.



30 баллов

Сколько месяцев в году содержат

30 дней?

2015год

Январь							Февраль							Март							Апрель						
Пн	Вт	Ср	Чт	Пт	Сб	Вс	Пн	Вт	Ср	Чт	Пт	Сб	Вс	Пн	Вт	Ср	Чт	Пт	Сб	Вс	Пн	Вт	Ср	Чт	Пт	Сб	Вс
			1	2	3	4						1															
5	6	7	8	9	10	11	2	3	4	5	6	7	8	2	3	4	5	6	7	8	6	7	8	9	10	11	12
12	13	14	15	16	17	18	9	10	11	12	13	14	15	9	10	11	12	13	14	15	13	14	15	16	17	18	19
19	20	21	22	23	24	25	16	17	18	19	20	21	22	16	17	18	19	20	21	22	20	21	22	23	24	25	26
26	27	28	29	30	31		23	24	25	26	27	28		23	24	25	26	27	28	29	27	28	29	30			
														30	31												

Май							Июнь							Июль							Август						
Пн	Вт	Ср	Чт	Пт	Сб	Вс	Пн	Вт	Ср	Чт	Пт	Сб	Вс	Пн	Вт	Ср	Чт	Пт	Сб	Вс	Пн	Вт	Ср	Чт	Пт	Сб	Вс
				1	2	3	1	2	3	4	5	6	7													1	2
4	5	6	7	8	9	10	8	9	10	11	12	13	14	6	7	8	9	10	11	12	3	4	5	6	7	8	9
11	12	13	14	15	16	17	15	16	17	18	19	20	21	13	14	15	16	17	18	19	10	11	12	13	14	15	16
18	19	20	21	22	23	24	22	23	24	25	26	27	28	20	21	22	23	24	25	26	17	18	19	20	21	22	23
25	26	27	28	29	30	31	29	30						27	28	29	30	31			24	25	26	27	28	29	30
																											31

Сентябрь							Октябрь							Ноябрь							Декабрь							
Пн	Вт	Ср	Чт	Пт	Сб	Вс	Пн	Вт	Ср	Чт	Пт	Сб	Вс	Пн	Вт	Ср	Чт	Пт	Сб	Вс	Пн	Вт	Ср	Чт	Пт	Сб	Вс	
					1	2					1	2	3							1							1	2
7	8	9	10	11	12	13	5	6	7	8	9	10	11	2	3	4	5	6	7	8	7	8	9	10	11	12	13	
14	15	16	17	18	19	20	12	13	14	15	16	17	18	9	10	11	12	13	14	15	14	15	16	17	18	19	20	
21	22	23	24	25	26	27	19	20	21	22	23	24	25	16	17	18	19	20	21	22	21	22	23	24	25	26	27	
28	29	30					26	27	28	29	30	31		23	24	25	26	27	28	29	28	29	30	31				
														30														

Все, кроме февраля(11 месяцев)



Как из двух палочек сделать число 10?

X = 10

Римская цифра X.




50 баллов

У Бабы-яги собрались 15 внуков и внучек.
Количество внучек составляет половину
количества внуков.

Сколько внуков и внучек у Бабы-яги?

5 внучек и 10 внуков.



10 баллов

Росло 2 яблони. На каждой 5 больших веток, на каждой большой ветке по 4 маленьких, на каждой маленькой по 3 груши.

Сколько всего груш?



Ни одной, так как на яблоне груши не растут.



20 баллов

В город ехало 2 автобуса. По дороге они встретили 3 грузовика.

Сколько машин ехало в город?



2 автобуса.



баллов

Гном Загадалка опаздывал на встречу с друзьями. На конечной станции метро он, запыхавшись, вбежал в 1 вагон. На второй станции он пересел во 2 вагон, на третьей – в 3 и затем на каждой станции переходил в следующий вагон.

Из какого вагона Загадалка вышел на седьмой станции?



Из 6 вагона.



40 баллов

Валя - брат Саши, но Саша Вале не брат.

Кто Саша?



Саша- это сестра.



50 баллов

У Маши на руках 10 пальцев.
Сколько пальцев на 8 руках?



40 пальцев.



Молодцы

Использованные источники

<http://yandex.ru/images/>

Максимова Т.Н.

Интеллектуальный марафон: 1-4 классы. – М.:ВАКО, 2009.-208 с.- (Мастерская учителя).

- <http://www.liveinternet.ru/users/3331706/rubric/2936181/page7.html>
- <http://lori.ru/2090874>
- <http://cn.shopotam.ru/taobao/18817686397-item.html>
- <http://ne-kurim.ru/forum/threads/s-uverennostju.14060/page-3>
- <http://golddragon.info/page-seks-mama-papa-dochj-sin-forum>
- http://900igr.net/Detskie_prezentatsii/biologiya/Domashnie_-_na_ferme.files/kartinki_zhivotnykh_025_Gusi.html
- <http://igamberdieva.ru/amerikanskij-fokshaund/>
- http://forum.hobbyportal.ru/album_comment.php?pic_id=4754
- <http://latest-taxnews.rhcloud.com/preview/academic-calendar-2014-2015-gonzaga-university/>
- <http://xn--www-5cd4awhaz.openclass.ru/node/183129?page=3>
- <http://novostey.com/business/news514251.html>
- <http://www.millionka.ru/news/hotnews/8892-administraciya-goroda-navodit-poryadok-na-konechnyx-ostanovkax-transporta.html>
- <http://moeimja.kz/tolkovanie-snov/gnom.html>
- http://pictures.ucoz.ru/photo/detskie_kartinki/malchik_i_devochka_derzhatsja_za_ruki/3-0-1465
- <http://www.liveinternet.ru/users/3564066/rubric/1329070/>