

СВОЙСТВА ВЕЛИЧИН

Счёт до 20.

2 4 5 6 8

Вычислите

$$0 + 1 + 2 = 3$$

$$1 + 2 + 3 = 6$$

$$2 + 3 + 4 = 9$$

**Вставьте пропущенные
числа**

$$5 + 0 = 5$$

$$0 + 6 = 6$$

$$0 + 0 = 0$$

$$a + 0 = a \quad 0 + a = a$$

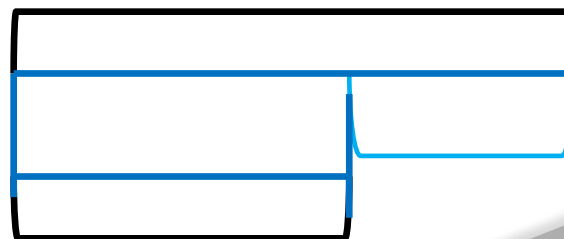
Игра «День-ночь»

$$9-6+5-4+1-3+7-8+3-2= 2$$

Дополните и решит



*В столовой варили кофе с
молоком. Налили 4 л воды и
2 л молока.*



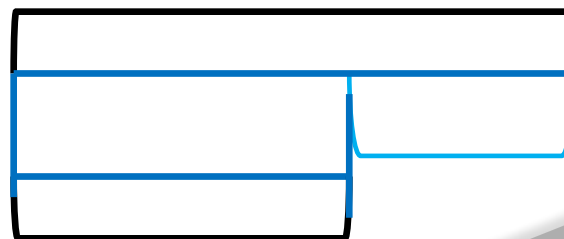
Дополните и решите задачу

К обеду было подано 9 груш

обедом съели несколько груш.

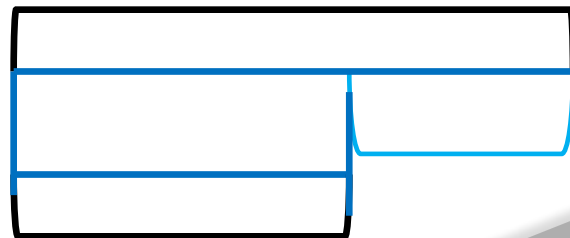
Сколько груш осталось после

обеда?



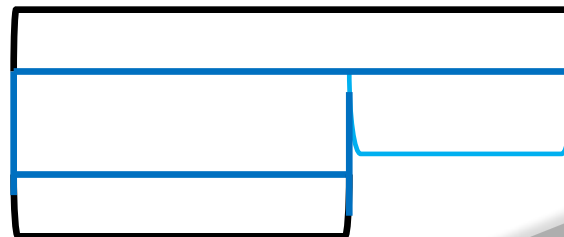
Дополните и решите:

В сарае стояли лопаты. 3 лопаты взяли. Сколько лопат осталось в сарае?




Дополните и решите задачу

На клумбе 2 пиона. Их на 5 меньше, чем роз.



Разбейте фигуры на части



$$T + П = \square$$

$$\square + \square = \square$$

$$\square - \square = \square$$

$$\square - \square = \square$$

$$3 + 3 = \square$$

$$\square + \square = \square$$

$$\square - \square = \square$$

$$\square - \square = \square$$

**Задания подготовлены по книге «Устные упражнения на уроках математики. 1 класс» (авт. Л.Г. Петерсон, И.Г. Липатникова)
Презентация выполнена Галановой Е.В., учителем начальных классов
ГБОУ школы №328 Санкт-Петербурга**