

# Связь между суммой и слагаемыми

1 класс

Моро(с.24)

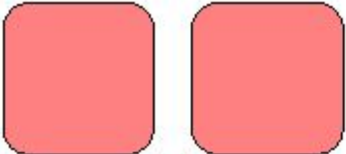
Подготовила Рафальская В.В.

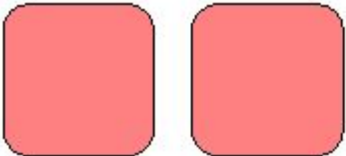
**Натasha – 9**

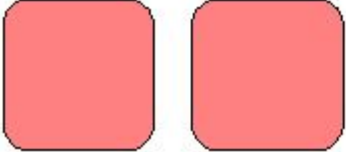
**Оля – 8**

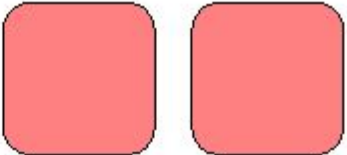
**Катя 10**

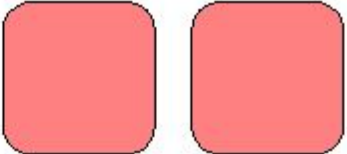
- Оле 9 лет, Марина на 4 года моложе. Сколько лет Марине?
- В Нашем доме 3 этажа, а дом, стоящий на против, на 6 этажей выше. Сколько этажей в доме напротив?
- В пакете 4 яблока, а груш 2 раза по столько же. Сколько груш в пакете? На сколько груш больше, чем яблок? На сколько яблок меньше, чем груш?

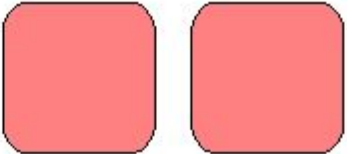
**7**  **= 9**

**2**  **= 6**

**3**  **= 10**

 **4 = 9**

 **2 = 7**


 **4 = 8**

***Слагаемое слагаемое***




***СУММА***


$$4 + 3 = 7$$




$$7 - 4 = 3$$



$$7 - 3 = 4$$





 $4 + 3 = 7$

 $7 - 4 = 3$

 $7 - 3 = 4$