

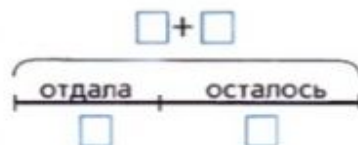
Табличное сложение и вычитание

Королёва Ирина Николаевна
учитель начальных классов
МКОУ СОШ №2
г.Нефтекумск



4 Реши задачи Лены и Вовы.

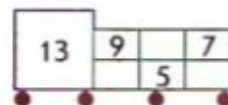
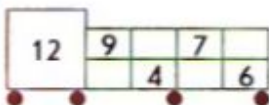
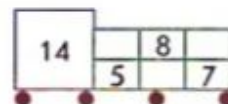
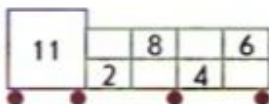
Л. Лена собрала 6 белых грибов и 8 подберёзовиков. Семь грибов она отдала Вове. Сколько грибов у неё осталось?



В. В вазе лежало 15 яблок. Три яблока взяла Катя, 7 – Петя, и несколько яблок взял Вова. Сколько яблок мог взять Вова?

сумма

слагаемое



5 Какие числа спрятались в «окошках»?

четырёхугольник

квадрат

треугольник

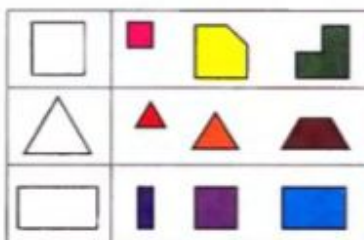
прямоугольник

пятиугольник

шестиугольник

6 *Из каких фигур справа ребята могут составить фигуру слева?

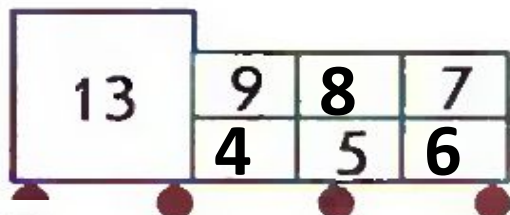
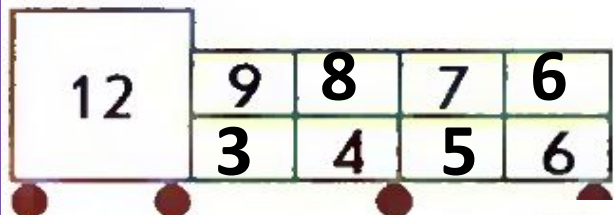
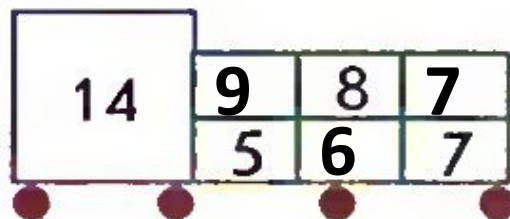
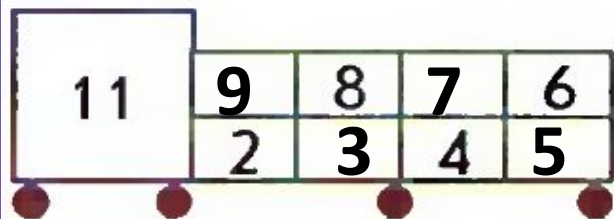
К.



П.

В.

5 Какие числа спрятались в «окошках»?



+	0	1	2	3	4	5	6	7	8	9
0	0	1	2	3	4	5	6	7	8	9
1	1	2	3	4	5	6	7	8	9	10
2	2	3	4	5	6	7	8	9	10	11
3	3	4	5	6	7	8	9	10	11	12
4	4	5	6	7	8	9	10	11	12	13
5	5	6	7	8	9	10	11	12	13	14
6	6	7	8	9	10	11	12	13	14	15
7	7	8	9	10	11	12	13	14	15	16
8	8	9	10	11	12	13	14	15	16	17
9	9	10	11	12	13	14	15	16	17	18

выражение

значение
выраженияскладываем
и вычитаем
по частям

1 На какие группы можно разбить эти выражения?

$17 - 9$

$6 + 8$

$7 + 7$

$14 - 6$

$13 - 6$

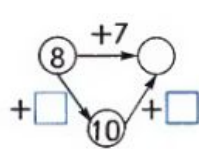
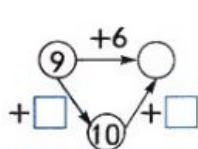
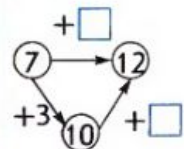
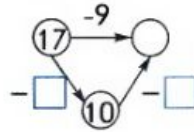
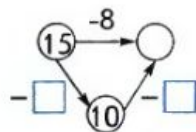
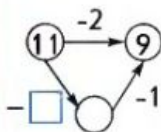
$5 + 9$

$8 + 6$

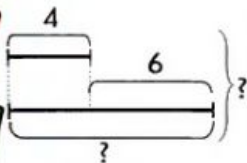
$16 - 8$

$11 - 3$

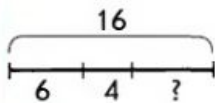
2 Какие числа забыл записать Вова?



3 Ребята перепутали тексты задач и схемы. Как им навести порядок в записях?

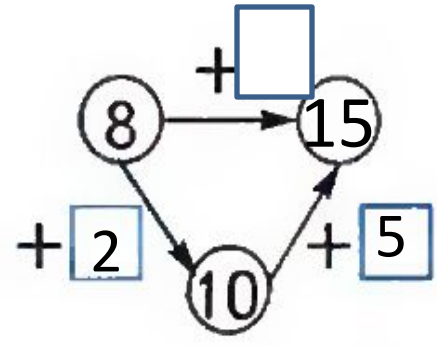
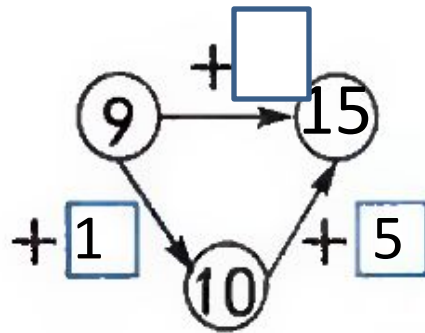
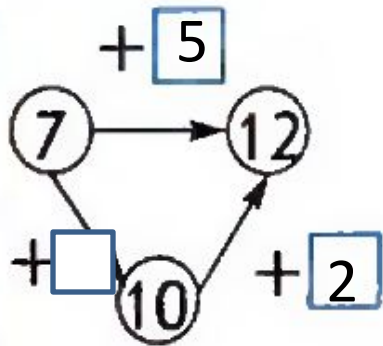
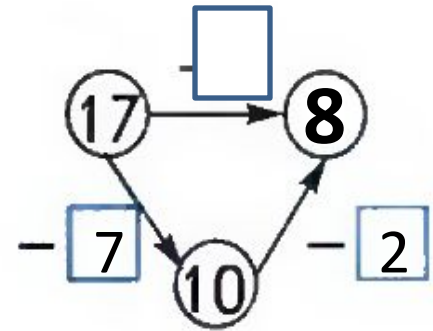
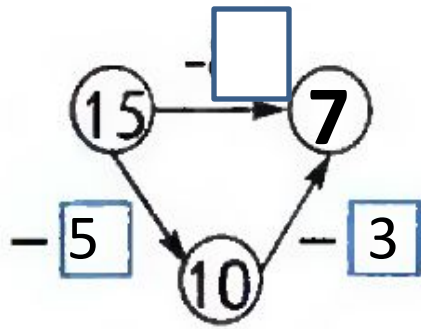
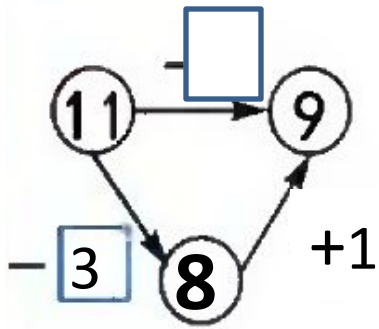


К. У курицы 16 цыплят: 6 чёрных, 4 белых, остальные – пёстрые. Сколько у курицы пёстрых цыплят?



П. Петя написал 4 словарных слова, а Катя – на 6 слов больше. Сколько слов написали Петя и Катя?

2 Какие числа забыл записать Вова?



Вычисли

$12 - 4$


$15 - 7$

$13 - 7$

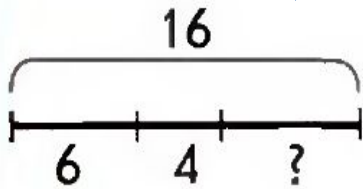
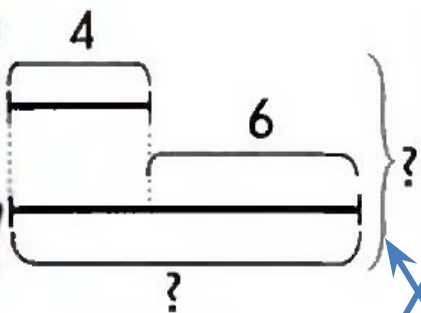
$14 - 9$

$16 - 8$

$11 - 7$



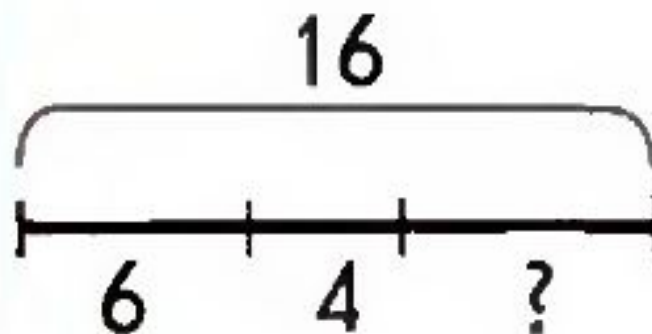
3 Ребята перепутали тексты задач и схемы. Как им навести порядок в записях?



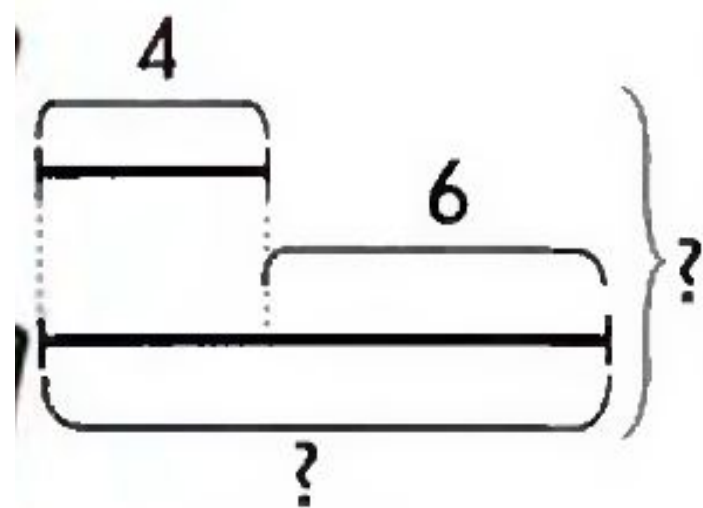
К. У курицы 16 цыплят: 6 чёрных, 4 белых, остальные – пёстрые. Сколько у курицы пёстрых цыплят?

П. Петя написал 4 словарных слова, а Катя – на 6 слов больше. Сколько слов написали Петя и Катя?

К. У курицы 16 цыплят: 6 чёрных, 4 белых, остальные – пёстрые. Сколько у курицы пёстрых цыплят?



П. Петя написал 4 словарных слова, а Катя – на 6 слов больше. Сколько слов написали Петя и Катя?



Буратино решил 7 примеров, а Мальвина на 4 примера больше. Сколько примеров решила Мальвина?

