

$$9 + \underline{2} = 11$$

10

$$8 - \underline{5} = 3$$

5

$$4 + \underline{10} = 14$$

6

$$\underline{13} - 10 = 3$$

1

$$\underline{20} - 1 = 19$$

$$10 + \underline{\quad} = 20$$



10

10

10

4



5

1




10


10

10

9



8



7



$$16 \text{ см} = \mathbf{.1.} \text{ дм } \mathbf{.6.} \text{ см}$$

$$2 \text{ дм} = \mathbf{2.0} \text{ см}$$

$$1 \text{ м } 3 \text{ см} = \mathbf{1.3} \text{ см}$$

$$18 \text{ см} = \mathbf{.1.} \text{ дм } \mathbf{...} \text{ см}$$



Вова – 6

Катя – ?, на 4 больше

$$6 - 4 = 2$$

$$6 + 4 = 10$$

$$6 + 4 + 6 = 16$$



Вова – 6

Катя – ?, на 4 больше

} ?

$$6 - 4 = 2$$

$$6 + 4 = 10$$

$$6 + 6 + 4 = 16$$



Вова – 6
Катя – 4

↑
↓


На ? б

$$6 - 4 = 2$$

$$6 + 4 = 10$$

$$6 + 4 + 6 = 16$$





слагаемое	4	7	8	5	9
слагаемое					
Сумма	10	10	10	10	10



2, 4, 6, **8**, **10**

1, 3, 5, **7**, **9**

8, 6, 4, **2**, **0**



**В корзине лежало 4
яблока. Когда в
корзину положили
ещё несколько
груш, в ней
оказалось 8
фруктов. Сколько
груш положили в
корзину?**

**Серёжа решил
задачу так.**

$$8 - 4 = 4$$

**Согласен ли ты
с его решением.**

да

нет



**На стоянке
стояло 3
грузовых
автомобиля и 7
легковых.
Сколько всего
машин стояло
на стоянке?**


$$7 - 3 = 4$$

$$7 - 3 = 10$$

$$7 + 3 = 10$$

$$3 + 7 = 10$$



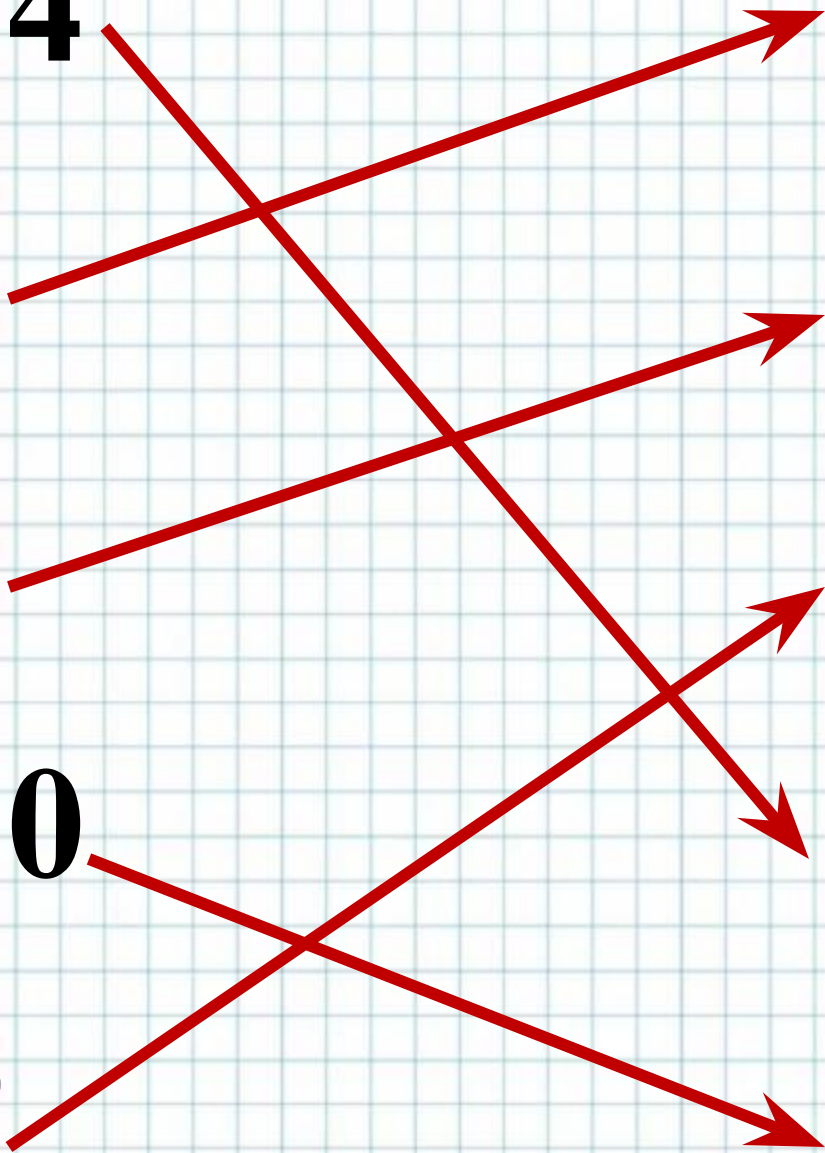
 $10 + 4$

$8 + 4$

$7 + 4$

$5 + 10$

$4 + 9$




$$9 + 4 = 13$$

8

$$11 - 2 = 9$$

11

$$6 + 5 = 11$$

5

$$13 - 10 = 3$$

12

$$4 + 7 = 11$$

11

$$12 - 4 = 8$$

13


$$15 \text{ см} = \mathbf{.1.} \text{ дм } \mathbf{.5.} \text{ см}$$

$$20 \text{ см} = \mathbf{.2.} \text{ дм } \mathbf{.0.} \text{ см}$$


$$1 \text{ дм } 9 \text{ см} = \mathbf{1.9} \text{ см}$$

$$1 \text{ дм } 3 \text{ см} = \mathbf{1.3} \text{ см}$$

$$11 \text{ см} = \mathbf{.1.} \text{ дм } \mathbf{.1.} \text{ см}$$

Боль. – 8


Маль. - ?, на 5 меньше



$8 - 5 = 3$ маленькие

$8 + 3 = 11$ всего





У Коли – 4 ↑
У Тони – 12 ↓ На ? м

$$12 - 4 = 8$$



Было – 11


Взяли – 7

Осталось - ?

$$11 - 7 = 4 \text{ осталось}$$


Сколько шариков у Светы?

1. У Светы 12 шариков, из них 5 зелёных.
2. У Светы есть шарики.
3. У Светы 7 красных и 5 зелёных шариков.



**На столе стояло
когда поставили
несколько их ст
Сколько кубиков
Миша решил з**

$$10 - 7 = 3$$



**Павлик купил 8 тетрадей в
клеточку, а в линейку на 2
меньше. Сколько тетрадей
купил Павлик?**


$$1 \text{ дм } 3 \text{ см} < 14 \text{ см}$$

$$18 \text{ см} < 2 \text{ дм}$$

$$2 \text{ дм} > 1 \text{ дм } 9 \text{ см}$$

$$11 \text{ дм} > 11 \text{ см}$$

$$1 \text{ дм } 4 \text{ см} < 15 \text{ см}$$

Тетрадь стоит 5 рублей а
пенал 8 рублей. На
сколько тетрадь дешевле
пенала?

Купили 8 булочки и 5
пирожков. Сколько
булочек и пирожков
купили всего?

В аквариуме плавали 13
рыбок. Когда несколько
рыбок выловили, там
осталось 8 рыбок.
Сколько рыбок
выловили?


$$5 + 8 = 13$$

$$13 - 8 = 5$$

$$13 - 5 = 8$$

$$8 - 5 = 3$$

$$8 + 5 = 13$$



$$8 - 3 + 2 = 7$$

$$9 + 6 - 5 = 10$$

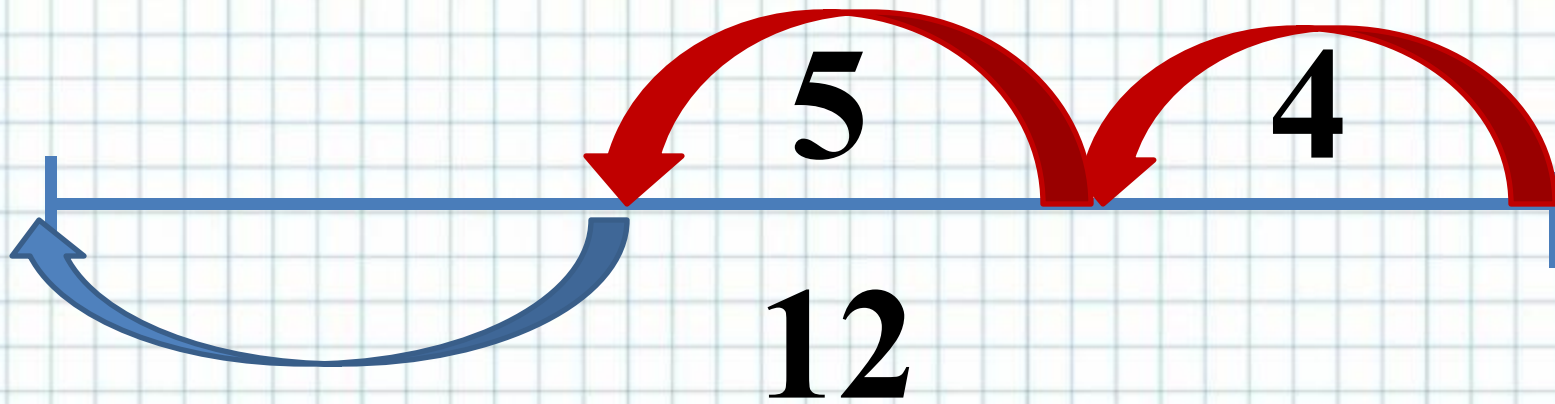
$$10 - 4 + 7 = 13$$

$$9 + 2 - 7 = 4$$

$$7 + 4 - 5 = 6$$



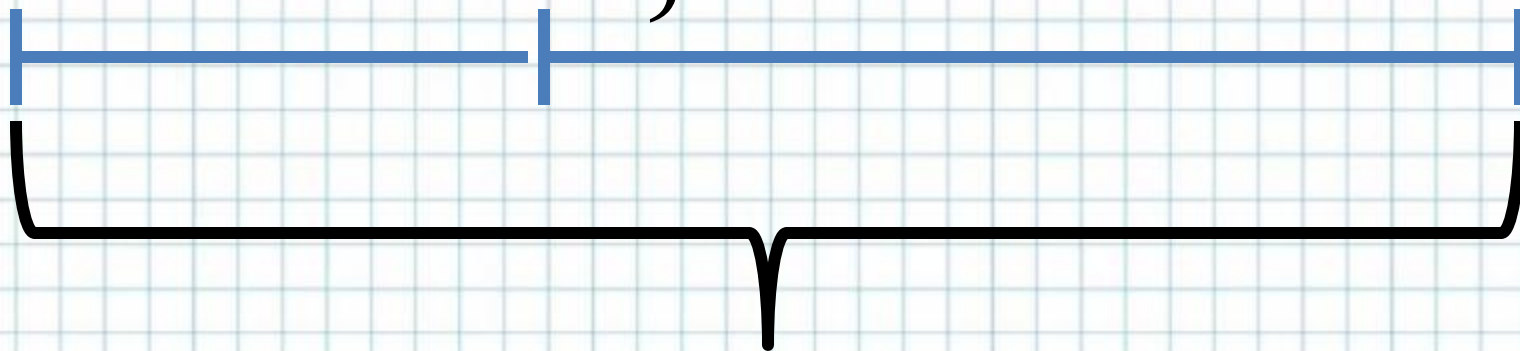
$$12 - 4 - 5 = 3$$



?

$$7 + 3 + 7 = 17$$


7 ?, на 3 б.



?



д	4	5	7	6	9	8
о						
10						
д	16	15	13	14	11	12
о						
10						



**У Пети 4
оловянных
солдати́ков и 7
пластмассовых.**


**На сколько
оловянных
солдати́ков
меньше, чем
пластмассовых?**

**Маша решила
задачу так:**

$$7 - 4 = 3$$

**Миша решил
задачу так:**

$$7 + 4 = 11$$



**Из кувшина
отлили сначала
3 стакана
молока, а потом
ещё 7. Сколько
стаканов молока
отлили из
кувшина?**

**Маша решила
задачу так:**

$$7 - 3 = 4$$

**Миша решил
задачу так:**

$$7 + 3 = 10$$



В коробке было
10 лампочек.

Когда взяли
несколько, там
осталось 3.

Сколько
лампочек
взяли?

Маша решила
задачу так:

$$10 - 3 = 7$$

Миша решил
задачу так:

$$10 - 7 = 3$$

Вова решил
задачу так:

$$10 + 3 = 13$$



**СКОЛЬКО СЛИВ
ВСЕГО?**

**В вазе 10
слив. Дети
съели 4
СЛИВЫ.**

**СКОЛЬКО СЛИВ
ОСТАЛОСЬ?**

**На сколько
слив больше?**




**В корзине 6
белых
грибов и 5
рыжиков.**

**Сколько
грибов всего?**

**Сколько
грибов
осталось?**

**На сколько
белых
больше, чем
рыжиков?**



**У Вовы
было 8
рублей.
Мама дала
ему ещё 3
рубля**

**Сколько денег
стало у
Вовы?**

**Сколько денег
осталось?**

**Сколько денег
было у
Вовы?**